

Faiq Hacıyev

AZƏRBAYCAN RESPUBLİKASININ
YOL HƏRƏKƏTİ QAYDALARINA
ƏSASƏN HAZIRLANMIŞ
İMTAHAT TESTLƏRİ
(DİSK İLƏ)

Təknur - 2012

AzTU-nun «Mühəndis biznesi və menecment» fakültəsinin şurasının 14 aprel 4011-ci il tarixli qərarı ilə (Protokol № 8) nəşr olunması üçün tövsiyyə olunan dərs vəsaiti avtomobil nəqliyyatı üzrə təhsil alan ali və orta ixtisas məktəbləri üçün nəzərdə tutulmuşdur.

Elmi redaktor: prof. S.Q.Cümşüdəv

Faiq Maqsud oğlu Hacıyev.

Azərbaycan Respublikasının Yol hərəkəti qaydalarına əsasən hazırlanmış imtahat testləri (disk ilə). Bakı: Təknur, 2012, 104 s.

İSBN: 978-9952-445-03-8

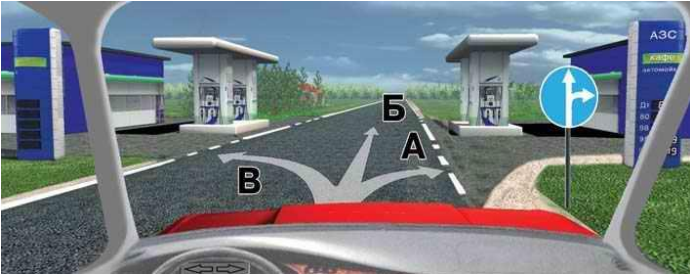
«Təknur» 2012

Çapa imzalanıb: 11.07.2012

Formatı 60x90 1/8. F.ç.v. 13. Sayı 300 ədəd.

Qiyməti müqavilə ilə

Təknur



I.Siz hərəkəti hansı istiqamətə davam etdirə bilərsiniz?

- 1.Ancaq B.
- 2.A və B.
- 3.Hər üç istiqamətə.

(m.65 p III)



II.Sizə yol ayırıcıdan hansı istiqamətdə hərəkət etməyə icazə verilir?

1. Düz sağa və geri.
- 2.Düz və sağa.
- 3.Ancaq düz.

(m.63,66)



III.Bu nişan yolun hansı tərəfində göstərilən üsulla durmağa icazə verir?

- 1.Yolun sağ tərəfində.
2. Yolun sol tərəfində.
3. Yolun hər iki tərəfində.

(m.66p.III)



IV.Bu ox işarələri nəyi göstərir?

- 1.Yolun daralan hissəsinə yaxınlaşmanı.
- 2.Yolun sağa dönməsini.
- 3.Hərəkətin ancaq sağ zolaqda davam etdirilməsi haqqında məlumat verir.

(m.69pVI-19)



V.Belə vəziyyətdə sağa dönmə işarəsi verməyə ehtiyac varmı?

- 1.Hə.
- 2.Yox.
- 3.Arxadan nəqliyyat gəlirsə vardır.

(m.42 pl)



VI.Hər ikisi eyni zamanda yerdəyişmə aparır. Kim yol verməlidir?

- 1.Motosikl sürücüsü.
- 2.Avtomobil sürücüsü.

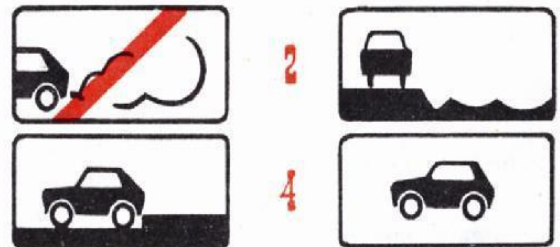
(m.42pV)



VII.Geri dönmə hansı troyektoriya üzrə düzgün yerinə yetirilir?

- 1.Ancaq B.
- 2.Ancaq A.
- 3.Hər ikisi üzrə.

(m.42pl)



VIII.Səki kənarında dayanma üsulunu göstərən nişan hansıdır?

- 1.İkinci.
- 2.Üçüncü.
- 3.Birinci və dördüncü.

(m.68)

IX. Qoşqusu olan nəqliyyat vasitəsini yedəyə almaq olarmı?

1. Ancaq sərt birləşdirici ilə olar.
2. Olmaz.
3. Ümumi uzunluq 24 m-dən çox deyildirsə olar.

(m.55pVI)

X. Alkoqol sürücünün reaksiyasına necə təsir edir?

1. Təsir etmir.
2. Reaksiya vaxtı azalır.
3. Reaksiya vaxtı çoxalır.



I. Yaşayış məntəqələrindən kənarında sol zolaqda hərəkət edən minik avtomobili hansı sürətlə hərəkət edə bilər?

1. 50km/s-dan aşağı, 90km/s-dan yuxarı olmamalıdır.
2. 50km/s-dan aşağı, 70km/s-dan yuxarı olmamalıdır.
3. 50 km/s-dan yuxarı olmamalıdır. (m.55,68)



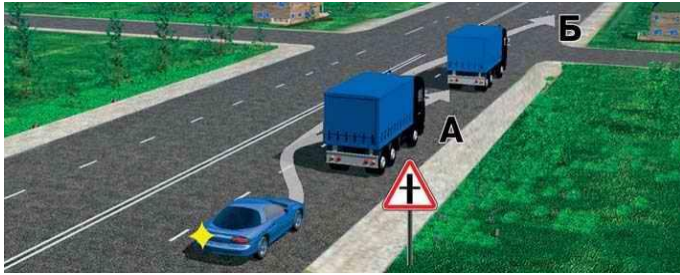
1



2

II. Hansı nişan bilavasitə piyadalar keçidinin qarşısında quraşdırılır?

1. Birinci.
2. İkinci.
3. Hər ikisi. (m.62,66)



III. Minik avtomobili ötməni hansı trayektoriya üzrə düzgün yerinə yetirir?

1. Ancaq A.
2. Ancaq B.
3. Hər ikisi üzrə (m.51pV-1)

IV. Yaşlı adamın ürəyini xaricdən massaj etdikdə döş qəfəsini hansı tezliklə hərəkət etmək lazımdır?

- 1) Dəqiqədə 90 dəfə.
- 2) Dəqiqədə 120 dəfə.
- 3) Dəqiqədə 60 dəfə.



V. Göstərilən yerdə belə manevr etmək olarmı?

1. Olar.
2. Olmaz. (m.69pVII-4)

VI. Sərnişinlərin və bərkidilməyən yüklərin geriye yerdəyişməsi nə ilə əlaqədar ola bilər?

- 1) Yalnız sərt tormozlama ilə.
- 2) Yalnız sürəti kəskin artırmaqla.
- 3) Kəskin tormozlama və sürətin artırılması ilə.



VII. Sola dönərkən kimə yol verməlisiniz?

1. Ancaq minik avtomobilinə.
2. Ancaq avtobusa.
3. Hər ikisinə.
4. Heç birinə. (m.77pII)



VIII. Bu nişanın təsir zonasında nəqliyyat vasitəsinin maksimal hərəkət sürəti nə qədər olmalıdır?

1. 20 km/saat.
2. 30 km/saat.
3. 40 km/saat. (m.45pII)

IX. İnzibati qayda pozuntusuna görə saxlanılan nəqliyyat vasitəsi nə vaxta qədər saxlanıla bilər?

1. Saxlanma protokolunun bağlanmasına qədər.
2. Saxlanmanın səbəblərinin aradan götürüldüyü vaxta qədər.
3. İnzibati qayda üzrə işə baxılana qədər. (İnzibati xətlər m.407.2)

X. Hansı yol nişanlarının tələblərinə əməl etməmək balla qiymətləndirilir?


1. Mexaniki nəqliyyat vasitələrinin hərəkəti qadağandır
2. «Giriş qadağandır» və «Hərəkət qadağandır».
3. Ötmək qadağandır.
4. Hər üçün. (İnzibati xətlər m.152.2)



I. Siz körpüyə qarşidan gələn nəqliyyat vasitəsindən tez daxil ola bilərsinizmi?

1. Hə.
2. Yox.

(m.63)



II. Yan küçədən gələn minik avtomobilinin sürücüsü göstərilən nişanlardan hansını görür?

1. Birincini.
2. İkincini.
3. Üçüncünü.

III. Mühərriklə tormozlama ilə sərt enişi düşən sürücü ötürməni necə seçməlidir?

1. Eniş sərt olduqda ötürmə yüksək olmalıdır.
2. Eniş sərt olduqda ötürmə aşağı olmalıdır.
3. Ötürmənin seçilməsi enişin sərtliyindən asılı deyildir.



IV. Reversiv svetoforun söndürülmüş vəziyyətində sizə avtobusu ötməyə icazə verilirmi?

1. Verilir.
2. Verilmir.
3. Verilir, əgər avtobusun hərəkət sürəti 30 km/saat-dan azdırsa.

(m.59pVIII)



V. Sağ zolaqdan hansı istiqamətdə hərəkət etməyə icazə verilir?

1. Sola və geri.
2. Düz və sola.
3. Ancaq sola.


(m.69)



VI. Əlini yuxarı qaldırmaqla sürücü sizə hansı işarəni verir?

1. Dayanaraq motosikletə yol vermək istədiyini.
2. Hərəkəti düz istiqamətə davam etdirmək istədiyini.
3. Sağa dönmək istədiyini.

(m.42pII)



VII. Sol zolaqdan sağ zolağa yerdəyişmə apararkən hansı şəkildə sağ zolaqda hərəkət edən avtomobilə yol verməlisiniz?

1. Soldakı
2. Sağdakı
3. Hər ikisində

(m.42pV)



VIII. Hansı nişanda minik avtomobilinə 110 km/saat sürətlə hərəkət etməyə icazə verilir?

1. Birincidə.
2. İkincidə.
3. Hər ikisində.
4. Heç birində.

(m.50pII)

IX. Qəza dayanma nişanı hansı yerlərdə 30 m-dən daha yaxın məsafəyə qoyula bilər?

1. Yaşayış məntəqələrində
2. Yaşayış məntəqələrində hərəkət intensiv olan küçələrdə
3. Hər iki halda

(m.55pIII)

X. Körpücük sümüyü sınımış zərərçəkənə ilk tibbi yardım göstərmək məqsədilə nə etmək lazımdır?

1. Çiyinə iki ədəd şin bağlamaq lazımdır.
2. Qolu boyundan dəsmalla asmaq lazımdır.
3. Dirsəkdən düz bucaq altında bükülmüş qolu boyundan dəsmalla asmaq və bint ilə gövdəyə bağlamaq.



I. Göstərilən yerdən geri dönməyə icazə verilirmi?

1. Verilir.
2. Verilmir.
3. Yaxınlaşmaqda olan qatar yoxdursa verilir.


(m.42pXII)



II. Bu nişan quraşdırılan yol ayrıcından düz getməyə icazə verilirmi?

1. Hə.
2. Yox.

(m.66)



III. Motosikleti ötməyə icazə verilirmi?

1. Verilir.
2. Verilmir.

(m.51)



IV. Oxlarla işarələnmiş istiqamətlərdə getmək üstünlüyü kimə verilir?

1. Avtobus sürücüsünə.
2. Minik avtomobilin sürücüsünə.
3. Hər ikisi eyni zamanda keçmək hüququna malikdir.

(m.76pII)

V. İşıq cihazlarında işıq paylayıcılar işıq cihazının tipinə uyğun olmadıqda NV-nin istismarına icazə verilirmi?

1. Verilmir.
2. İş gününün sonuna qədər icazə verilir.

(1 sayılı əlavə M III p 4)



VI. Sola dönərkən:

1. Sol tərəfdən gələn nəqliyyata yol verməliyəm.
2. Yol ayrıcını birinci keçməliyəm.

(m.77pIII)



VII. Siz motosikletçiyə yol verməli-sinizmi?

1. Hə.
2. Yox.

(m.42pIV)



VIII. Bu vəziyyətdə siz:

1. İşarələnmiş dayanacaqdan hərəkətə başlayan avtobusa yol verməliyəm.
2. Avtobus hərəkətə ikinci zolağa çıxmaqla başladığı üçün yol verməməliyəm.

(m.48pV)

IX. dəmiryol keçidlərinə ən azı hansı məsafədən yaxında durmaq qadağandır?

1. 100m
2. 50m.
3. 20m.
4. 10m.

(m.52pIV-4)

X. Yüklü avtomobilinin sükan çarxının lüftü ən çox nə qədər olmalıdır?

1. 28°
2. 30°
3. 25°
4. 20°


(1 sayılı əlavə pII)



I. Siz örtüksüz yoldan çıxarkən daxil olursunuz:

1. Baş yola.
2. Eyni əhəmiyyətli yola.

(m.1p9)




II. Hansı nəqliyyat vasitələrinin sürücüləri yol nişanının tələbini pomuşdur?

1. Motosikletlərin.
2. Avtomobilin.
3. Avtomobilin və yan qoşqulu motosikletin.
4. Bütün nəqliyyat vasitələrin.

(m.64pV)

III. Tormoz sistemi olmayan qoşqu ilə hərəkət avtomobilin tormoz yoluna necə təsir edir?

1. Təsir etmir.
2. Tormoz yolu çoxalır.



IV. Hər istiqamətə üç hərəkət zolağı olan yollarda maksimum kütləsi 3,5 tondan çox olan nəqliyyat vasitələrinin hansı zolaqda hərəkətinə icazə verilmir?

1. Orta zolaqda.
2. Sol kənar zolaqda.
3. Hər ikisində icazə verilmir.

(m.49pV)



V. Sərnişin mindirmək və ya düşürmək üçün burada dayanmaq olarmı?

1. Olar.
2. Olmaz.
3. Marşrut nəqliyyat vasitəsinə maneçilik törədilmirsə olar.

(m.52p4)



VI. Göstərilən nişanlanma xətləri sürücüyə nəyi xəbərdar edir?

1. Yolun hərəkət hissəsinin daralan sahəsinə yaxınlaşmanı
2. Əks istiqamətlərdə nəqliyyat axınlarını ayıran bütöv xəttə yaxınlaşmanı
3. Hər iki halda istifadə oluna bilər.

(m.69p19)



VII. Sağa dönməni hansı traektoriya üzrə yerinə yetirməlisiniz?

1. Ancaq A.
2. Ancaq B.
3. Hər ikisi üzrə.

(m.42pVII)



1



2

VIII. Hansı nişanda sola dönməyə icazə verilir?

1. Birincidə
2. İkincidə.
3. Hər ikisində.
4. Heç birində

IX. Avtomobilin hansı cihazlarının nasazlığı yol nəqliyyat hadisəsinin baş verməsinə səbəb ola bilər?

1. Yanacaq sisteminin.
2. Aşıdırma sisteminin.
3. İşıqlanma və siqnalizasiya sistemlərinin.
4. Hər üçünün.

X. Minik avtomobilinin sükan çarxının lüftü ən çox nə qədər olmalıdır?

1. 10°
2. 15°
3. 20°
4. 25°

(1 saylı əlavə pII)



I. Nəqliyyatda başqa şəxs yoxdursa dəmiryol keçidində məcburi dayanma zamanı sürücü nə etməlidir?

1. Həyəcan signalı verib, dayan signalı vermək üçün qatarın gəlmə ehtimalı olan tərəfə qaçmalıdır.
2. Keçidin azad edilməsi üçün tədbirlər görməli, ümumi həyəcan signalı verməli, qatar yaxınlaşdıqda həmin istiqamətə tərəf qaçıb dayan signalı verməlidir.

(m.44pV)



1



2

II. Hansı nişanda 40 km/saat – sürətlə hərəkət etməyə icazə verilir?

1. Birincidə.
2. İkincidə.
3. Heç birində.



III. Bu yolda sizə hansı zolaqda hərəkət etməyə icazə verilir?

1. Ancaq sağda.
2. Hər ikisində.

(m.49pl)



IV. Göstərilən yerdə dayanıb sərnişin götürmək olarmı?

1. Olar.
2. Olmaz.
3. Marşrut nəqliyyat vasitələrinə manəə yaradılmadıqda olar.

(m.52pIV-7)



V. Keçmək üstünlüyü hansı sürücüyə verilir?

1. Yük avtomobilinin sürücüsünə.
2. Minik avtomobilinin sürücüsünə.

(m42pXV)



VI. Sağa dönmək üçün:

1. Minik avtomobilinə yol verməliyəm.
2. Yol vermədən dönməliyəm.

(m77pIV)



VII. Sola dönmək üçün kimə yol verməlisiniz?

1. Hər iki tramvaya.
2. Ancaq tramvaya A.
3. Ancaq tramvay A və minik avtomobilinə.

(m.77 II,III)



VIII. Yol ayrıcında geri dönmə düzünmü yerinə yetirilir?

1. Hə.
2. Yox.

(m.42pVI)

IX. Hansı hallarda sürücü nəqliyyat vasitəsini idarə etməkdən kənarlaşdırılır?

1. Sərxoş olduqda
2. Sürücülük vəsiqəsi olmadıqda
3. Hər iki halda.

(inzibati xətlər m.406)

X. Nəqliyyat vasitələrinin icazə verilən maksimal kütləsi nəyə deyilir?

1. İstehsalçı zavod tərəfindən təyin olunmuş yüklə, sürücü və sərnişinlərlə birgə nəqliyyat vasitəsinin kütləsidir.
2. Nəqliyyat vasitəsinə istehsalçı zavod tərəfindən təyin olunmuş yük götürmə qabiliyyətidir.

(m.1p47)



I. Bu yol neçə hərəkət zolağından ibarətdir?


1. İki.
2. Üç.
3. Bir.

(m.1p15)

II. Hansı halda uşaqları qrup halında daşımağa icazə verilir?

1. Yük avtomobillərinə 2 nəfər müşahidəçi olduqda.
2. Ban furqonda bir nəfər müşahidəçi olduqda.
3. Avtobusda müşahidəçi olmadıqda.
4. Hər üçündə icazə verilir.
5. Heç halda icazə verilmir.

(M 56 p VII,IX-3)



III. Hansı nişan ancaq üzərindən asıldığı hərəkət zolağına təsir göstərir?

1. Ancaq A.
2. B və B.
3. Ancaq B.
4. Hər üçü.

(m.64,66)



IV. Bu nişan nəyi göstərir?

1. Hərəkətin ancaq ikinci zolaqda davam etdirilməsini.
2. Hərəkətin ancaq qarşı hərəkət zolağına çıxmaqla davam etdirilməsini.
3. Hərəkətin hər iki halda davam etdirilməsinin mümkün olduğunu.

(m.66)



V. Hansı nəqliyyat vasitəsinə düz getməyə icazə verilir?

1. Minik və yük avtomobilinə.
2. Yük avtomobili və avtobusa.
3. Ancaq yük avtomobilinə.
4. Bütün nəqliyyat vasitələrinə.

(m.59pIV)



VI. Baş yolla hərəkəti davam etdirərkən dönmə işarəsinin verilməsinə ehtiyac varmı?

1. Yoxdur.
2. Arxadan nəqliyyat vasitəsi gəlicə verilməlidir.
3. Bütün hallarda verilməlidir.

(m.42pIII)



VII. Kim yol verməlidir?

1. Yük avtomobilin sürücüsü.
2. Minik avtomobilinin sürücüsü.

(m.42pIV)



VIII. Hansı nişanda sola dönməyə icazə verilir?

1. Birincidə.
2. İkincidə.
3. Hər ikisində.
4. Heç birində.

(m.66,68)

IX. Arterial qanaxmanı necə dayandırmaq lazımdır?

1. Yaranın üstünə sıxıcı sarğı bağlamaqla.
2. Yaradan yuxarı hissədə qaytan bağlamaqla.
3. Yaradan aşağı hissədə qaytan bağlamaqla.

X. Dayandırılması səbəbini araşdırmaq üçün nəqliyyat vasitəsi DYP-i əməkdaşlarının yanında hansı müddətə qədər saxlanıla bilər?

1. 1 saata qədər
2. 2 saata qədər
3. 3 saata qədər
4. 4 saata qədər

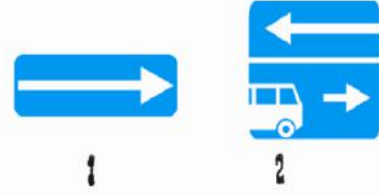
(inzibati xətlər m.407.2)



I. Geri dönməni hansı traektoriya üzrə yerinə yetirməlisiniz?

1. Ancaq A.
2. Ancaq B.
3. Hər ikisi üzrə.

(m.49pIV)



II. Bu nişanların hansında düz getməyə icazə verilir?

1. Birincidə.
2. İkincidə.
3. Hər ikisində.
4. Heç birində.

(m.66,68)

III. Yanğın söndürən minik avtomobilinin harasında qoyulmalıdır:

1. Salonda.
2. Yük yerində.
3. Sürücü istədiyi yerdə qoya bilər.



IV. Bu nişan qoyulan yolda maksimal kütləsi 3,5 tondan artıq olmayan avtomobilinin maksimal sürəti nə qədər olmalıdır?

1. 70 km/saat.
2. 90 km/saat.
3. 110 km/saat.

(m.50pII-2)



V. İcazə verilən hərəkət istiqamətini göstərin:

1. Ancaq düz.
2. Düz və geri.
3. Ancaq geri.

(m61pVI)



VI. Yol ayrıcını düz keçmək üçün kimə yol verməlisiniz?

1. Heç kimə.
2. Minik avtomobilinə.
3. Motosikletə.
4. Hər ikisinə.

(m.77pIII)



VII. Siz geri dönmək üçün kimə yol verməlisiniz?

1. Ancaq minik avtomobilinə.
2. Hər iki nəqliyyat vasitəsinə.

(m.77pIV)

VIII. Hansı nəqliyyat vasitələrinin sərnişinlərlə yanacaq doldurma məntəqəsinə daxil olması qadağan deyildir?

1. Adamlar daşıyan yük avtomobillərinin.
2. Minik avtomobillərinin.
3. Avtobusların.
4. Hər üçünün daxil olması qadağandır.

(M 56 p XI)

IX. Hansı halda yük avtomobillərinin maksimal sürəti saatda 50 kilometrədən çox ola bilər?

1. Yedəyində qoşqu apardıqda.
2. Yedəyində nəqliyyat vasitəsi apardıqda
3. Banında adamlar daşıdıqda
4. Heç birində ola bilməz.

(m.50pII)

X. Yük avtomobillərində şinlərin protektorlarındakı naxışların hündürlüyü ən azı nə qədər olmalıdır?


1. 2mm.
2. 1,6 mm.
3. 1 mm.

(1 sayılı əlavə p5)



I. Hansı nişanın qüvvəsi hərəkət hissəsinin yaş olduğu müddətə təsir göstərir?

1. Ancaq A.
2. A və B.
3. Hər üçünün.



II. Həyatə girmə hansı şəkildə düzgün yerinə yetirilir?

1. Sağda.
2. Solda.
3. Hər ikisində.
4. Heç birində.

(m.69pVI)



III. Hərəkəti hansı istiqamətə davam etdirmək olar?

1. Ancaq A
2. A və B.
3. İstənilən istiqamətə.
4. B-dən başqa istənilən istiqamətlərə.

(m.61pVI)



IV. Mühəvizə qurğusuna çəkilən vertikal xətlər nəyi xəbərdar edir ?

1. Təhlükəli döngələrə yaxınlaşmanı
2. Yolun hərəkət üçün təhlükəli olan hissəsini.

(m.69pIX-2,7)



V. Motosikletçinin bu işarəsi nəyi bildirir?

1. Dayanmanı.
2. Sağa dönməni
3. Hərəkəti düzünə davam etdirmək istədiyini.

(m.42pII)



VI. Minik avtomobili ilə ikinci zolaqdan hansı istiqamətlərə hərəkət etməyə icazə verilir?

1. Ancaq düz.
2. Düz və sağa.
3. Düz, sola və geri.
4. Düz və sola.

(m.65)



VII. Sağ tərəfdən yola bitişik əraziyə dönmək üçün siz:

1. Hərəkət sürətini dəyişmədən sağ zolağa keçib sürəti azaldıb dönməlisiniz.
2. Hərəkət zolağını dəyişmədən sürəti azaldıb sağ zolağa keçib dönməlisiniz.

(m.42pXI)

IX. Adam daşımaq üçün avadanlıq quraşdırılmayan yük avtomobillərinin bort platformasında adam aparmaq olarmı?

1. Ancaq yükü müşayiət edən və ya onu almalı olan adamları aparmaq olar.
2. Bütün hallarda olar
3. Olmaz.

(m.56pVI)



VIII. Bu nişan hansı yük maşınlarının hərəkətini qadağan edir?

1. Bütün yük maşınların.
2. Maksimal kütləsi 3,5 t-dan çox olan yük maşınların.

(m.65pV)

X. Dumana qarşı arxa fənərlərdən nə zaman istifadə etmək olar?

1. İstənilən vaxt.
2. Yalnız məhdudiyətli görünmə şəraitində.

(m.73pIX)



I. Qoşqulu minik avtomobili hansı maksimal sürətlə hərəkət davam etdirə bilər?

1. 60 km/saat.
2. 70 km/saat.
3. 80 km/saat.
4. 90 km/saat.

(m.50pII-4)



1

2

II. Hansı nişan maksimal kütləsi 3,5 tondan çox olmayan yük avtomobilinə şamil edilmir?

1. Birinci.
2. İkinci.
3. Heç biri.

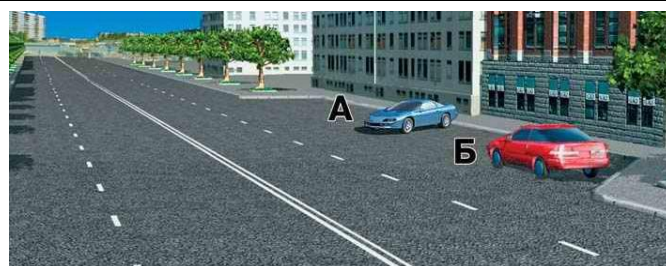
(m.64,65-5)



III. Yük avtomobilini keçdikdən sonra hərəkəti hansı zolaqda davam etdirməyə icazə verilir?

1. Sol zolaqda.
2. Sağ zolaqda.
3. Hər ikisində.

(m.49pI)



IV. Hansı sürücü durma qaydasını pozmuşdur?

1. Hər ikisi.
2. Ancaq A.
3. Ancaq B.
4. Heç biri.

(m.52pI)



V. Siz nizamlayıcının bu vəziyyətində geri dönmək üçün minik avtomobilinə yol verməlisiniz?

1. Hə.
2. Yox.

(m.58pII)

VI. Hansı yollarda NV-dən bayıra hər hansı əşya atmaq qadağandır?

1. Örtüyü təkmilləşdirilmiş yollarda.
2. Örtüksüz yollarda.
3. Bütün yollarda.

(m.37pV-4)



VII. Hansı nəqliyyata hərəkət üstünlüyü verilir?

1. Minik avtomobilinə.
2. Yük avtomobilinə.

(m.76pI)



VIII. Bu vəziyyətdə dəmiryol keçidini keçməyə icazə verilirmi?

1. Verilir.
2. Verilmir.
3. Yaxınlaşmaqda olan qatar yoxdursa verilir.

(m.44pIII-3)

IX. Maksimal kütləsi 3,5 t-dan artıq olmayan yük avtomobillərini hansı kateqoriyalı sürücü idarə edə bilər?

1. «B» kateqoriyalı
2. «C» kateqoriyalı
3. Hər ikisi idarə edə bilər.

(m.34pIV)

X. Oturacaq yerlərinin sayı sürücünün oturacağından əlavə 8-dən çox olmayan avtomobilləri idarə etmək hüququ ən azı hansı yaş həddində olan sürücüyə verilir?

1. 18 yaş.
2. 20 yaş.
3. 21 yaş.


(m.33pII)




I.Sizə yol ayrıcından hansı istiqamətə hərəkət etməyə icazə verilir?

- 1.Düz və geri.
- 2.Ancaq düz.

(m.64pV-3)



A



B



B

II.Hansı nişan yaşadığımız yerə getməyi qadağan etmir?

- 1.Ancaq A.
- 2.Ancaq A və B.
- 3.Ancaq B.
- 4.Hər üçü.

(m.64pV)

III.Qabırğalarından və döş qəfəsindən zədə alan zərərçəkəni hansı vəziyyətdə aparmaq olar?

- 1.Böyrü üstə uzadılmış.
- 2.Arxa üstə uzadılmış.
- 3.Oturaq və ya yarım oturaq vəziyyətində.



IV.Hərəkət hissəsindəki üçbucaq şəkilli nişanlanma xətti nəyi göstərir?

- 1.Təhlükəli sahəyə yaxınlaşmanı.
- 2.Yol verməli olduğunuz yerə yaxınlaşmanı.
- 3.Döngənin təhlükəli olduğunu.

(m.69p20)



V.Baş yolla hərəkəti davam etdirmək üçün dönmə signalı verilməlidir?

- 1.Verilməlidir.
- 2.Verilməməlidir.
- 3.Başqa istiqamətlərdən nəqliyyat vasitəsi gəliirsə verilməlidir.

(m.75pI)



VI.Sola həyəətə dönmək üçün kimə yol verməlisiniz?

- 1.Ancaq avtomobilə.
- 2.Ancaq piyadalara.
- 3.Hər ikisinə.
- 4.Heç kimə.

(m.42p9)



VII.Bu yol ayrıcından geri dönməyə icazə verilir?

- 1.Hə.
- 2.Yox.

(m.69pVI-11)



1



2



3

VIII.Bu nişanların hansı geri dönməni qadağan etmir?

- 1.Birinci.
- 2.İkinci.
- 3.Üçüncü.
4. Hər üçü qadağan edir.

IX. Hansı nasazlıqlarda nəqliyyat vasitələrinin istismarı qadağandır?

1. Yanacaqın səviyyə göstəricisi işləmədikdə.
2. Şüşə qaldırın işləmədikdə.
3. Fəralar düzgün nizamlanmadıqda.
4. Hər üçündə.

(1 sayılı əlavə, m.III-2)

X. Nizamlayıcının və ya svetaforun qadağanedici işarəsi verilərkən hərəkətin davam etdirilməsinə görə sürücü tənbeh olunur:?

- 1.Cərimə +3bal
2. Cərimə +4 bal
3. Cərimə+5bal

(inzibati xətlər, m.151.2)



I. Bu yolda minik avtomobilinin maksimal sürəti hansı həddə qədər ola bilər?

1. 90 km/saat
2. 110 km/saat
3. 60 km/saat

(m.50p2)



1

2


3

4

II. Bu nişanların hansı geri dönməni qadağan edir?

1. Birinci.
2. İkinci.
3. Üçüncü.
4. Dördüncü.
5. Heç biri.

(m.65pIII)



III. Maksimum ağırlığı göstərilən nəqliyyat vasitələrindən hansına nişanın təsir zonasında hərəkət etməyə icazə verilir?

1. Avtobusa.
2. Qoşqulu avtomobilə.
3. Qoşqusuz avtomobilə.
4. Heç birinə.

(m.1p47)

IV. "Avtoqatar" tanınma nişanı hansı avtomobillərdə qoyulmalıdır?

- 1) Qoşqulu yük avtomobillərində.
- 2) Birləşdirilmiş avtobuslarda.
- 3) Hər ikisində.

(m.72pI)



V. Sola dönmək üçün siz:

1. Yol ayrıcını birinci keçməlisiniz.
2. Tramvaya yol verməlisiniz.
3. Svetoforun hərəkətə icazə verən işarəsini gözləməlisiniz.

(m.59pIX)



VI. Siz sola dönərkən piyadalara yol verməlisinizmi?

1. Hə.
2. Yox.


(m.75pI)



VII. Siz düz gedərkən örtüksüz yolda dayanan xüsusi səs və işıq signalı verən avtomobilə yol verməlisinizmi?

1. Hə.
2. Yox.

(m.48pI)



VIII. Hansı şəkildə sağa dönmə düzgün yerinə yetirilir?

1. Sağda.
2. Solda.
3. Hər ikisində.
4. Heç birində.

(m.59pIV)

IX. Hansı halda yol hərəkət qaydalarını pozan şəxsə inzibati həbs tətbiq olunur?

1. Avtoxuliqanlıq etdikdə.
2. Nəqliyyat vasitəsini sərxoş vəziyyətdə idarə etdikdə.
3. Hər iki halda.

(inzibati xətlər m.296.1)

X. Sürücülük hüququndan məhrum olma hansı tarixdən hesablanır?

1. Məhrum olma haqqında qərarın verildiyi tarixdən.
2. Sürücülük vəsiqəsinin alındığı tarixdən.
3. Qayda pozuntusu haqqında protokolun tərtib olunduğu tarixdən.




I. Bu yol nişanları sizə nəyi xəbərdar edir?

1. «Yol ver» nişanı quraşdırılmış yol ayrıcına yaxınlaşmanı.
2. «Dayanmadan keçmək qadağandır» nişanı quraşdırılmış yol ayrıcına yaxınlaşmanı.

II. "Tikanlı şinlər" nişanı NV-nin hansı tərəfində qoyulur?

1. Arxa tərəfdə.
2. Qabaq tərəfdə.
3. Fərqi yoxdur.

(M 72 p 2)



III. Bu nişanların hansının qüvvəsi ən yaxın yol ayrıcına qədər təsir göstərir?

1. A və B.
2. B və G.
3. B və G.

(m.64pVI)



IV. Yol ayrıcına çəkilmiş qırıq xətlər nəyi bildirir?

1. Yol ayrıcında hərəkətin istiqamətini.
2. Yol ayrıcında hərəkət zolaqlarının sərhəddini.

(m.69)



V. Sağ zolaqdan hansı istiqamətdə hərəkət etməyə icazə verilir?

1. Düz, sola və geri.
2. Düz və sağa.
3. Ancaq düz.

(m.58pII, m.42pVI)



VI. Sağ zolaqda hərəkət edərkən həmin zolağa keçmək istəyən avtomobillə yol verməlisinizmi?

1. Hə.
2. Yox.
3. Ötməni başa vurmaq üçün verməliyəm.

(m.42pV)



VII. Sizə yolun bu hissəsindən geri dönməyə icazə verilirmi?


1. Hə.
2. Yox.
3. Görünüş 100 m-dən az deyildirsə verilir.

(m.42pXII-5)

IX. Yaşayış məntəqələrində kimlər təhlükəsizlik kəmərinə istifadə etməməlidir?

1. Sürmə təlimi öyrənən.
2. Geriyə hərəkət manevri edən sürücü.
3. Hamilə qadınlar.
4. Hamısı kəməri bağlamalıdır.

(m.37p6)



VIII. Bu lövhəciklər hansı nişanlarla birgə tətbiq olunur?

1. Bütün qadağan edici nişanlarla.
2. Xəbərdar edici nişanlarla.
3. Ancaq dayanmaq və ya durmaq qadağandır nişanları ilə.
4. Servis nişanları ilə.

(m.64pVIII-3)

X. Bakterisid salfetdən necə istifadə edilməlidir?

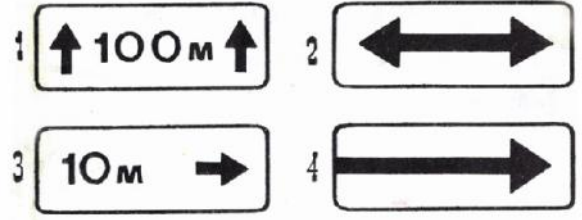
1. Yararı yumaq, yad cisimləri kənarlaşdırmaq, bakterisid salfeti yaranın üzərinə qoymaq.
2. Yararı yod məhlulu ilə təmizləmək, bakterisid salfeti qoymaq.
3. Yararı təmizləmədən üzərinə bakterisid salfeti qoymaq, bint və ya plastir vasitəsi ilə onu bərkitmək.



I. Sola dönmə hansı traektoriya üzrə düzgün yerinə yetirilir?

1. Ancaq A.
2. Ancaq B.
3. Hər ikisi üzrə.

(m.49pIII)



II. Hansı lövhəciklər nişanların qüvvədəolma istiqamətini göstərir?

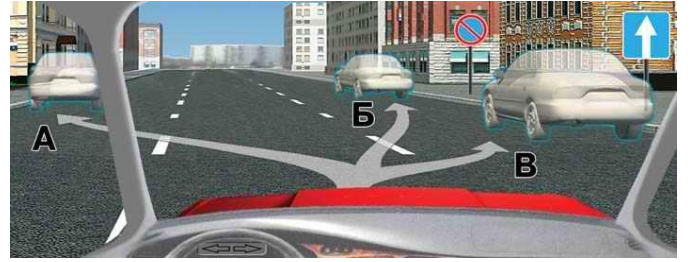
1. Birinci.
2. İkinci və dördüncü.
3. Birinci və üçüncü.

(m.68)

III. Dayanmanın qadağan edildiyi yerlərdə NV məcburu dayandıqda sürücü nə etməlidir?

1. Qəza dayanması işıq signalını yandırmalıdır.
2. Qəza dayanması nişanını quraşdırmalıdır.
3. Hər hansı birini etməlidir.
4. Hər ikisini etməlidir.

(m.55pII)



IV. Göstərilən yerlərin hansında avtomobilinizi duracağa qoya bilərsiniz?

1. A və B.
2. Ancaq A.
3. Ancaq B.
4. Bütün göstərilən yerlərdə.

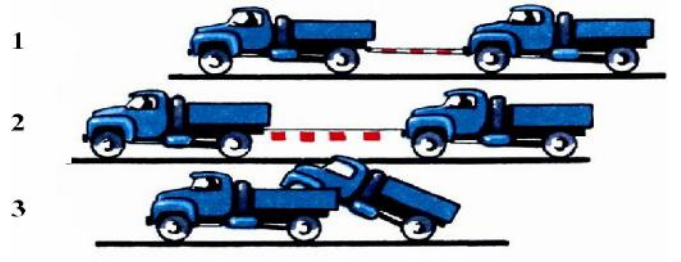
(m.52pII)



V. Sola dönmək üçün:

1. Yol ayrıcını birinci keçməliyəm.
2. Stop xəttində dayanıb qarşıdan gələnə yol verib keçməliyəm.
3. Yol ayrıcına daxil olub qarşıdan gələn avtomobilə yol verib keçməliyəm.

(m.77pIV)



VI. Sükan idarəsi nasaz olan nəqliyyat vasitəsini hansı üsulla yedəyə almağa icazə verilir?

1. Bərk birləşdirici ilə.
2. Yumşaq birləşdirici ilə.
3. Tam və ya qismən yükləməklə.

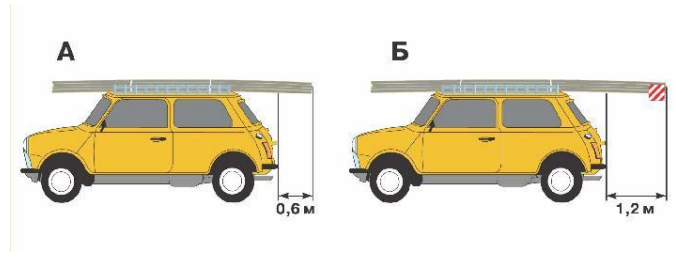
(m.55pV-8)



VII. Siz düz getmək üçün kimə yol verməlisiniz?

1. Heç kimə.
2. Motosiklə.
3. Motosikl və minik avtomobilinə.

(m.77pII)



VIII. Hansı şəkildə yük daşıma qaydası pozulmuşdur?

1. Ancaq A.
2. Ancaq B.
3. Hər ikisində.
4. Heç birində.

(m.57pV)

IX. Nə üçün yüklü avtomobil aşmaya daha çox meyl edir?

1. Ağırlıq mərkəzi yuxarı qalxdığı üçün.
2. Ağırlıq mərkəzi aşağı düşdüüyü üçün.

X. Əlindən və ya ayağından xəsarət alan zərərçəkənin üst partarı necə çıxarılmalıdır?

1. Xəsarət alınan tərəfdən.
2. Sağlam tərəfdən.
3. Fərqi yoxdur.



I. Uzərində nişan asılmış zolaqda hansı sürətlə hərəkət etməyə icazə verilir?

1. 50 km/saat-dan yuxarı, 60 km/saat-dan aşağı.
2. 50 km/saat-dan aşağı.
3. 50 km/saat-dan yuxarı istənilən sürətlə.

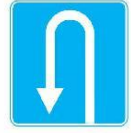
(m.50pII)



A



B



B

II. Hansı nişan sola dönməni qadağan edir?

1. Ancaq A.
2. A və B.
3. A və B.
4. Hamısı.



III. Bu yol ayrıcından sağa dönməyə icazə verilirmi?

1. Hə.
2. Yox.



IV. Sizə yük avtomobilini keçməyə icazə verilirmi?

1. Hə.
2. Yox.

(m.59pVIII)



V. Hansı şəkildə ötmə qaydası pozulmuşdur?

1. Solda.
2. Ortada.
3. Sağda.

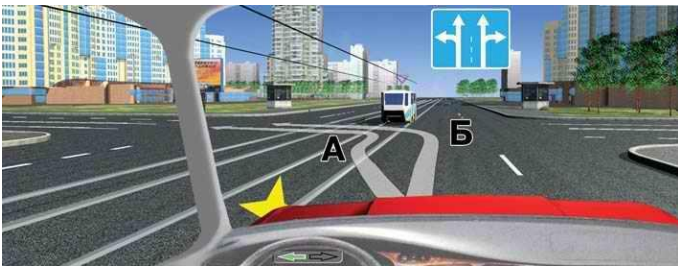
(m.51pV-5)



VI. Minik avtomobili sola dönmə işarəsini nə vaxt söndürməlidir?

1. Yük avtomobilini keçən kimi.
2. Sağ zolağa qayıdan kimi.
3. Sol zolağa çıxan kimi.

(m.42pIII)



VII. Hansı traektoriya üzrə sola dönmə qaydalara uyğundur?

1. Ancaq A.
2. Ancaq B.
3. Hər ikisi.

(m.42pVI)



1

2

3

4

5

VIII. Eyni «əhəmiyyətli yolların kəsişməsi» nişanı hansıdır?

1. Birinci.
2. İkinci.
3. Üçüncü.
4. Dördüncü.
5. Beşinci.

(m.62)

IX. Dumanlı havada qarşıdakı maneə necə görünür?


1. Olduğundan kiçik.
2. Olduğundaq böyük.
3. Olduğu kimi.

X. Yol ayrıcından sola döndükdə hansı hərəkət zolağına girmək qadağandır?

1. Qarşıdan gələn nəqliyyatın hərəkət zolağına.
2. Sol zolağa.
3. Orta zolağa.

(m.42pVII)

I. Sayğacı işləyən taksi bu nişanların hansında dura bilər?



1. Birincidə.
2. İkincidə.
3. Hər ikisində.
4. Heç birində.

(m.64pV)

II. Dayanmanın qadağan olunmadığı yerdə NV-nin hərəkət hissəsində olması (dayanması) yol hərəkətinin digər iştirakçlarına maneə yaradırsa sürücü nə etməlidir?

1. Qəza dayanma işıq signalını yandırmalıdır.
2. Qəza dayanması nişanını quraşdırmalıdır.
3. Hər hansı birini etməlidir.
4. Hər ikisini etməlidir.
5. Heç birini etməməlidir.

(M 55 p II)



III. Birinci yük avtomobilini keçdikdən sonra ikinci yük avtomobilini də keçmək üçün sol zolaqda hərəkəti davam etdirməyə icazə verilirmi?

1. Hə.
2. Yox.


(m.51pIII)



IV. Göstərilən yerdə dayanmağa icazə verilirmi?

1. Hə.
2. Yox.


(m.52p6)



V. İstiqamətini dəyişmək istəyən sürücülərdən hansı qaydan pozur?

1. Motosiklet sürücüsü.
2. Avtomobil sürücüsü.
3. Hər ikisi.
4. Heç biri.


(m.65pV)



VI. Nəqliyyat vasitələrinin yol ayrıcından keçmə ardıcılığı olmalıdır:

1. Tramvay 1 və 2, minik avtomobili, yük avtomobili, «təcili yardım», motosikl.
2. «Təcili yardım», tramvay 1 və 2, yük avtomobili, minik avtomobili, motosikl.

(m.77pII,III)



VII. Siz sola dönərkən kimə yol verməlisiniz?

1. Tramvay B və minik avtomobilinə.
2. Hər iki tramvaya.
3. Bütün nəqliyyat vasitələrinə.

(m.77pII və III)



VIII. Motosikletçiyə hansı istiqamətdə hərəkət etməyə icazə verilir?

1. Düz və sağa.
2. Düz sağa və geri.
3. İstənilən istiqamətdə.

(m.64)

IX. Sərxoşluq vəziyyətinin yoxlanılması üçün müayinədən boyun qaçıran sürücü tənbeh olunur?

1. Cərimə +3 bal.
2. Cərimə +5 bal.
3. Cərimə +4 bal.

(İnzibati xətlər m.156)

X. Nəqliyyat vasitəsinin dayandırılması səbəbini 3 saat ərzində araşdırmaq mümkün olmadıqda DYP-i əməkdaşı nə etməlidir?

1. Araşdırma müddətini uzatmalıdır.
2. Nəqliyyat vasitəsinə duracağa göndərməlidir.
3. Nəqliyyat vasitəsinə hərəkətini davam etməsinə icazə verməlidir.

(İnzibati xətlər m.407p3)



I. Bu nişanlardan hansı sola dönməni qadağan etmir?

1. Birinci.
2. İkinci.
3. Üçüncü.
4. Dördüncü.
5. Beşinci.



II. Hərəkəti hansı istiqamətdə davam etdirmək olar?

1. Ancaq B.
2. Ancaq A və ya B.
3. Ancaq B və ya B.

(m.42pVI)



A



B



B

III. Hərəkət sürəti 40 km/saat-dan yuxarı olmayan nəqliyyat vasitələrinə hansı nişan qoyulmuş yolla hərəkət etməyə icazə verilmir?

1. A və B.
2. Ancaq A.
3. Ancaq B.

(m.43pII; IV)



IV. Bu nişanlanma xətləri ötməni yerinə yetirməyə icazə verirmi?

1. Hə.
2. Yox.
3. Əgər traktorun hərəkət sürəti 30 km/saat-dan aşağıdırsa verir.

(m.69pVII-5)



V. Nizamlayıcının bu vəziyyətində hansı istiqamətə getməyə icazə verilir?

1. Düz və sağa.
2. Bütün istiqamətlərə.
3. Ancaq düz.

(m.58pII)

VI. Tormoz və sükanı nasaz olan NV-ni hansı üsulla yedəyə almaq olar?

1. Ancaq sərt birləşdirici ilə.
2. Tam və ya qismən yüklənməsi üsullu ilə.
3. Hər ikisi ilə almaq olar.

(m.55pV-8)



VII. Buradan geri dönməyə icazə verilirmi?

1. Verilir.
2. Verilmir.
3. Marşrut nəqliyyat vasitələrinə maneəçilik törətmirsə verilir.

(m.42pXII-6)



VIII. Hərəkəti hansı traektoriya üzrə davam etdirmək olar?

1. Ancaq A.
2. Ancaq B.
3. Hər ikisi üzrə.

(m.42pVII)

IX. Qatar hansı məsafədə olduqda dəmiryol keçidinə girmək olmaz?

1. Bir km-dən yaxında olduqda.
2. Görünmə həddində olduqda.

(m.44pIII-5)

X. Avtobusun duracaq tormozu onun tərpənməzliyini hansı enişdə təmin etməlidir?

1. 16°
2. 23°
3. 25°


(1 sayılı əlavə pI-5)



I. Burada ötməyə icazə verilirmi?

1. Verilir.
2. Verilmir.
3. Ötmə yol ayrıcına qədər başa çatarsa verilir.

(m.51pV-1)



III. Göstərilən nişanın təsir zonasında ötmə qaydası hansı şəkildə pozulmuşdur.

1. Soldakı şəkildə.
2. Sağdakı şəkildə.
3. Hər iki şəkildə.



V. Sola dönərkən kimə yol verməlisiniz?

1. Avtobusa.
2. Minik avtomobilinə.
3. Heç kimə.

(m. 77pII)



VII. Şəkildə göstərilənlərin hansı baş yoldur?

1. Yuxarıdan soldakı və aşağıdakı.
2. Yuxarıdan soldakı.
3. Hər üçü.

(m. 1p9)

IX. Dəmiryolundan hansı məsafədə uzaqlaşdıqdan sonra ötməyə başlamaq olar?

1. Keçən kimi.
2. 100 m.
3. 50 m.

(m.51pV-3)

II. Qəza dayanma nişanı NV-nin hansı tərəfində quraşdırılmalıdır?

1. Ancaq arxa tərəfində.
2. Zərurət olduqda hər iki tərəfində.

(m.55pIII)



IV. Siz düz getmək üçün yük avtomobilinə yol verməlisiniz?

1. Hə.
2. Yox.

(m.77pIII)



VI. Dəmir yolunda baş verən təhlükə haqqında hərəkətdə olan qatara verilən dayanma signalı hansı şəkildəki kimi olmalıdır?

1. Solda.
2. Sağda
3. Ortada.

(m.44pV)



VIII. Bu nişanlardan hansı avtobusların hərəkətinə icazə verir?

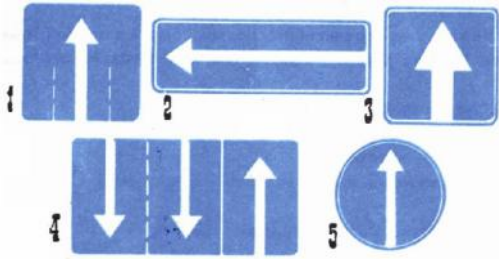
1. Birinci.
2. İkinci.
3. Üçüncü və birinci.
4. Hər üçü icazə verir.

(m.64pV, m.65pV)

X. Yedəyə alınan nəqliyyat vasitəsini idarə edən sürücünün stajı ən azı nə qədər olmalıdır?

1. Bir il
2. İki il
3. Staj nəzərə alınmır.

(m.55pV-1)



I. «Zolaqlarda hərəkət istiqamətləri» nişanı hansıdır?

1. Birinci.
2. İkinci.
3. Üçüncü.
4. Dördüncü.



II. Qarşı-qarşıya keçmək çətinlik törədərsə, siz hansı nişanda qarşıdan gələnlə yol verməlisiniz?

1. B və G.
2. B və B.
3. Ancaq B.
4. A və B.

(m.51pVII)



III. Avtomobil göstərilən yerdə dura bilərmi?

1. Hə.
2. Yox.

(m.64pVIII-3)



IV. Maksimal kütləsi 3,5 tondan artıq olmayan yük avtomobili hansı istiqamətə gedə bilər?

1. Ancaq sola və geri.
2. Ancaq sağa.
3. Ancaq sağa, sola və geri.

(m.64pV)



V. Yaşayış məntəqələrindən kənarında təkrar olunan nişanlar hansılardır?

1. Birinci və ikinci.
2. İkinci və birinci.
3. Üçüncü və dördüncü.
4. Dördüncü və altıncı.
5. Bütün göstərilən nişanlar.

(m.62pVI-3)

VI. NV-nin üç qoşqu ilə hərəkətinə icazə verilirmi?

1. Verilmir.
2. Verilir əgər nəqliyyat qatarının ümumi uzunluğu 24 metrdən çox deyildirsə.


(M 57 p V)



VII. Meydana daxil olarkən hansı dönmə işarəsi verilməlidir?

1. Sağ.
2. Sol.
3. Dönmə signalı verməyə ehtiyac yoxdur.

(m.42pI)



VIII. Qaydalara görə sola hansı traektoriya üzrə dönməlisiniz?

1. Ancaq A.
2. Ancaq B.
3. Hər ikisi üzrə.

(m.42pVI)


IX. Eyni istiqamətdə dörd hərəkət zolağı olan yolda tam kütləsi 3,5- t-dan çox olan nəqliyyat vasitəsi hansı zolaqda hərəkət edə bilər?

1. Birinci zolaqda.
2. Sol kənar zolaqdan başqa istənilən zolaqda.
3. Birinci və ikinci zolaqda.

(m.49pV)

X. Burun qanaması zamanı nə etmək lazımdır?

1. Zərərçəkəni yarımoturaq vəziyyətə gətirərək başını arxaya verib onun burun nahiyəsinin soyudulmasını təmin etmək lazımdır.
2. Zərərçəkəni yarımoturaq vəziyyətə gətirərək başını qabağa öyib onun burun nahiyəsinin soyudulmasını təmin etmək lazımdır.



I. Hansı nəqliyyatın sürücüsü yol verməlidir?

1. Avtomobilin.
2. Tranvayın.

(m.76pII)



II. Siz traktoru ötə bilərsinizmi?

1. Hə.
2. Yox.
3. Ötmə dəmir yol keçidinə 100m qalana qədər başa çatarsa ötmək olar.

(m.51pV)



III. Svetoforun yaşıl işığı yandıqda siz nə etməlisiniz?

1. Hərəkət hissəsini keçməyi başa çatdırma bilməyən piyadaların olmadığı-na əmin olduqdan sonra hərəkətə başlamalıyam.
2. Yaşıl işıq yanan kimi hərəkətə başlamalıyam.

(m.76pV)



IV. Siz düz gedərkən kimə yol verməlisiniz?


1. Ancaq tramvaya.
2. Ancaq yük avtomobilinə.
3. Hər iki nəqliyyat vasitəsinə.

(m.77pIII)

V. Yük qabaq və ya arxa tərəfdən NV-nin qabarit işıqının xarici kənarından 1 metr qırağa çıxarsa iri qabaritli yük tanınma nişanı ilə işarələnməlidir?

1. Hə.
2. Yox.

(M 57 p V)



VI. Kim yol verməlidir?

1. Yoxuşu qalxan nəqliyyat vasitəsinin sürücüsü.
2. Enişi düşən nəqliyyat vasitəsinin sürücüsü.
3. Avtomobili saxlamaq hansı sürücüyə rahatdırsa o, yol verməlidir.

(m.51pVII)



VII. Siz örtüksüz yola dönə bilərsinizmi?

1. Hə.
2. Yox.

IX. Avtomobilin neçə ədəd qoşqusu ola bilər?

1. 1 ədəd.
2. 2 ədəd
3. 2 və 2-dən çox.

(m.72p10)



VIII. «Təhlükəli döngələr» yol nişanı hansıdır?

1. Birinci.
2. İkinci.
3. Dördüncüdən başqa hamısı.

X. Eyni istiqamətə azı 2 hərəkət zolağı olan yolda tramvay yolu ilə hərəkət etməyə icazə verilirmi?

1. Tramvayın hərəkətinə maneə törətmədikdə verilir.
2. Verilmir.

(m.49pIV)



I. Göstərilən yerdə sərnəşin götürmək üçün dayanmaq olarmı?

1. Hə.
2. Yox.

(m.64pVIII-3)



II. Bu nişanların hansında sağa həyəət girməyə icazə verilir?

1. Birincidə
2. İkincidə.
3. Hər ikisində.
4. Heç birində.

(m.65pV)



III. «Piyada zolağı» nişanı hansıdır?

1. Ancaq B.
2. Ancaq B və B.
3. Hər üçü.

(m.65)



IV. Yol vermək üçün harada dayanmaq lazımdır?

1. Nişanın qarşısında.
2. Nişanlanma xəttinin qarşısında.
3. İstənilən yerdə dayanmaq olar.

(m.60pII)



V. «Döngənin istiqamətləri» nişanı hansıdır?

1. 2, 3.
2. 1, 2, 4.
3. 3, 4
4. 4.

(m.62)



VI. Bu vəziyyətdə sağa dönmə işarəsi verilməlidir mi?

1. Hə.
2. Yox.
3. Ancaq qaranlıq vaxtı verilməlidir.

(m.42pI)



VII. Sağa dönmə hansı traektoriya üzrə yerinə yetirilməlidir?

1. Ancaq A
2. Ancaq B.
3. Hər ikisi üzrə.

(m.42pVII)



VIII. «Təhlükəli döngə» nişanı hansıdır?

1. Birinci.
2. İkinci.
3. Üçüncü.
4. Dördüncü.
5. Beşinci.

(m.62)

IX. Sutkanın qaranlıq vaxtı işıqlandırılmayan yollarda duman faralarından necə istifadə edilməlidir?

1. Ayrıca
2. Faraların yaxın və ya uzaq işıqları ilə birlikdə.
3. Hər ikisi qaydalara uyğundur.

(m.73pV)

X. Avtoqatarın tanınma nişanı hansı halda yandırılmalıdır?

1. Hərəkət edən zaman.
2. Sutkanın qaranlıq vaxtı dayandıqda və ya durduqda.
3. Hər iki halda yandırılmalıdır.

(m.73pX)



I. Siz geri dönməni hansı traektoriya üzrə yerinə yetirə bilərsiniz?

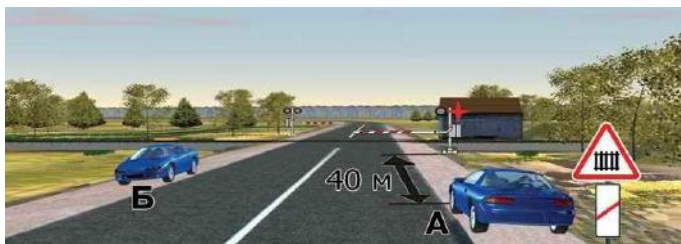
1. Ancaq A və ya B.
2. Ancaq B.
3. Hər üçü üzrə.

(m.42pXII)



II. Bu nişanın təsir zonasında maksimal kütləsi 3.5 tondan az olan yük avtomobilinə ötməyə icazə verilir?

1. Hə
2. Yox



III. Durma qaydasını hansı avtomobilin sürücüsü pozmuşdur?

1. Ancaq A.
2. Ancaq B.
3. Hər ikisi.
4. Heç biri.

(m.52pVI-4)



IV. Siz sağa dönərkən geri dönmə avtomobilə yol verməlisiniz?

1. Hə.
2. Yox.

(m.76pII)



V. Hansı şəkildə geri dönmə düzgün aparılır?

1. Solda.
2. Sağda.
3. Hər ikisində.
4. Heç birində.

(m.42pVI)



VI. Svetoforun yanib-sönən sarı işığında yol ayrıcını düz keçmək üçün kimə yol verməlisiniz?

1. Ancaq yük avtomobilinə.
2. Ancaq tramvaya.
3. Hər ikisinə.
4. Heç birinə.

(m.75pIV)



VII. Səkisi olan bu yolda nəqliyyatın özü-özünə hərəkət etməsinin qarşısını almaq üçün sürücü hansı şəkildə qabaq təkərləri düzgün yönəlmişdir?

1. A və Γ.
2. B və Γ.
3. A və B.
4. B və B.

(m.52pIX)

IX. Qarşıdan gələn nəqliyyat vasitəsinin işığı sürücünün gözlərini qamaşdırıqda o nə etməlidir?

1. Sağ tərəfə çəkməli və uzaq işığı yandırmalı.
2. Hərəkət zolağını dəyişmədən qəza signalını işə salıb hərəkət sürətini azaldaraq nəqliyyatı dayandırmalıdır.
3. Bacardıqca sağa çəkməli və qabarit fanarları yandırmalı.

(m.73pIV-3)

VIII. Yaşayış məntəqələrində tramvay yolu olmayan iki tərəfli yolun sol tərəfində kimlərə dayanmağa icazə verilir?

- 1) Ancaq minik avtomobillərinə.
- 2) Minik avtomobilləri və maksimal kütləsi 3,5 tondan çox olmayan yük avtomobillərinə.
- 3) Heç birinə icazə verilmir.

(m.52pII)

X. Eyni zamanda keçmək mümkün olmadıqda hansı sürücü yol verməlidir?

1. Yaşayış zonasına daxil olan.
2. Yaşayış zonasından çıxan.

(m.45pIII)

I. Avtobusda qrupla uşaq daşıdıqda onların yanında neçə nəfər müşaiyətçi olmalıdır?

1. Bir nəfər.
2. İki nəfər.
3. Müşaiyətçiyə ehtiyac yoxdur.

(M 56 p VII)



II. Yol ayrıcında hərəkət ardıcılığı necə olmalıdır?

1. Minik avtomobili, velosiped, tramvay, avtobus, yük avtomobili.
2. Tramvay, avtobus, minik avtomobili, velosiped, yük avtomobili.
3. Velosiped, minik avtomobili, tramvay və avtobus, yük avtomobili.

(m.77pIII)

III. Hansı halda mütəşəkkil nəqliyyat dəstəsinə qoşularaq hərəkət etməyə icazə verilmir?

1. Qırmızı və ya göy sayrışan işıq və xüsusi səs siqnalı verən nəqliyyat dəstəsinə qoşulmağa icazə verilir.
2. Xüsusi səs siqnalı ilə işarə verən NV-nin müşayət etdiyi nəqliyyat dəstəsinə qoşulmağa icazə verilir.
3. Heç birinə qoşulmağa icazə verilmir.

(M 48 p II)



IV. Avtomobilə göstərilən istiqamətdə hərəkət etməyə icazə verilmirmi?

1. Verilir.
2. Verilmir.

(m.68pI)



V. Sağa necə dönməlisiniz?

1. Sağ zolağa yerdəyişmə edib dönməliyəm.
2. Yerdəyişmə aparmadan birbaşa sol zolaqdan dönməliyəm.
3. Hər iki zolaqdan sağa dönmək olar.

(m.69p18)



VI. Körpünün üstündən belə manevr etməyə icazə verilmirmi?

1. Verilmir.
2. Görünüş 100m-dən az deyildirsə verilir.


(m.42pXII)



VII. Dəmiryol keçidində məcburi dayanan nəqliyyat vasitəsinin sürücüsü ümumi həyəcan səs siqnalını necə verməlidir?

1. Bir uzun və iki qısa.
2. Bir uzun və üç qısa.
3. Üç uzun və bir qısa.

(m.44pV-qeyd)



VIII. Təhlükəli yük aparan nəqliyyat vasitəsində hansı tanıma nişanı qoyulur.

1. Birinci.
2. İkinci.
3. Üçüncü.
4. Dördüncü.

(m.72p9)

IX. Hər ikisi yüksüz olan eyni tipli və markalı NV-dən biri digərini yedəyə ala bilərmi?

- 1) Sərt birləşdirici ilə ala bilər.
- 2) Elastik birləşdirici ilə ala bilər.
- 3) Ala bilməz.
- 4) Hər iki halda ola bilər

(m.55pV-5)

X. Nəqliyyat vasitəsinin arxa və ya qabaq nöqtəsindən yük neçə metrədən çox kənara çıxdıqda hərəkət xüsusi qaydalara uyğun olaraq həyata keçirilməlidir?

1. 1m.
2. 3m.
3. 2m.


(m.57pVI)



I. Burada ötməyə başlamaq olarmı?

1. Olar.
2. Olmaz.
3. Olar, əgər ötmə yol ayrıcına qədər başa çatarsa.

(m.51pV-1)



II. Kim yol verməlidir.

1. Avtomobil sürücüsü.
2. Velosipedçi.

(m.46pIII)



III. Avtomobilə göstərilən yerdə durmağa icazə verilirmi?

1. Hə.
2. Yox.


(m.66pIII)



IV. Sizə sağa dönməyə icazə verilirmi?

1. Verilmir.
2. Piyadalara yol vermək şərti ilə verilir.

(m.58pII-1)



V. Kim yol verməlidir?

1. Minik avtomobilinin sürücüsü.
2. Yüklü avtomobilinin sürücüsü.

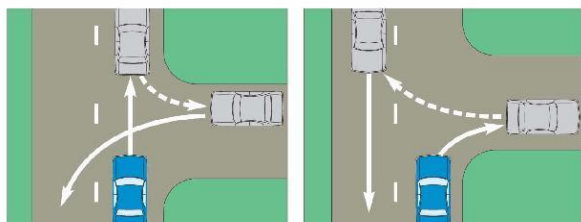
(m.77pIII)



VI. Siz sola dönməyə kimə yol verməlisiniz?

1. Ancaq minik avtomobilinə və avtobusa.
2. Ancaq minik avtomobilinə.
3. Bütün nəqliyyat vasitələrinə.

(m.77pII)



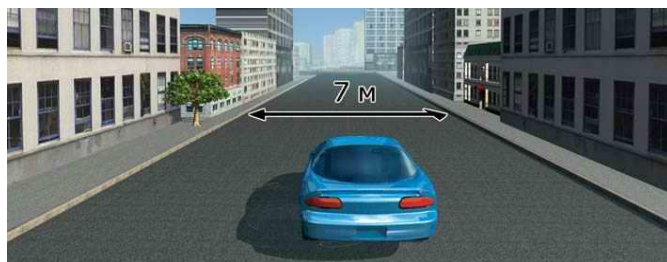
VII. Yol ayrıcından kənarında sağ tərəfdən yola bitişik ərazidən istifadə etməklə geri dönmə üsulu hansı şəkildə daha təhlükəsiz yerinə yetirilir?

1. Sağdakı şəkildə.
2. Soldakı şəkildə.

IX. Yaşayış məntəqələrində birtərəfli yolun sol tərəfində maksimum kütləsi 3,5 tona qədər olan yüklü avtomobili dayana bilərmi?

1. Dayana bilməz.
2. Ancaq yüklü götürmək və ya boşaltmaq üçün dayana bilər.
3. Bütün hallarda dayana bilər.

(m.52pII)



VIII. Yolun ortası ilə hərəkət etməklə sürücü qaydanı pozurmu?

1. Pozmur.
2. Pozur.
3. Qarşıdan nəqliyyat gəlmirsə pozmur.

(m.49pI)

X. Fonu mavi rəngli «yaşayış məntəqəsi» nişanında sürücüyə nələr qadağandır?

1. Səs signalı vermək.
2. 60 km/saatdan yuxarı sürətlə hərəkət etmək.
3. Hər ikisi qadağandır.
4. Heç biri qadağan deyil.

(m.66pII)



I.Sizə geri dönmək lazımdırsa nə etməlisiniz?

- 1.Düz gedib qarşıdakı yol ayrıncından geri dönməliyəm.
- 2.Yol ayrıncından düz keçib qarşıdakı yol ayrıncına çatmadan geri dönməliyəm.
- 3.Heç bir tərəfdən nəqliyyat gəlmirsə elə bu yol ayrıncından yeri dönmək olar.


(m.65pV)



II.Sizə göstərilən yerdə durmağa icazə verilirmi?

- 1.Hə.
- 2.Yox.

(m.64pVI)



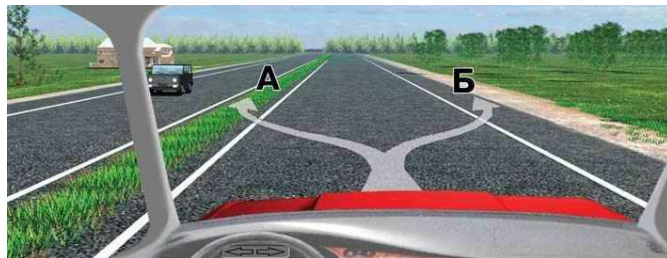
1

2

III. Bu nişanlanma xətlərinin hansı nizamlanmayan piyada keçididir?

1. Birinci.
2. İkinci.
3. Hər ikisi.

(m.69p14)



IV.Göstərilən xəttlərin hansını kəsərək dayanmağa icazə verilir?

- 1.Ancaq A.
- 2.Ancaq B.
- 3.Hər ikisinin.
- 4.Heç birinin

(m.69pVI-1)



V.Belə vəziyyətdə siz nə etməlisiniz?

- 1.Dayanmadan keçib getməliyəm.
- 2.Keçidin qarşısında dayanmalıyam.

(m.59pX)



VI. Hansı nəqliyyat vasitələri ozlarda göstərilmiş istiqamətdə hərəkət edə bilər?

- 1.Bütün nəqliyyat vasitələri.
2. Reltsiz nəqliyyat vasitələri.
3. Motosikl və minik avtomobili ancaq düz və maksimal kütləsi 3,5 t-dan artıq deyildirsə, yük avtomobili də düz gedə bilər.

(m.59pIV)




VII.Buradan geri dönməyə icazə verilirmi?

- 1.Verilir.
- 2.Verilmir.
- 3.Verilir, əgər görünüş 100m-dən az deyildirsə.

(m.42pXII)

IX. Yol nəqliyyat hadisəsi törədən sürücü kimin qərarı ilə cinayət məsuliyyətinə cəlb oluna bilər?

1. DYP.
2. İstinad orqanının.
3. Məhkəmənin.
4. Bunların hər hansı birinin.



VIII.Yol ayrıncında hərəkət ardıcılığı necə olmalıdır?

1. Avtomobil, motosiklet.
- 2.Motosiklet, avtomobil.

(m.77pIII)

X. Qaydalara görə yük avtomobilinin banında adam olduqda ən yüksək sürət nə qədər olmalıdır.

- 1.50 km./saat
2. 60 km./saat
3. 70 km./saat
4. 40 km./saat

(m.50pII-5)



I. Nişanda göstərilən yol ayrıcının hansında ötməyə icazə verilmir?

1. Birincidə və ikincidə.
2. Ancaq birincidə.
3. Üçüncüdə.
4. Heç birində.



II. Bu yolda siz minik avtomobili ilə hansı maksimal sürətlə hərəkət edə bilərsiniz?

1. 60 km/s.
2. 90 km/s.
3. 110 km/s.

(m.50pIII-2)

III. Birdən artıq NV-ni yedəyə almağa icazə verilirmi?

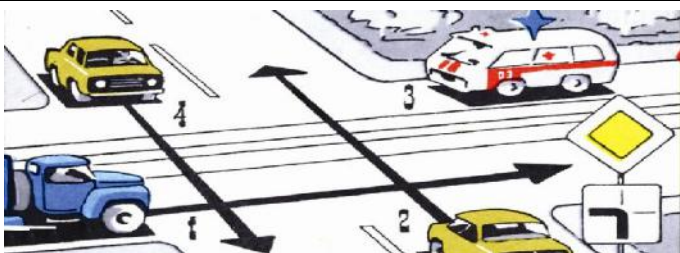
1. Verilir əgər ümumi uzunluq 24 metrdən çox olmadıqda.
2. Verilmir.

(M 55 p VI-4)

IV. Hansı səkilərin kənarında dayanmağa və ya durmağa icazə verilir?

1. Ancaq yola bitişik səkilərin.
2. Bütün səkilərin.

(M 52 p II)



V. Yol ayrıcını keçmə ardıcılığı necə olmalıdır?

1. Avtomobil 2, 1, 4, 3.
2. Avtomobil 3, 2, 1, 4.
3. Avtomobil 3, 4, 2, 1.

(m.77pII)



VI. Sürücülərdən hansı piyadalara yol verməlidir?

1. Ancaq minik avtomobilinin sürücüsü.
2. Ancaq yük avtomobilinin sürücüsü.
3. Hər iki sürücü.

(m.75pI)



VII. Siz qarşıdakı nəqliyyat vasitəsi ilə eyni zamanda sola dönməyə başlaya bilərsinizmi?

1. Hə.
2. Yox.
3. Yük avtomobilinə maneçilik törətmədən başlamaq olar.

(m.77pI)



VIII. Sizə sağ zolaqda hərəkəti davam etdirməyə icazə verilirmi?

1. Verilmir.
2. Verilir, əgər marşrut nəqliyyat vasitələrinə maneçilik törədilmirsə.

(m.48pIV)

IX. Hansı hallarda sutkanın işıqlı vaxtı nəqliyyatın yaxın fəra işıqları yandırılmalıdır?

1. Yük avtomobillərində adamları daşdıqda
2. Ağır çəkili və iri qabaritli yükləri daşdıqda.
3. Hər iki halda yandırılmalıdır.

(m.73pV-5)

X. Sutkanın işıqlı vaxtı tuneldə nəqliyyatın qabarit yaxud fəra işıqlarının yandırılmasına ehtiyac varmı?

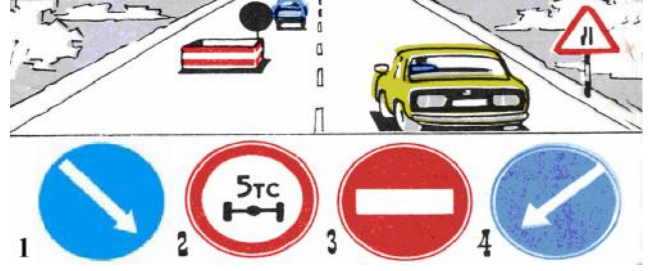
1. Vardır.
2. Yoxdur.
3. Sürücü öz istəyi ilə yandıra bilər.

(m.73pIII-I)




I. Bu nişanlar xəbərdar edir:

1. Yol kənarında təmir işləri ilə əlaqədar olaraq yol çiyininə çıxmağın təhlükəli olmasını.
2. Yol kənarında dayanmanın qadağan olduğunu.
3. Yolun hərəkət hissəsində dayanmağa icazə verildiyini.



II. Qarşıdan gələn sürücü bu nişanların hansını görür?


1. Birincini.
2. İkincini.
3. Üçüncünü.
4. Dördüncünü.



III. Hansı nəqliyyat vasitələrinə oxlarla göstərilən istiqamətlərə hərəkət etməyə icazə verilir?

1. Yüklü avtomobili və motosikletə.
2. Motosikletə, yük və minik avtomobillərinə.
3. Tramvay və motosikletə.

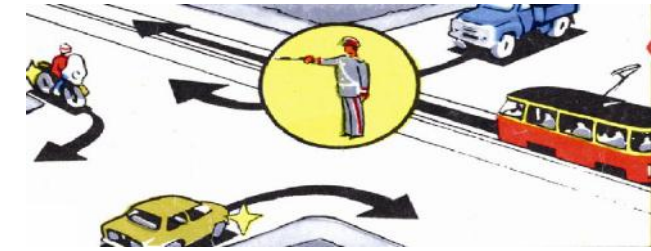
(m.58pII-6)



IV. Hansı avtomobil keçmək üstünlüyə malikdir??

1. Avtomobil A.
2. Avtomobil B.

(m.42pX)



V. Hansı nəqliyyat vasitələrinə oxlarla göstərilən istiqamətlərə hərəkət etməyə icazə verilir?

1. Minik avtomobilinə.
2. Motosiklet və tramvaya.
3. Yüklü və minik avtomobillərinə.

(m.58pII-V)



VI. Motosikletçi bu işarəsi ilə sizə nəyi bildirir?

1. Düz və ya sola getmək istədiyini.
2. Sola və ya geri dönmək istədiyini.
3. Sağa dönmək istədiyini.

(m.42pII)



VII. Kim yol verməlidir?

1. Sol zolaqda düz istiqamətdə hərəkət edən sürücü.
2. Sağ zolaqdan sol zolağa keçmək istəyən sürücü.

(m.42pV)



VIII. Yolun hərəkət hissəsinə çəkilmiş bu ox işarələri nəyi bildirir?

1. Yolun təhlükəli hissəsinə yaxınlaşmanı.
2. Yolun hərəkət hissəsinin ensizləşməsini.
3. Yolun təhlükəli hissəsinin istiqamətini.

(m.69pVI-19)

IX. Svetofor işlədikdə hansı nişanlar öz qüvvəsini itirir?

1. Qadağanedici nişanlar.
2. Üstünlük nişanları.
3. Əmredici nişanlar.

X. Hansı qayda pozuntusu 3 balla qiymətləndirilir?

1. Yolların hərəkət hissəsinin işarələrinin tələblərinə riayət edilməməsinə görə.
2. 1.1; 1.3 və 1.11 üfüqi nişanlanma xətlərinin tələblərinə riayət etməyərək əks istiqamətli hərəkət zolağına çıxmasına görə.
3. Hər ikisinə görə.

(inzibati xətlər, m.151.2)



I. Buradan geri dönmək olarmı?

1. Olar.
2. Olmaz.

(m.42pXII-5)



II. Bu nişanların hansında sağa həyəət girməyə icazə verilir?

1. Birincidə.
2. İkincidə.
3. Hər ikisində.
4. Heç birində.

(m.65pV)

III. Sürücü təcili tibbi yardıma ehtiyacı olan şəxsləri daşmalıdır mı?

1. Ancaq səmt üzrə daşmalıdır.
2. İstənilən istiqamətə daşmalıdır.

(M 37 p 15)



IV. Göstərilən körpünün üstündə dayanmağa icazə verilir mi?

1. Verilir.
2. Verilmir.
3. Ancaq sərnişin düşmək üçün icazə verilir.

(m.52pIV-2)



V. Hansı nəqliyyat vasitələri oxlarla göstərilmiş istiqamətdə hərəkət edə bilirlər?

1. Minik və yük avtomobilləri.
2. Bütün nəqliyyat vasitələri.

(m.59pIV)

VI. Siz bir sürücü kimi başqa sürücülərdən yol hərəkət qaydalarına əməl etməyi tələb etmə hüququna maliksiniz mi?

1. Hə.
2. Yox.

(m.36pII)



VII. Sola ikinci kəsişməyə dönmək üçün:

1. Avtobusa yol verməliyəm.
2. Minik avtomobilinə və avtobusa yol verməliyəm.
3. Yol ayrıcını birinci keçməliyəm.

(m.77pIV)



VIII. Hansı sürücü avtomagistralda geri dönmə qaydasını pozur?

1. Avtomagistralda təmir və təmizlik işlərini yerinə yetirən yük avtomobili.
2. Minik avtomobili.
3. Hər ikisi.
4. Heç biri.

(m.43pII)

IX. Maksimum kütləsi 3,5 t-dan artıq olmayan yük avtomobillərinin avtomagistralda maksimal hərəkət sürəti hansı həddə qədər olmalıdır?

1. 90 km/saat.
2. 100 km/saat
3. 110 km/saat

(m.50pII-2)

X. Piyada keçidindən ən azı nə qədər uzaqlaşdıqdan sonra dayanmaq olar?

1. 5m.
2. 3m.
3. 10m.
4. Keçən kimi

(m.52pIV-4)



I. Yol ayırıcından hansı istiqamətdə hərəkəti davam etdirə bilərsiniz?

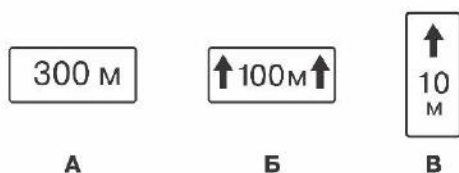
1. A və ya B.
2. B və ya B.
3. Ancaq B.

(m.65pV)

II. Sutkanın qaranlıq vaxtı yolun işıqlandırılmayan hissəsində hansı xarici işıqlardan istifadə edilməlidir?

1. Ancaq faraların yaxın işıqlarından.
2. Ancaq faraların uzun işıqlarından.
3. yaxın və ya uzun işıqlarından.

(m.73pIII-1)



III. Hansı lövhəciklər birgə tətbiq olunduğu nişanın təsir zonasını göstərir?

1. Ancaq A.
2. Ancaq B.
3. B və B.

(m.68)



IV. Reversiv svetoforun söndürülmüş vəziyyətində belə manevr etməyə icazə verilirmi?

1. Verilmir.
2. Ancaq ötmə zamanı icazə verilir.
3. Qarşıdan nəqliyyat gəlmirsə icazə verilir.

(m.59pVIII)



V. Svetoforun və nizamlayıcının belə vəziyyətində siz nə etməlisiniz?

1. Stop xəttində dayanmalıyam.
2. Düz getməliyəm.
3. Düz və ya sağa getməliyəm.

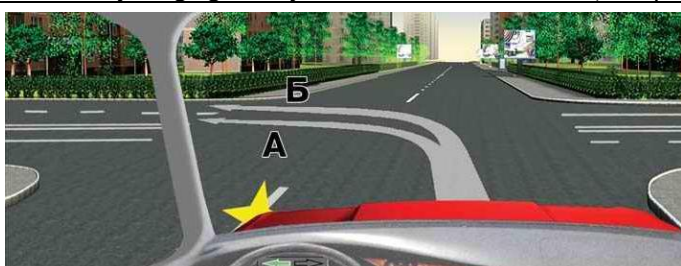
(m.60pV)



VI. Göstərilən yerdə texniki səbəbdən məcburi dayanan avtomobil sürücüsü qəza dayanma nişanı qoymalıdırımı?

1. Qəza signalı işləmirsə qoymalıdır.
2. Qoymamalıdır.
3. Bütün hallarda qoymalıdır.

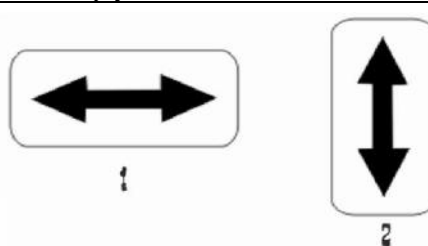
(m.55pII)



VII. Hansı traektoriya üzrə sola dönməyə icazə verilir?

1. Ancaq A.
2. Ancaq B.
3. Hər ikisi üzrə.

(m.42pVIII)



VIII. «Qüvvədə olma zonası» lövhəciyi hansıdır?

1. Birinci.
2. İkinci.
3. Hər ikisi.

IX. Yaşayış məntəqələrindən kənarında maksimum kütləsi 3,5 t-dan artıq olan yük avtomobillərinin avtomagistralda maksimal hərəkət sürəti hansı həddə qədər olmalıdır?

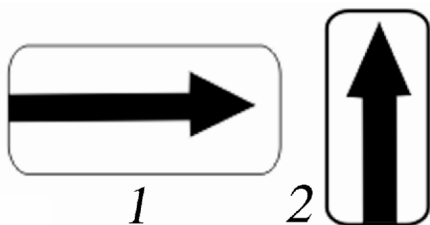
1. 70 km/saat
2. 80 km/saat
3. 90 km/saat

(m.50pII-4)

X. Yaşayış zonalarında sürücülərə nələr qadağan olunur?

1. Maksimum kütləsi 3,5 t-dan çox olan yük avtomobillərinin durması.
2. Mühərriki işlək vəziyyətdə olan nəqliyyat vasitələrinin durması.
3. Hər ikisi.

(m.45pII)



I. Nişanların qüvvədə olma istiqamətini göstərən lövhəciq hansıdır?

1. Birinci.
2. İkinci.
3. Hər ikisi.



II. Sizinlə birlikdə eyni dayanacaqdan çıxan avtomobilə yol verməlisinizmi?

1. Hə.
2. Yox.

(m.77pIII)



III. Sürücülərdən hansı dayanma qaydasını pozmuşdur?

1. Avtomobil sürücüsü.
2. Motosiklet sürücüsü.
3. Heç biri.
4. Hər ikisi.

(m.52pl)



IV. Hansı nəqliyyat vasitələri oxlarla göstərilmiş istiqamətdə hərəkət edə bilərlər?

1. Yük və minik avtomobilləri.
2. Tramvay və yük avtomobili.
3. Bütün nəqliyyat vasitələri (yük avtomobili tramvayı buraxaraq).

(m.59pIII)

V. Dairəvi yol ayrıcına dönmək (daxil olmaq) üçün sürücü həmin istiqamətdə hərəkət hissəsində müvafiq kənar vəziyyəti tutmalıdır?

1. Tutmalıdır.
2. Tutmaya bilər.

(m.73pVI)



VI. Sola dönmək üçün kimə yol verməlisiniz?

1. Ancaq avtobusa.
2. Ancaq minik avtomobilinə.
3. Heç kimə.


(m.77pII)



VII. Nəqliyyat vasitələri hansı ardıcılıqla yol ayrıcını keçməlidirlər?

1. Tramvay 1 və avtobus, yük avtomobili, minik avtomobili A, minik avtomobili B.
2. Tramvay 2, avtomobil A, avtobus, tramvay 1 və yük avtomobili, minik avtomobili B.

(m.77pII)



VIII. Hərəkət sürəti 10km/saat olan belə NV-nin dəmiryol keçidindən keçməsi üçün kimdən icazə alınmalıdır?

1. DYP-dən.
2. Dəmir yolu stansiyasının rəisindən.
3. İcazə alınmamalıdır.

(m.44pIII-3)

IX. Hansı nasazlıqda avtomobilin istismarına icazə verilmir?

1. Şinlərin ölçüsü və yük götürmə qabiliyyəti avtomobilin modelinə uyğun gəlmədikdə.
2. Eyni oxa müxtəlif naxışlı şinlər geydirildikdə
3. Hər iki halda verilmir.

(1 saylı əlavə pV)

X. Yaşayış məntəqələrindən kənarında asta gedən nəqliyyat vasitələri arasında məsafə necə saxlanılmalıdır?

1. Məsafə elə olmalıdır ki, araya başqa nəqliyyat vasitəsi girə bilməsin.
2. Məsafə elə olmalıdır ki, araya başqa nəqliyyat vasitəsi girə bilsin.

(m51pVI)



I. Bütün nəqliyyat vasitələrinin hərəkətini qadağan edən nişan hansıdır?


1. A.
2. V.
3. B.



III. Göstərilən yerdə dayanmaq olarmı?

1. Hə.
2. Yox.
3. Səkiyə çıxmaq şərti ilə olar.

(m.69pVI-4)



V. Hansı nəqliyyat vasitələri göstərilən istiqamətlər üzrə hərəkət edə bilər?

1. Tramvay, yük və minik avtomobilləri.
2. Yük və minik avtomobilləri.

(m.59pIII)



VII. Minik avtomobili ilə hansı maksimal sürətlə hərəkət edə bilərsiniz?

1. 60 km/s.
2. 90 km/s.
3. 100 km/s.

(m.50pII-2)

IX. Qabırğalarda və döş sümüyündə sınıqlar olan zərərçəkəni hansı vəziyyətdə aparmaq lazımdır?

1. Böyrü üstə uzadılmış vəziyyətdə.
2. Arxası üstə uzadılmış vəziyyətdə.
3. Oturaq və ya yarımoturaq vəziyyətdə.



II. Bu nişan sizə hansı məlumatı verir?

1. Yol örtüyü yaş olduğu halda hərəkət sürəti 40 km/s -dan çox olmamasını.
2. Yol örtüyü yaş olduqda NV-nin sürətinin 40 km/saattan çox olmamasını tövsiyə edir.



IV. Hansı nəqliyyat vasitəsi dayanma qaydasını pozmayıb?

1. Dəmir yolu qarşısında dayanan minik avtomobili və girişin qarşısında dayanan yük avtomobili.
2. Ancaq dəmir yolu qarşısında dayanan minik avtomobili.
3. Bütün göstərilən nəqliyyat vasitələri dayanma qaydasını pozub.

(m.52pIV)



VI. Yol ayrıcında göstərilən üsulla geri dönməyə icazə verilirmi?

1. Hə.
2. Yox.
3. Hə, əgər başqa nəqliyyat vasitələrinə maneçilik törədmirsə.

(m.42pXIV)



VIII. Hansı nişanın qüvvəsi qoyulduğu yerdən ən yaxın yol ayrıcına qədərdir?


1. Üçüncünün.
2. İkincinin.
3. Birinci və ikincinin.
4. Hər üçünün.

(m.64pVI)

X. Məhdud görünmə şəraitində duman faralarından necə istifadə edilə bilər?

1. Ayrıca.
2. Faraların yaxın və ya uzaq işıqları ilə birlikdə.
3. Hər iki halda istifadə etmək olar.

(m.73pV)



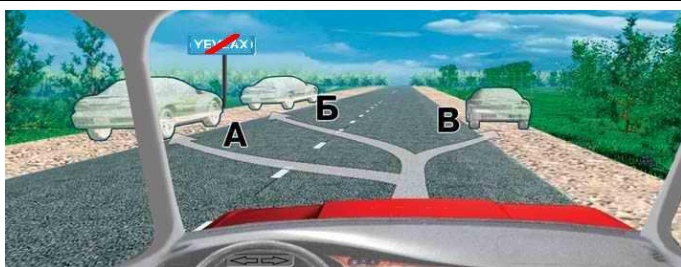
I. Hansı nişanda geri dönməyə icazə verilmir?

1. Birincidə.
2. İkincidə.
3. Heç birində.



II. Bu yol ayrıcında ötməyə icazə verilmirmi?


1. Verilir.
2. Əgər kəşişən yoldan nəqliyyat gəliрсə verilmir.
3. Heç bir halda verilmir. (m.51pV)



III. Göstərilən yerlərin hansında durmağa icazə verilir?

1. Ancaq B.
2. B və B.
3. Hər üçündə.

(m.52pI)



IV. Hansı nəqliyyat vasitələri göstərilən istiqamətlərdə hərəkət edə bilər?

1. Bütün nəqliyyat vasitələri (minik avtomobili tramvayı buraxaraq)
2. Ancaq relssiz nəqliyyat vasitələri (m.76pIII)

V. "Təhlükəli yük" nişanı NV-nin hansı tərəfində qoyulur?

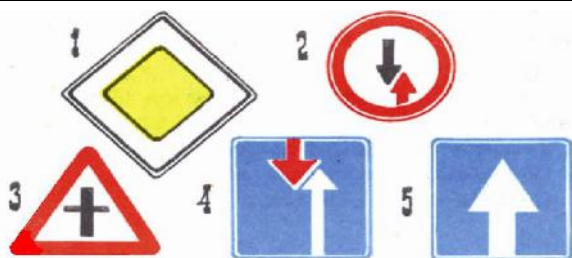
1. Arxa tərəfində.
2. Qabaq tərəfində.
3. Hər iki tərəfində.

(M 72 p 9)



VI. Siz sola dönərkən kimə yol verməlisiniz?

1. Hər iki nəqliyyat vasitəsinə.
2. Ancaq avtobusa.
3. Ancaq minik avtomobilinə. (m.77pI)



VII. Hansı nişanda sürücü qarşıdan gələn nəqliyyata nisbətən keçid üstünlüyünə malikdir?

1. Birincidə.
2. İkincidə.
3. Üçüncüdə.
4. Dördüncüdə.
5. Beşincidə.

IX. Yod məhlulundan və brilliant yaşıldan dezinfeksiya vasitəsi kimi necə istifadə edilməlidir?

1. Yaranın bütün səthinə sürtülməlidir.
2. Ancaq yaranın ətrafına dəriyə sürtülməlidir.



VIII. Bu nişan yaşayış məntəqələrindən kənarında nahamar yola nə qədər qalmış qoyulur?

1. 50-100 metr.
2. 150-300 metr.
3. 500-600 metr.

(m.62pIII)

X. Hansı hallarda sutkanın qaralıq vaxtı yolda nəqliyyat vasitəsi işıqları söndürülmüş vəziyyətdə duracaqda dayanma bilər?

1. İşıqlandırılmış yollarda dayanmış nəqliyyat vasitəsi kifayət qədər məsafədən görüldükdə.
2. Yolun kənarından kifayət qədər aralı saxlandıqda.
3. Hər iki halda. (m.73pVII-qeyd)



I. Hansı nişanın qüvvəsi tətbiq olunduğu yerdən başlayır?

1. Ancaq Б.
2. A və Б.
3. Hər üçün.

(m.64pVI-1.1)



II. Hansı traektoriya üzrə hərəkəti davam etdirməyə icazə verilir?

1. Ancaq A.
2. Б-dən başqa bütün istiqamətlərə.
3. Ancaq A və B.
4. Bütün istiqamətlərə.



III. Bu nişanlanma xətti ötməyə icazə verirmi?

1. Hə.
2. Yox.
3. Əgər traktor 30 km/s-dən aşağı sürətlə hərəkət edirsə verilir.

(m.69pVI-1.1)



IV. Harada dayanmalıyıq?

1. Svetoforun qarşısında.
2. Hərəkət hissəsinin kəşidyi yerin qarşısında.
3. Hər ikisində dayanmağa icazə verilir.

(m.60pII)

V. "Uzunölçülü NV" nişanı hansı NV-də qoyulur?

1. Uzunluğu 24 m-dən çox olan NV-də.
2. Uzunluğu 22 m-dən çox olan NV-də.
3. Hər iki NV-də qoyulur.


(M 72 p 10)



VI. Svetoforun bu vəziyyətində sol zolaqdan sağa dönməyə icazə verilirmi?

1. Hə.
2. Yox.


(m.42pVI)



VII. Hansı traektoriya üzrə geri dönməyə icazə verilir?

1. Ancaq A.
2. Ancaq Б.
3. Hər ikisindən.
4. Heç birindən.

(m.65pV)



VIII. «Qarşılıqlı hərəkət» yoluna çıxış nişanı hansıdır?

1. Birinci.
2. İkinci.
3. Hər ikisi.

IX. Qoşqusunun maksimum kütləsi 750 kq-dan çox olan minik avtomobilini hansı kateqoriyalı sürücü idarə edə bilər?

1. «B»
2. «BE»
3. Hər ikisi idarə edə bilər.

(m.34p6)

X. Müvafiq nişanlarla işarələnməyən enişli yoxuşlu yolda qarşılıqlı keçmək çətin olarsa, kim yol verməlidir?

1. Enişli düşən sürücü.
2. Yoxuşlu qalxan sürücü.
3. Qarşısında maneə olan sürücü.

(m.51pVII)



I. Yaşayış məntəqələrində bu vəziyyətdə ötməyə başlamaq olarmı?

1. Hə.
2. Yox.

(m.62pIII; m.51pV)




1



2

II. Hansı nişanda dayanmağa icazə verilir?

1. Birincidə.
2. İkincidə.
3. Hər ikisində.



V. Göstərilən yerlərin hansında dayanmağa icazə verilir?

1. Körpülərin üstündə həmin istiqamətdə 2 hərəkət zolağı olduqda.
2. Yol ayırıcına 5 m. qalmış.
3. Körpülərin altında.
4. Sadalanan bütün yerlərdə.

(m.52pIV)



IV. Sağa dönərkən kimə yol verməlisiniz?


1. Ancaq piyadalara.
2. Ancaq velosipedçiyə.
3. Hər ikisinə.

(m.75pI)

V. Yolayrıçından kənarında sola və ya geriye dönən relssiz NV-nin sürücüsü kimə yol verməlidir?

1. Qarşıdan gələn NV-nə.
2. Eyni istiqamətdə gedən tramvaya.
3. Hər ikisinə.


(M 42 p IX)



VI. İki tərəfli yolda hansı sürücü ötməni düzgün yerinə yetirir?

1. Yük avtomobilinin sürücüsü.
2. Minik avtomobilinin sürücüsü.
3. Hər ikisi.
4. Heç biri.

(m.59pVIII)



VII. Hansı nəqliyyat vasitəsi tramvaya yol verməlidir?

1. Ancaq yük avtomobili.
2. Ancaq minik avtomobili.
3. Hər ikisi.
4. Heç biri.

(m.48pIII)



VIII. Bu nişan sizə nəyi xəbərdar edir?

1. Şinlərin altından çınqıl çıxması ehtimalı olan yol sahəsinə yaxınlaşmanı.
2. Sürüşkən yol sahəsinə yaxınlaşmanı.
3. Hər iki halda göstərilən nişan tətbiq oluna bilər.

(m.62)

IX. Avtomobilin yüklənməsi onun ağırlıq mərkəzinə necə təsir göstərir?

1. Yuxarı qaldırır.
2. Aşağı endirir.
3. Dəyişməz qalır.

X. Qoşqulu minik avtomobilinə avtomagistralda hansı maksimal sürətlə hərəkət etməyə icazə verilir?

1. 110 km/saat
2. 90 km/saat
3. 50 km/saat

(m.50pII-4)



I. Sizə ayın cüt günləri göstərilən yerdə durmağa icazə verilirmi?

1. Ancaq istirahət və bayram günləri icazə verilir.
 2. Yox.
 3. Hə.
- (m.65pVI)

ASTARA

YEVLAX

A

B

II. Hansı nişanda yaşayış məntəqələrinə aid olan yol hərəkət qaydaları qüvvədədir?

1. Ancaq A.
 2. Ancaq B.
 3. Hər ikisi.
- (m.66pII)

III. Elastik birləşdici ilə yedəyə almada NV-nin hansı idarə mexanizmi saz vəziyyətdə olmalıdır?

1. Ancaq tormoz sistemi.
 2. Ancaq sükan idarə mexanizmi.
 3. Hər ikisi.
- (M 55 p V)



IV. Sol zolaqdan hansı istiqamətə hərəkət etməyə icazə verilir?

1. Ancaq düz və sola.
 2. Düz, sola və geri.
 3. İstənilən tərəfə.
- (m.42pVI)



V. Sol zolağa keçmək üçün dönmə işarəsi verməyə ehtiyac varmı?

1. Hə.
 2. Yox.
 3. Vermək də olar, verməmək də.
- (m.42pI)

VI. Qismən yükləmə üsulu ilə yedəyə almada NV-nin çəkisi nəzərə alınmalıdır?

1. Hə.
2. Yox.



VII. Yüklü avtomobilini keçdikdən sonra orta zolaqla hərəkətə davam etdirməyə icazə verilirmi?

1. Hə.
 2. Yox.
- (m.49pIII)



1



2

VIII. Hansı nişanda ayın cüt günləri durmağa icazə verilir?

1. Birincidə.
2. İkincidə.
3. Hər ikisində.
4. Heç birində.

IX. Hansı nasazlıqda istismar qadağan olunur.

1. Palçıqdan qoruyan fartuklar olmadıqda.
 2. Qış fəslində salonu qızdıran qurğu işləmədikdə.
 3. Hər iki halda.
- (1 sayılı əlavə pVII-5)

X. Hansı hallarda DYP-i əməkdaşları sürücünü nəqliyyat vasitəsini idarə etməkdən kənarlaşdırma bilər?

1. Sürücü sərxoş olduqda.
 2. Mühərrik, ban, şassi, nömrələri qeydiyyat şəhadətnaməsinə uyğun gəlmədikdə.
 3. Dövlət qeydiyyat nişanı olmadıqda və ya saxta olduqda.
 4. Bütün hallarda.
- (inzibati xətlər, m.406)



I. Yük avtomobillərinin arasındakı minik avtomobili ötməyə başlaya bilərmə?

1. Hə.
2. Yox.

(m.51p1-2)



1



2



3

II. «Marşrut nəqliyyat vasitələri üçün zolaq» nişanı hansıdır?

1. Birinci.
2. İkinci.
3. Üçüncü.
4. Hər üçü.



V. Nişanın təsir zonasında hansı sürücü düzgün hərəkət edir?

1. Soldakı.
2. Ortadakı.
3. Sağdakı.

(m.64, 69)



IV. Sağa dönərkən sola dönən avtomobilə yol verməlisinizmi?

1. Hə.
2. Yox.

(m.76p1)



V. Siz sola dönərkən digər sola dönən avtomobilə yol verməlisinizmi?

1. Hə.
2. Yox.

(m.77pIII)



VI. Siz düz gedərkən qarşıdakı avtomobilə yol verməlisinizmi?

1. Hə.
2. Yox.


(m.77pIV)



VII. Bu yol neçə hərəkət hissəsindən ibarətdir?

1. İki.
2. Dörd.
3. Bir.

(m.1p7)



VIII. Yol ayırıcı hansı ardıcılıqla keçilməlidir?

1. Tramvay, motosikl, avtomobil.
2. Tramvay, avtomobil, motosikl.
3. Motosikl, avtomobil və tramvay.

(m.77p1)

IX. Nəqliyyat vasitələrinin bənından tikinti və ya digər materiallar axarsa onun hərəkəti hansı yollarda qadağan olunur?

1. Örtüyü təkmilləşdirilmiş yollarda.
2. Bütün yollarda.

(m.37pV-4)

X. Avtobusun şinlərinin protektorundakı naxışlarının qalmış hündürlüyü ən azı nə qədər olmalıdır?

1. 3 mm.
2. 2,5 mm.
3. 2 mm.
4. 4 mm.

(1 saylı əlavə pV)



I. Bu nişan hansı nəqliyyat vasitələrinə şamil edilmir?

1. Əlil tanınma nişanı olan I və II qrup əlillərin idarə etdiyi nəqliyyat vasitələrinə.
2. Sayğacı işləyən taksilərə.
3. Hər ikisinə.

(m.64pV-2)



II. Yol ayrıcısı hansı ardıcılıqla keçilməlidir?

1. Minik avtomobili və avtobus, yük avtomobili və motosiklet.
2. Minik avtomobili, avtobus, yük avtomobil və motosiklet.
3. Minik avtomobili və motosiklet, yük avtomobili və avtobus.

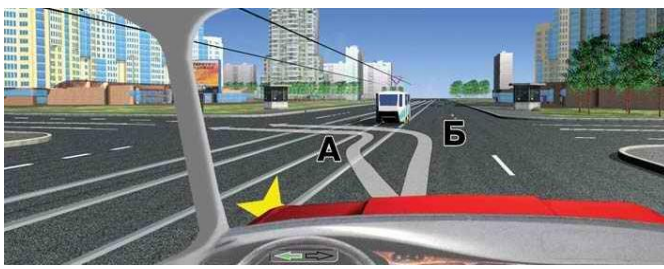
(m.77pIII)



III. Belə vəziyyətdə siz necə hərəkət etməlisiniz?

1. Sürəti azaldaraq hərəkəti davam etdirməliyəm.
2. Sürəti azaltmadan hərəkəti davam etdirməliyəm.
3. DYP-nin yanında dayanıb onun icazəsindən sonra hərəkəti davam etdirməliyəm.


(m.48pII)



IV. Hansı traektoriya üzrə sola dönmə qaydalara uyğundur?

1. Ancaq Б.
2. Ancaq А.
3. Hər ikisi üzrə.

(m.42pVI)



V. Keçmək ardıcılığı necə olmalıdır?

1. Avtomobil B, avtomobil A.
2. Avtomobil A, avtomobil B.
3. Avtomobil A yol ayrıcında dayanır, avtomobil B-ni buraxdıqdan sonra hərəkəti davam edir.

(m.77pIII)



VI. Yaşayış məntəqələrində sol zolaqda hansı sürətlə hərəkət etməyə icazə verilir?

1. 50 km/s-dan aşağı və 60 km/s-dan yuxarı olmayan sürətlə.
2. 60 km/s-dan çox olmayan.
3. 50 km/s-dan çox olmayan

(m.50pII)



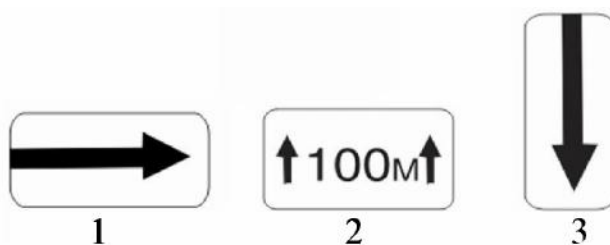
VII. Belə vəziyyətdə sizə icazə verilir?

1. Yol kənarı ilə hərəkəti davam etdirməyə.
2. Yük avtomobili yolu boşaltdıqdan sonra hərəkəti davam etdirməyə.
3. Hər iki variantda icazə verilir. (m.51pII)

IX. Eyni oxuna protektoru müxtəlif naxışlı şinlər geydirilmiş hansı avtomobilin istismarına icazə verilmir?

1. Minik avtomobillərinin.
2. Ancaq avtobusların.
3. Heç birinin.

(1 sayılı əlavə pV-5)




VIII. «Qüvvədə olma zonası» lövhəciyi hansıdır?

1. Birinci.
2. İkinci.
3. Üçüncü.
4. İkinci və üçüncü.

X. Şinlərin protektorlarındakı naxışların qalmış hündürlüyü 1mm-dən azdırsa, bu hansı avtomobillərin istismarını qadağan edir?

1. Avtobusların
2. Minik avtomobillərinin.
3. Yük avtomobillərinin.
4. Hər üçünün.

(1 sayılı əlavə pV-I)



I. Hansı sürücü qaydamı pozmuşdur?

1. Ancaq A.
2. Ancaq B.
3. Hər ikisi.
4. Heç biri.

(m.68pl)



1



2



3

II. Hansı nişanın təsir qüvvəsi tətbiq olunduğu yerdən birinci yol ayrıcına qədərdir?

1. Birincinin.
2. İkincinin.
3. Üçüncünün.
4. Hər üçünün.

(m.64pVI)

III. Mexaniki NV hansıdır?

1. Relsli NV.
2. Relssiz NV.
3. Hər ikisi.

(m.1p18)



IV. Sağa dönmək üçün siz kimə yol verməlisiniz?

1. Ancaq minik avtomobilinə.
2. Minik avtomobili və motosikletə.
3. Yol ayrıcını birinci keçməliyəm.

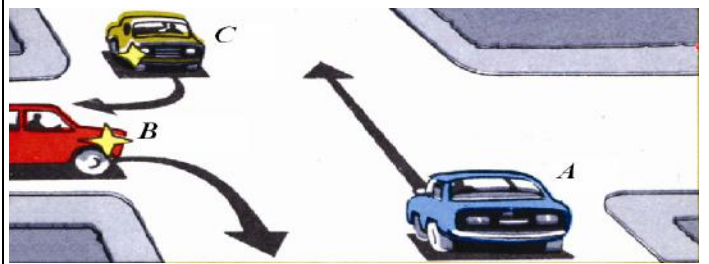
(m.77pIII)



V. Yol ayrıcına daxil olarkən kimə yol verməlisiniz?

1. Hər iki nəqliyyat vasitəsinə.
2. Heç birinə.

(m.42pXV)



VI. Yol ayrısı hansı ardıcılıqla keçilməlidir?

1. Avtomobil B, Avtomobil A.
2. Avtomobil A, Avtomobil B, Avtomobil C.
3. Hər üçü eyni zamanda keçməlidir.

(m.77pIII)



VII. Yerdən hündürlüyü ən çoxu nə qədər olan NV-nin dəmir yol keçidindən keçməsinə razılıq almaq lazım gəlmir?

1. 4 m.
2. 4,5 m.
3. 5 m.

(m.57pVI)



VIII. Yol ayrıcını keçdikdən sonra sizə sola həyəətə girməyə icazə verilirmi?

1. Verilir.
2. Verilmir.
3. Əgər orada yaşayırsınızsa verilir.

(m.65pIV)

IX. İşçi tormozu qəflətən xarab olan avtomobili necə saxlamaq olar?

1. İlişmə muftasını ayırmaqlı və əl tormozu ilə kəskin tormozlamalı.
2. Əl tormozu ilə tormozlamalı, sürətlər qutusunun aşağı ötürülməsinə keçməli və hər hansı maneədən istifadə etməli.

X. Əl tormozu saz vəziyyətdə olan yoxuşda və ya enişdə duran hansı yük avtomobillərinin təkərləri altında dayaq qoyulmalıdır?

1. Maksimal kütləsi 3.5 t-dan çox olan avtomobilin.
2. Maksimal kütləsi 3.5 t-dan az olan avtomobilin.
3. Hər ikisinin.
4. Heç birinin.

(1 saylı əlavə m.VIIp7)



I. Göstərilən yerdə dayanmağa icazə verilirmi?

1. Verilir.
2. Verilmir.
3. Ancaq sərnişin mindirib-düşürmək üçün verilir.



II. Buradan sola dönməyə icazə verilirmi?

1. Verilir.
2. Verilmir.



III. Nizamlayıcının əli qabağa uzadılmış vəziyyətdə sizə göstərilən istiqamətlərdən hansına getməyə icazə verilir?

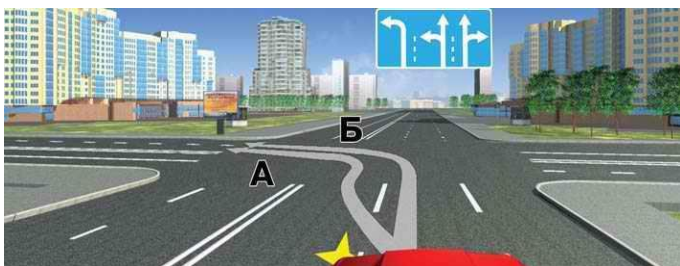
1. Ancaq A.
2. A və ya B.
3. Bütün istiqamətlərə.

(m.58pII)

IV. Svetoforun yaşıl işıqından sonra yanan sarı işıqda yol ayrıcı qarşısında kəskin tormozlama aparmadan nəqliyyatı saxlamaq mümkün olmadıqda hərəkəti davam etdirməyə icazə verilirmi?

1. Verilir.
2. Verilmir.

(m.60pIV)



V. Hansı traektoriya üzrə sola dönməyə icazə verilir?

1. Ancaq A.
2. Ancaq B.
3. Hər ikisi üzrə.

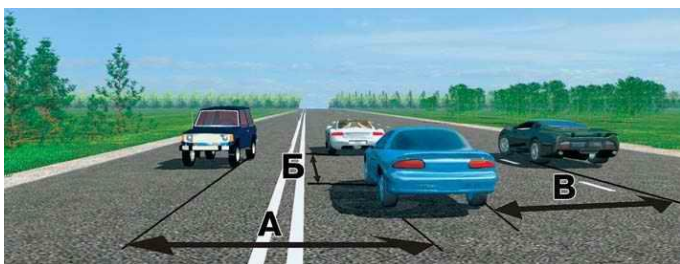
(m.42pVII)



VI. Göstərilən üsulla geri dönməyə icazə verilirmi?

1. Verilir.
2. Verilmir.
3. Verilir, əgər digər nəqliyyat vasitələrinə maneə yaradılmırsa.

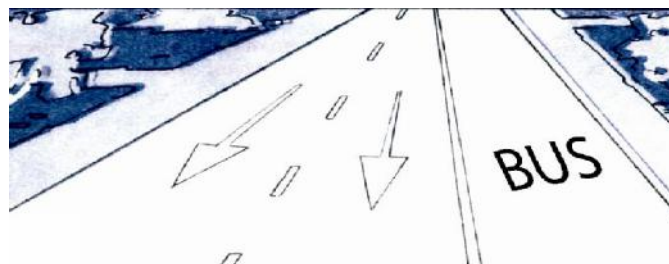
(m.42pXIV; m.1p11)



VII. Göstərilənlərdən hansı ara məsafəsi (distansiya) adlanır?

1. Ancaq B.
2. Ancaq A.
3. A və B.
4. Ancaq B.

(m.50pIII)



VIII. «BUS» işarəsi olan zolaqla hansı nəqliyyat vasitələrinin hərəkətinə işarə verilir?

1. Marşrut nəqliyyat vasitələrinə.
2. Marşrut nəqliyyat vasitələri və taksilərə.

(m.69p23)

IX. Xarici zədə əlamətləri görünməyən və huşsuz vəziyyətdə olan, ürək-ağ ciyər reanimasiyası keçirmiş zərərçəkənə hansı «bərpa edici» vəziyyətə gətirmək lazımdır?

1. Üzü üstə uzadıb əllərini alınının altına qoymaqla.
2. Böyrü üstə uzadıb ayaqlarını dizdən bükməklə.
3. Başının altına yastıq qoyub arxası üstə uzatmaqla.

X. Elastik yedəyə alma zamanı birləşdirici hissə neçə ədəd bayraqçılarla işarələnəlidir?

1. 3-5 ədəd.
2. 6-7 ədəd
3. 2-3 ədəd.

(m.55pV-9)



I. Bu vəziyyətdə yük avtomobilini ötə bilərsinizmi?

1. Hə.
2. Yox.

(m.51pI-2)



1



2



3

II. Hansı nişanın qüvvəsi birinci yol ayrıcına qədərdir?

1. Birincinin.
2. İkincinin.
3. Üçüncünün.
4. Hər üçünün.


(m.65pVI)



III. Maksimal kütləsi 3,5 tondan çox olmayan nəqliyyat vasitəsi lövhəcikdə göstərilən üsulla dura bilərmi?

1. Hə.
2. Yox.

(m.52pII)



IV. Göstərilən nəqliyyat vasitələri hansı istiqamətdə gedə bilər?

1. Tramvay düz, sağa və sola, avtomobil tramvayı buraxdıqdan sonra hər tərəfə.
2. Tramvay sağa və sola, avtomobil düz.
3. Tramvay düz, avtomobil düz, sağa, tramvayı buraxdıqdan sonra sola və geri.

(m.59pIX)



V. Siz sağa dönərkən minik avtomobilinə yol verməlisinizmi?

1. Hə.
2. Yox.


(m.77pIII)



VI. Sola dönərkən kimə yol verməlisiniz?

1. Ancaq minik avtomobili və avtobusa.
2. Ancaq avtobusa və motosikletə.
3. Bütün nəqliyyat vasitələrinə.

(m.77pII)



VII. Tramvay hansı istiqamətdə gedə bilər?

1. Düz və sola.
2. Sağa.
3. Sola.

(m.59pIX)



VIII. Bu nişan sizi xəbərdar edir:

1. Sağ tərəfdən gələn nəqliyyat vasitəsinə yol verməlisiniz.
2. Yol ayrıcında keçid üstünlüyü sizə verilir.
3. Kəsişən yoldan gələn bütün nəqliyyat vasitələrinə yol verməlisiniz.

(m.77pIII)

IX. Piyada keçidlərində ötməyə icazə verilirmi?

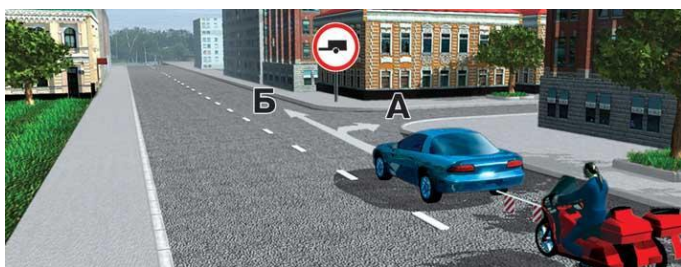
1. Verilir.
2. Keçiddə piyadalar olmadıqda verilir.
3. Bütün hallarda verilir.

(m.51pV-2)

X. Palçıqdan qoruyan fartuklar və brizqoviklər olmadıqda nəqliyyat vasitəsinə istismar etmək olarmı?

1. Hə.
2. Yox.

(1 saylı əlavə pVII-5)

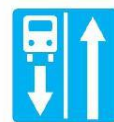


I. Yedəklə hansı istiqamətə getmək olar?

1. Ancaq B.
2. Ancaq A.
3. Hər iki istiqamətə.



A




B



B

II. «Qarşılıqlı hərəkət» nişanı hansıdır?

1. A.
2. B.
3. B.



III. Bu vəziyyətdə yol ayırıcından hansı istiqamətlərə getmək olar?

1. Avtomobil düz və sağa, tramvay dayanır.
2. Avtomobil sola, tramvay dayanır.
3. Avtomobil dayanır, tramvay düz və sağa gedir.

(m.59pIX)



IV. Yol ayırıcını keçdikdən sonra reversiv hərəkət olan zolağa daxil olmaq olarmı?

1. Hə.
2. Yox.

(m.59pVIII)



V. Minik avtomobilinin sürücüsü tərəfindən verilən işarə nəyi göstərir?

1. Sola və ya geri dönməni.
2. Dayanıb qarşıdan gələn yük avtomobilinə yol vermək istədiyini.

(m.42pII)

VI. İntensiv hərəkəti vaxtı NV-nin sürücüsü hərəkət zolağını hansı halda dəyişə bilər?

- 1) Ötməyə hazırlaşmaq üçün.
- 2) Hərəkəti düzünə davam etdirmək üçün.
- 3) Duracağa çıxmaq üçün.
- 4) Hər üç halda dəyişə bilər.

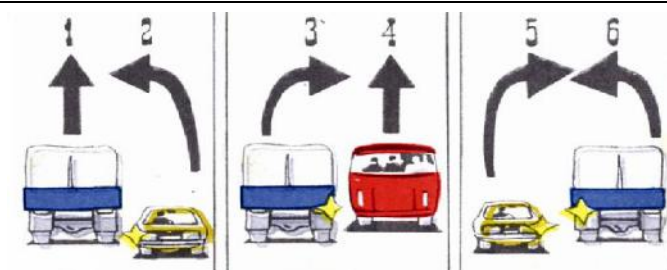
(m.49pVI)



VII. Bu vəziyyətdə siz eyni istiqamətdə olan tramvay yolu ilə hərəkəti davam etdirə bilərsinizmi?

1. Hə.
2. Yox.
3. Sola və ya geri dönmək üçün olar.

(m.49pIV)



VIII. Yerdəyişmə zamanı kim yol verməlidir?

1. 1,4,6.
2. 2,3,5.
3. 2,3,4.

(m.42pV)

IX. Hansı qayda pozuntusu 3 balla qiymətləndirilir?

1. Ümumi istifadədə olan nəqliyyat vasitələrinin sərnişinlərlə yanacaq doldurma məntəqəsinə daxil olması?
2. Ötmə və manevr etmə qaydalarının pozulması.
3. Hər iki qayda pozuntusu 3 balla qiymətləndirilir.

(inzibati xətlər m.151.2)

X. Hansı halda körpülərin üstündə dayanmağa icazə verilir?

1. Həmin istiqamətdə 2 hərəkət zolağı olduqda.
2. Həmin istiqamətdə 2-dən çox hərəkət zolağı olduqda.
3. Heç birinə icazə verilmir.
4. Hər ikisində icazə verilir.


(m.52pIV-2)



I. Siz ötməyə harada başlaya bilərsiniz:

1. Dəmir yolunu keçən kimi.
2. Dəmir yolundan 100m uzaqlaşdıqdan sonra.

(m.51pV-3)



1

2

3

II. Bu nişanlar hansı yollarda qoyulur?

1. Avtomagistralda.
2. Avtomobil yollarında.
3. Hər ikisində qoyula bilər.

(m.66pVI)

III. Yol nəqliyyat hadisəsi zamanı qəzaya uğrayan NV-nin sürücüsü qəza işıq siqnalını yandırdığı halda qəza dayanma nişanını quraşdırmalıdır?

1. Hə.
2. Yox.

(m.37pIV-1)



IV. Siz sola dönərkən kimə yol verməlisiniz?

1. Xüsusi səs və işıq siqnalı verən avtomobilə.
2. Ancaq motosikletə.
3. Hər iki nəqliyyat vasitəsinə.

(m.48pI; m.76pI)



V. Siz sola necə dönə bilərsiniz?

1. Qarşıdan gələn avtomobillə eyni zamanda dönərəm.
2. Sola dönmək üçün hər iki nəqliyyat vasitəsinə yol verib dönməliyəm.

(m77pIII)



VI. Siz düz getmək üçün kimə yol verməlisiniz?

1. Ancaq avtobusa.
2. Ancaq minik avtomobilinə.
3. Hər iki nəqliyyat vasitəsinə.

(m77pII)



1

2

3

VII. Sürücü hansı nişanın təsir zonasında ancaq yol nəqliyyat hadisəsinin qarşısını almaq üçün səs siqnalı verə bilər?

1. 1 və 3.
2. 1 və 2.
3. Ancaq 3.
4. Ancaq 1.
5. Hər üçündə.

(m66pII)



VIII. Şəkilə neçə yol ayrıcı görürsünüz?

1. Bir.
2. İki.
3. Dörd.

(m1pII)

IX. Hərəkət sürəti iki dəfə artdıqda tormoz yolu neçə dəfə artar?

1. İki dəfə.
2. Üç dəfə.
3. Dörd dəfə.

X. Yedəyi olan nəqliyyat vasitəsinə idarə edən sürücünün sürücülük təcrübəsi ən azı neçə il olmalıdır?

1. 2 il.
2. 3 il.
3. 1 il.

(m.55pV-1)



I.Siz hansı istiqamətə hərəkət edə bilərsiniz?

- 1.Ancaq düz.
- 2.Düz və ya geri.
- 3.Düz və ya sola.

(m.65pIII-IV)



II.Bu nişan sizdən nəyi tələb edir?


- 1.Nişan qarşısında dayanıb gömrük əməkdaşlarını gözləməyi.
- 2.100 metr keçdikdən sonra gömrük məntəqəsi qarşısında dayanmağı.
- 3.Gömrük məntəqəsindən keçərkən sürətin azaldılmasını.



III. Sürücülərdən hansı dayanmaq üçün göstərilən bütöv xətləri kəsə bilər?

- 1.Qarşıdan gələn kəsə bilər.
- 2.Heç biri kəsə bilməz.
- 3.Hər ikisi kəsə bilər.

(m.52pI)



IV. Kimə hansı istiqamətdə getməyə icazə verilir?

1. Tramvay və avtomobil düz, sağa və sola.
2. Hər ikisi dayanıb gözləyir.
3. Tramvay dayanır, avtomobil hər tərəfə gedir.

(m.59pIX)

V. Yan interval hərəkət sürətindən asılıdır mı?

1. Asılıdır.Hərəkət sürəti artıqca yan intervalda artmalıdır.
2. Asılı deyil.



VI.Hansı traektoriya üzrə sola dönmək qaydalara uyğundur?

- 1.Ancaq A.
- 2.Ancaq B.
- 3.Hər ikisi üzrə dönmək olar.

(m.42pVII)



VII.Geri hərəkətlə körpü üzərində dayanan sərnişinə yaxınlaşmaq olarmı?

1. Başqa nəqliyyat vasitələrinə maneə törədilmədikdə olar.
- 2.Olmaz.
3. Olar.

(m.52pIV-2)



1



2



3

VIII. 3-cü nişan hansı nişanla işarələnmiş yolda qoyula bilər?

- 1.Birincidə.
- 2.İkincidə.
- 3.Hər ikisində.

(m66pVI)

IX. İctimai nəqliyyat dayanacağından geri dönməyə icazə verilir mi?

- 1.Yaşayış məntəqələrindən kənarında verilir.
2. Yaşayış məntəqələrində verilir.
3. Verilmir.
4. Hər iki halda verilir.

(m52pIV-7)

X. Minik avtomobilinin duracaq tormozu 230-dən çox olan enişdə onun tərpənməz vəziyyətini təmin etmərsə, sürücü nə etməlidir?

1. İstismarı dayandırmalı və təmir məntəqəsinə getməlidir.
2. Ehtiyatla iş gününü başa vurmaldır.

(1 sayılı əlavə pI-5)



I. Nişanda göstərilən məsafədən sonra minik avtomobilinin maksimal sürəti hansı həddə qədər ola bilər?

1. 70 km/s.
2. 90 km/s.
3. 110 km/s.

(m.50pII-2)



II. Göstərilən yerlərin hansında durmağa icazə verilir?

1. Ancaq A.
2. Ancaq B.
3. Hər ikisində.


(m.52pI)



III. Sola dönməyə kimə yol verməlisiniz?

1. Qarşıdan gələn avtomobilə.
2. Piyadalara.
3. Hər ikisinə.

(m.76pI; V)



IV. Nəqliyyat vasitələrinin hansı istiqamətdə hərəkətinə icazə verilir?

1. Hər ikisi bütün istiqamətlərə gedir.
2. Hər ikisi dayanır.
3. Tramvay bütün istiqamətlərə gedir, avtomobil dayanır.

(m.59pIII)



V. Siz bu vəziyyətdə sağa dönməyə başlaya bilərsinizmi?

1. Hə.
2. Yox.
3. Yük avtomobilinə manevr törədilmədikdə başlamaq olar.

(m77pI)

VI. Hansı avtomobillərin qabaq şüşəsinin yuxarı hissəsində rəngli şaffaf plyonka bərkidilə bilər?

1. Yük avtomobillərin.
2. Minik avtomobillərin və avtobusların.
3. Hər üçünün.

(1 sayılı əlavə, m.VII-qeyd)



VII. Hansı nəqliyyat vasitələri göstərilən istiqamətlər üzrə hərəkət edə bilər?

1. Motosikl və minik avtomobili.
2. Motosikl və tramvay.
3. Motosikl, yük və minik avtomobilləri.

(m.76pIII)



VIII. Bu yol nişanı sizə nəyi xəbərdar edir?

1. Tramvay xətti qarşısında dayanmanı.
2. Tramvay xətti ilə kəsişməyə yaxınlaşmanı.
3. Tramvay dayanacağına yaxınlaşmanı.

IX. Aşağıdakılardan hansı məcburi dayanma adlanır?

1. Yolun hərəkət hissəsində texniki nasazlığa görə dayanma.
2. Piyada keçidi qarşısında dayanıb piyadalara yol vermək üçün dayanma.
3. Hər iki məcburi dayanmadır.

(m.1p30)

X. Şinlərin naxışlarının yeyilməsi işləmə əmsalına necə təsir göstərir?

1. Artırır.
2. Təsir etmir.
3. Azaldır.



I. Bu nişan sizdən tələb edir:

1. 100m-dən sonra ara məsafəsi 70 m-dən çox olmamalıdır.
2. 100 metr məsafədə ara məsafəsi 70 metrdən az olmamalıdır.
3. 100 metr məsafədə, ara məsafəsi 70 metr olmalıdır.



II. Orta sırada minik avtomobil hansı istiqamətlərə hərəkət edə bilər?

1. Düz, sola və geri.
2. Düz və sola.
3. Ancaq düz.

(m.42pVI)



III. Sizə göstərilən yerdə durmağa icazə verilirmi?

1. Verilmir.
2. Verilir.

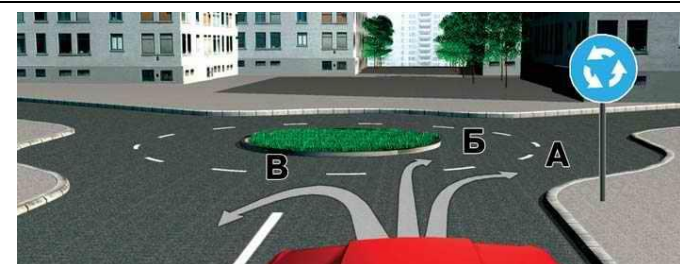
(m69p10)



IV. Yol ayırıcı hansı ardıcılıqla keçilməlidir?

1. Tramvay, yük avtomoböli, minik avtomobili.
2. Tramvay, minik avtomoböli, yük avtomobili.
3. Minik avtomoböli, tramvay və yük avtomobili.

(m.76pIII)



V. Hərəkəti hansı traektoriya üzrə davam etdirə bilərsiniz?

1. Ancaq A.
2. Ancaq A və ya B.
3. Bütün istiqamətlərə.

(m.42pVII)



VI. Sizə yolun bu sahəsindən geri dönməyə icazə verilirmi?

1. Görünüş 100m-dən çoxdursa verilir.
2. İcazə verilmir.

(m.69pVI-11)



VII. Maksimal kütləsi 3,5 tondan çox olmayan yük avtomobilin maksimal sürəti ola bilər:

1. 60 km/s.
2. 70 km/s.
3. 90 km/s.

(m.50pII-2)



VIII. Bu nişan hansı yollarda qüvvədə olur?

1. Ancaq nişan qoyulan yolda.
2. Müvafiq zonada yerləşən bütün yollarda

IX. Hansı hallarda sağ tərəfdən ötməyə icazə verilir?

1. Sağ tərəf boş olduqda.
2. Ötülən nəqliyyatın sürücü sola dönmə signalı verdikdə.
3. Ötülən nəqliyyatın sürücü sola dönmə signalı verib, dönməyə başladığında.

(m.51pII)

X. Hansı avtomobillərdə sürəti artırmaqla arxa körpüdə sürüşmənin qarşısını almaq olar?

1. Qabaq aparıcı körpülü avtomobillərdə.
2. Arxa aparıcı körpülü avtomobillərdə.



I. Belə vəziyyətdə siz qarşıdan gələn avtomobilə yol verməlisinizmi?

1. Hə.
2. Yox.

(m.51pVII)



1

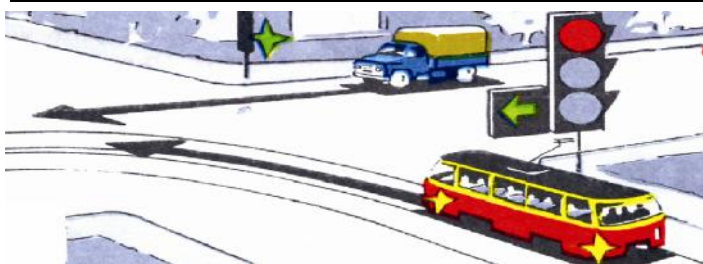


2

II. Bu nişanlar hansı nişanlarla birgə tətbiq oluna bilər?

1. «Qəza dayanma yeri» nişanları ilə.
2. «Qəza çıxışlarının istiqaməti və məsafəsi» nişanları ilə.
3. Hər ikisi ilə.

(m.66pIV)



III. Kim yol verməlidir.

1. Avtomobil sürücüsü.
2. Tramvay sürücüsü.

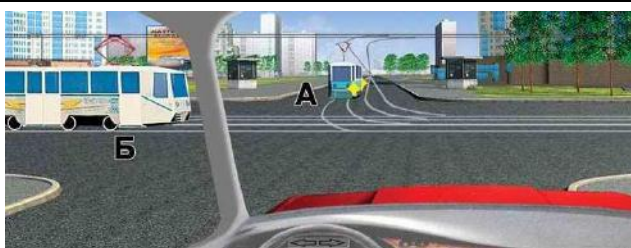
(m.76pIII)



IV. Nizamlayıcının bu vəziyyətində siz hansı istiqamətə hərəkət edə bilərsiniz?

1. Sola və geri.
2. Düz və sağa.
3. Bütün istiqamətlərə.

(m.58pV)



V. Düz gedərkən kimə yol verməlisiniz?

1. Ancaq tramvay A.
2. Ancaq tramvay B.
3. Hər iki tramvaya.
4. Heç birinə.

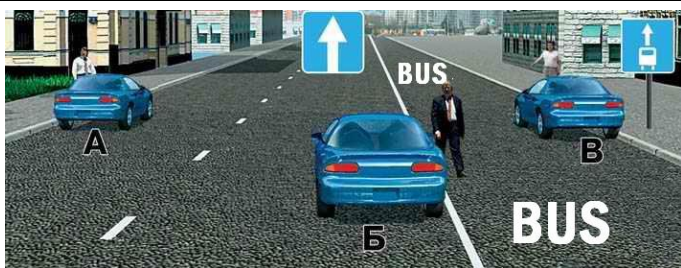
(m77pIII)



VI. Siz sola dönərkən kimə yol verməlisiniz?

1. Ancaq avtobusa.
2. Hər iki nəqliyyat vasitəsinə.
3. Heç birinə.

(m77pII)



VII. Sərnişin düşürmək üçün hansı avtomobil düzgün dayanıb?

1. Ancaq B.
2. B və B.
3. A və B.
4. Ancaq A.

(m.48pIV; m.41pI)



VIII. Burada avtobusa ötmə əməliyyatı aparmağa icazə verilirmi?

1. Verilir.
2. Verilmir.

(m.51; 64)

IX. Tormoz yolu nəyə deyilir?

1. Sürücünün təhlükəni gördüyü andan avtomobilin tam dayanmasına qədər gedilən məsafəyə.
2. Tormoz pedalını sıxdığı andan avtomobilin tam dayanmasına qədər gedilən məsafəyə.

X. Nəqliyyat vasitəsinin hansı ötürməsində yanacaq daha çox sərf olunur?

1. Birincidə.
2. İkincidə.
3. Üçüncüdə.



I. Burada ötməyə başlamaq olarmı?

1. Olar.
2. Olmaz.
3. Görmə 100 metrdən çoxdursa və ötmə dəmir yoluna 100 metr qalana qədər başa çatarsa olar.



II. Göstərilən yerdə dayanmağa icazə verilmirmi?

1. Verilir.
2. Verilmir.
3. Ancaq sərnəşin mindirib düşürmək üçün verilir.



III. Oxlarla işarələnmiş istiqamətlərin hansı ilə hərəkətə icazə verilir?

1. A.
2. B.
3. B.
4. A və B.
5. B və B.

(m.65pV)



IV. Hansı nişan bütün nəqliyyat vasitələrinin hərəkətini qadağan edir?

1. Birinci.
2. İkinci və dördüncü.
3. Üçüncü və beşinci.
4. Ancaq beşinci.



V. Həyətə girən avtomobil hansı səhvə yol verir?

1. Hərəkət ancaq düzünə olduğu halda sağa dönmür.
2. Dönmə işarəsi vermir.
3. Hər iki səhvə yol verir.

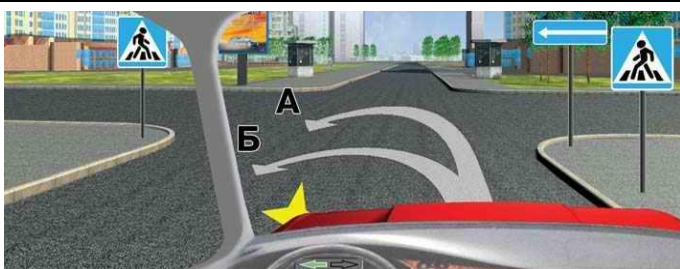
(m.42pl)



VI. Siz yük avtomobilinə yol verməlisinizmi?

1. Hə.
2. Yox.
3. Sağa dönmərsə yol verməliyəm.

(m.42pIV)



VII. Hansı traektoriya üzrə geri dönməyə icazə verilir?

1. Ancaq A.
2. Ancaq B.
3. Hər ikisi üzrə.

(m.42pXII)



1



2

VIII. Hansı nişanda durmağa icazə verilir?

1. Birincidə.
2. İkincidə.
3. Hər ikisində.
4. Heç birində.

IX. Avtobusların və yüngül minik avtomobillərinin damında yük yeri quraşdırmağa icazə verilmirmi?

1. Verilir.
2. Verilmir.

(m.57pIX)

X. Hansı qayda pozuntusu 3 balla qiymətləndirilir?

1. Yolda müəyyən edilmiş hərəkət sürətinin 10-30 km/saat həddindən aşılmasına.
2. «Hərəkət qadağandır» yol nişanının tələbinin pozulması.
3. Işıq cihazlarından və səs siqnallarından istifadə qaydalarının pozulması.

(inzibati xətlər m.151.2)



I. Nişanda göstərilən yol ayrıcının hansında ötməyə icazə verilir?

1. Birincidə.
2. İkincidə və üçüncüdə.
3. Heç birində.
4. Hər üçündə.



II. Sizə qarşıda gedən minik avtomobilini ötməyə icazə verilmirmi?

1. Hə.
2. Yox.

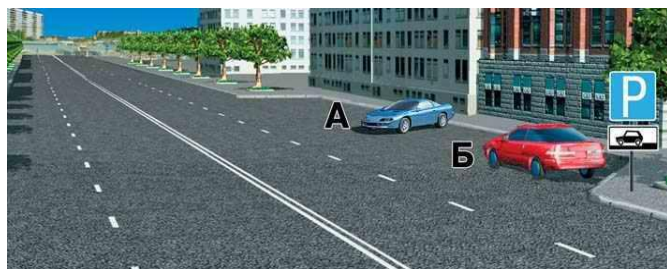
(m.51pV-4)



III. Siz yük avtomobilini ötə bilərsinizmi?

1. Hə.
2. Yox.
3. Kiçik sürətlə hərəkət edərsə ötmək olar.

(m.64)



IV. Hansı avtomobil durma qaydasını pozmuşdur?

1. Ancaq A.
2. Ancaq B.
3. Hər ikisi.
4. Heç biri.

(m68pI)



V. Siz sola dönmək üçün:

1. Tramvayı buraxaraq qarşıdan sola dönmək üçün avtomobilin yollarımızın kəsişmədiyinə əmin olduqdan sonra dönməliyəm.
2. Yol ayrıcını birinci keçməliyəm.

(m.76pIII)

VI. Hər iki tərəfdə arxanı göstərən xarici güzgü olduqda, hansı NV-nin pəncərələrindən pərdə asmağa icazə verilir?

1. Ancaq avtobusların.
2. Ancaq minik avtomobillərin.
3. Hər ikisinin.

(1 sayılı əlavə, m.VII-qeyd)



VII. Aşağıda göstərilənlərdən hansı bu nişan tətbiq olunan yolla hərəkəti davam etdirə bilər?

1. Faktiki kütləsi 10 ton olan iki oxlu yük avtomobili.
2. Faktiki kütləsi 12 ton olan üç oxlu yük avtomobili.
3. Faktiki kütləsi 9 ton olan iki oxlu yük avtomobili.

IX. Sürücü təcili, tibbi yardım göstərmək üçün gedən səhiyyə işçilərini hansı səmtə aparmağa borcludur?

1. Getdiyi səmtə.
2. İstənilən səmtə.

(m.37pIII)



VIII. Belə vəziyyətdə siz nə etməlisiniz?

1. Dayanıb şlaqbaumun açılmasını gözləməliyəm.
2. Svetoforun göstərişinə əməl edərək şlaqbaumun açıq tərəfindən keçib getməliyəm.

(m.44pIII)

X. İnsan həyatı üçün ən təhlükəli qanaxma hansıdır?

1. Venoz qanaxma.
2. Kapilyar qanaxma.
3. Arterial qanaxma.



I. Ayrııcı zolağı olan yol hansıdır?

1. Sağdakı.
2. Soldakı.
3. Hər ikisi.

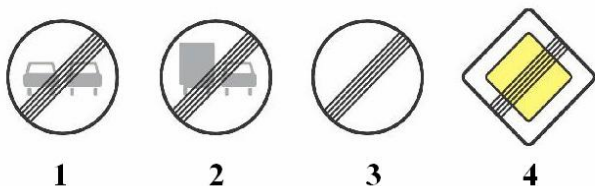
(m.1p14)



II. Maksimal kütləsi 3,5 tondan çox olmayan yük avtomobili hansı istiqamətə gedə bilər?

1. Ancaq düz.
2. Sağa və ya sola.
3. İstənilən istiqamətə.

(m.65pIV)



III. «Bütün məhdudiyyətlər zonasının qurtaracağı» nişanı hansıdır?

1. Üçüncü.
2. Dördüncü.
3. Birinci və ikinci.
4. Hamısı.

(m.64)



IV. Bu nişan göstərir ki:


1. Siz sağa və ya sola dönməlisiz.
2. Kəsişən yolda reversiv hərəkət təşkil olunmuşdur.
3. Kəsişən yolda birtərəfli hərəkət təşkil olunmuşdur.



V. Bu xətlər nəyi qadağan edir?

1. Ötməni.
2. Yandan keçməni.
3. Geri dönməni.
4. Heç birini.

(m.69pVI-5)



VI. Göstərilən svetoforun işarələri hansı nəqliyyat vasitələrinə şamil edilir?

1. Marşrut üzrə işləyən avtobusa.
2. Ancaq tramvaya.
3. Tramvay və xüsusi zolaqda hərəkət edən digər marşrut nəqliyyat vasitələrinə.

(m.59pIX)



VII. Belə vəziyyətdə siz dönmə işarəsini verməlisinizmi?

1. Hə.
2. Yox.
3. Yol ayrıcında digər nəqliyyat vasitələri olduqda verilməlidir.

(m.42pI)

IX. Nəqliyyatdan istifadə etmiş səhiyyə işçisi sürücünün tələbinə əsasən nə etməlidir?

1. Yol vərəqəsində getdiyi yolu qeyd etməlidir.
2. Müəyyən edilmiş nümunədə arayış verilməlidir.
3. Hər ikisini etməlidir.

(m37pIII-qeyd)

VIII. Bu nişan təsir göstərdiyi ərazidə piyadalar harada hərəkət edə bilərlər?

1. Ancaq səkilərdə.
2. Səkilərdə və ya yolun hərəkət hissəsində.

(m.45pI)



X. Hansı nişanlarla işarə olunmuş yollarda maksimal kütləsi 3,5 t-dan çox olan yük avtomobilləri ikinci zolaqdan sonrakılarda hərəkət edə bilməzlər?

1. «Avtomagistral»
2. «Avtomobillər üçün olan yol»
3. Hər ikisində

(m.43pII)



I. Kim yol verməlidir?

1. Minik avtomobilin sürücüsü.
2. Yüklü avtomobilin sürücüsü.

(m.42pV)



1




2

II. Hansı nişan yolun ancaq qoyulduğu tərəfinə təsir göstərir?

1. Birinci.
2. İkinci.
3. Hər ikisi.

(m.64pIX; m.66pIII)



V. Kimə hansı istiqamətə getməyə icazə verilir?

1. Yüklü avtomobil düz, minik avtomobil düz və sağa.
2. Hər iki avtomobil ancaq düz.
3. Hər ikisi istənilən tərəfə dədə bilər.

(m.58-II)



IV. Avtomobillərdən hansı qaydanı pozmuşdur?

1. Yüklü avtomobil.
2. Minik avtomobil.
3. Heç biri.

(m.42pVII)



V. Sizə yüklü avtomobilini ötməyə icazə verilmirmi?

1. Hə.
2. Yox.

(m.51pV-5)



VI. Siz göstərilən yerdə dayanma bilirsinizmi?

1. Hə.
2. Yox.
3. Keçiddə piyada olmadıqda dayanmaq olar.

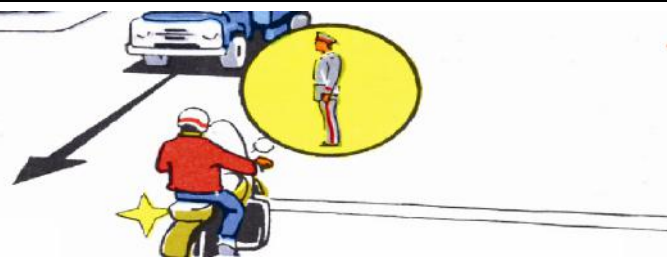
(m.52pIV-4)



VII. Siz sağa dönmək üçün kimə yol verməlisiniz?

1. Piyadalara.
2. Velosipedçiyə.
3. Hər ikisinə.

(m.75pI)



VIII. Motosikl sola necə dönə bilər?

1. Yol ayrıcına girib dayanmalı, nizamlayıcı icazə verdikdən sonra dönməlidir.
2. «Stop» xəttində dayanıb nizamlayıcının işarəsini gözləməlidir.

(m.58pII)

IX. İlin soyuq vaxtında qanaxmanı dayandırmaq üçün qaytan hansı müddətə bağlanıla bilər?

1. Yarım saatdan artıq olmayan müddətə.
2. Bir saatdan artıq olmayan müddətə.
3. Vaxt məhdudlaşdırılmır.

X. Yüklü avtomobilləri hansı halda müvafiq icra hakimiyyəti orqanlarının əməkdaşlarına təqdim edilməlidir?

1. Nasazlıq nəticəsində zədələnmiş nəqliyyat vasitəsinin daşınması üçün.
2. Yol nəqliyyat hadisəsi nəticəsində zədələnmiş nəqliyyat vasitəsinin daşınması üçün.
3. Hər iki halda təqdim edilməlidir.

(m.37pIII-2)



I. Belə vəziyyətdə siz nə etməlisiniz?


1. Nişan qarşısında dayanmadan hərəkəti davam etdirməli.
2. Nişan qarşısında dayanmalı, yaxında qatarın gəlmədiyinə əmin olduqdan sonra hərəkətə başlamalı.
3. Nişan qarşısında dayanmalı, qatar keçən kimi hərəkətə başlamalı. (m.44pIV)



A



B



B

II. Hansı nişanda dayanmadan keçmək qadağandır?

1. Ancaq A və B.
2. Ancaq B.
3. Hər üçündə.



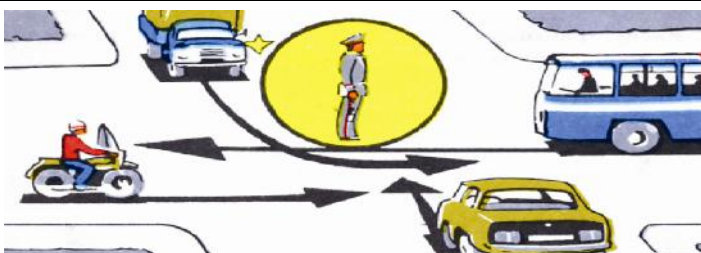
III. Hansı hallarda nişanın təsir zonasında siqnal vermək olar?

1. Ötmə əməliyyatı zamanı.
2. Yol nəqliyyat hadisəsinin qarşısını almaq üçün.
3. Hər iki halda vermək olar. (m.73pI)



IV. Bu nişan nəyi bildirir?

1. Qarlı və yağışlı havada durmaq qadağan olduğunu.
2. İstirahət və bayram günləri durmaq qadağan olduğunu.
3. Durmağa ancaq şənbə, bazar və bayram günləri icazə verildiyini. (m.68)



V. Göstərilən istiqamətlər üzrə hərəkət edə biləcək nəqliyyat vasitələri hansılardır?

1. Motosikl və avtobus.
2. Minik və yük avtomobilləri.
3. Minik avtomobili. (m.58pII)



VI. Siz yandan keçmək üçün dönmə işarəsi verməlisinizmi?

1. Hə.
2. Yox. (m.42pI)



VII. Sol zolaqdan hansı istiqamətə hərəkət edə bilərsiniz?

1. Sola və geri.
2. Ancaq sola.
3. Sağa, sola və geri. (m.65pIII)



VIII. Bu nişanın təsir göstərdiyi ərazidə qadağan olunmur:


1. İşlək mühərriklə durmaq.
2. Maşın sürmə təlimi keçmək.
3. Maksimal kütləsi 3,5t-n artıq olmayan nəqliyyat vasitələrinin durması.
4. Hər üçü qadağan olunur. (m.45pII)

IX. Aşma ehtimalı hansı nəqliyyat vasitəsində daha çoxdur?

1. Yüklüdə.
2. Yarımüklüdə.
3. Yüksüzdə.

X. Döngələrdə hərəkət sürətinin yüksəlməsi mərkəzdənqaçma qüvvəsinə necə təsir göstərir?


1. Təsir göstərmir.
2. Hərəkət sürətinin artımına uyğun artır.
3. Hərəkət sürətinin artımının kvadratı qədər artır.



I. Hansı nişanda yan yoldan gələn nəqliyyat vasitələrinə yol verməlidir?

1. Birincidə.
2. İkinci və üçüncüdə.
3. Heç birində.
4. Hər üçündə.

(m.77pI; III)



II. Bu vəziyyətdə geri hərəkət etməklə sağa dönməyə icazə verilirmi?

1. Verilmir.
2. Marşrut nəqliyyat vasitələrinə maneə törədilmirsə verilir.

(m.42pXII-6)



III. Hansı traektoriya üzrə hərəkəti davam etdirməyə icazə verilir.


1. Ancan A.
2. Ancaq B.
3. Hər ikisi üzrə.

(m.42pVII)

IV. Hansı NV-in sürücüləri yol hərəkəti haqqında qanunun tələblərindən kənara çıxa bilərlər?

1. Xüsusi səs signalı verən sürücülər.
2. Sayrışan işıq signalı qoşulan NV-nin sürücüləri.
3. Hər ikisi.
4. Heç biri.

(M 74 p I)



V. Hansı nəqliyyat vasitələri göstərilən istiqamətlərdə hərəkət edə bilər.

1. Bütün nəqliyyat vasitələri.
2. Motosikl və yük avtomobili.
3. Motosikl

(m.58pII)



VI. Siz sola dönərkən kimə yol verməlisiniz?

1. Yük avtomobilinə.
2. Minik avtomobilinə.
3. Hər ikisinə.

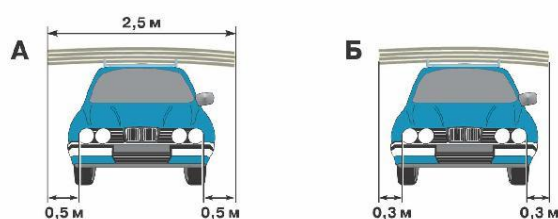
(m.77pIII; IV)



VII. Düz getmək üçün siz kimə yol verməlisiniz?

1. Ancaq minik avtomobilinə.
2. Minik avtomobilinə və avtobusa.
3. Bütün nəqliyyat vasitələrinə.

(m.77pI,II)



VIII. Yük daşıma qaydası hansı şəkildə pozulmuşdur?

1. Ancaq B.
2. Ancaq A.
3. Heç birində.

(m.57pV)

IX. Kəskin tormozlamada avtomobilin hansı təkərləri blokirovkalanmaya daha meyillidir?

1. Qabaq.
2. Arxa.
3. Hər ikisi eyni dərəcədə meyillidir.

X. Hansı qayda pozuntusu 4 balla qiymətləndirilir?

1. Yolda müəyyən edilmiş hərəkət sürətinin 60 km/saat həddindən artıq aşılmasına görə.
2. Dəmiryol keçidlərinin keçilmə qaydalarının pozulmasına görə.
3. Hər ikisinə görə.

(Inzibati xətlər 151.3)

I. Yedəyə alınan avtomobilin çəkisi yedəyə alan avtomobilin çəkisinin yarısından çox olduqda onu yedəyə almaq olarmı?

1. Olar.
2. Olmaz.
3. Ancaq 20 km/s sürəti ilə hərəkət etdikdə olar.

(m.55pV-5)



II. Bu nişanın təsir zonasında hansı nəqliyyat vasitələrinin dayanmasına icazə verilir?

1. I və II qrup əlillərin idarə etdiyi və ya onları daşıyan avtomobillərə.
2. Ancaq sağacı işləyən taksilərdə
3. Hər ikisinə.
4. Heç birinə.

(m.65pV-2)

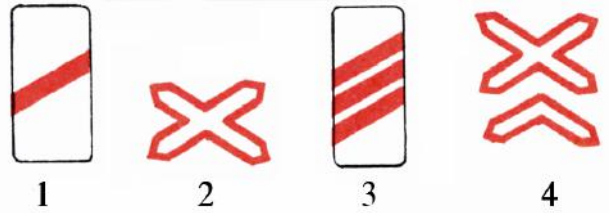


III. Hansı nəqliyyat vasitələri orta sıradan ötmək üçün istifadə edə bilərlər?

1. Minik və maksimal kütləsi 3,5 tondan çox olmayan yük avtomobilləri.
2. Ancaq minik avtomobilləri.
3. Bütün nəqliyyat vasitələri.

IV. Hansı nişan qarşıda nizamlanmayan çoxxətli dəmir yol keçidinin olduğunu göstərir?

1. Birinci.
2. İkinci.
3. Üçüncü və dördüncü.
4. Dördüncü.



V. İkinci zolaqda hərəkət edən motosikletçinin bu işarəsi nəyi göstərir?

1. Dayanmanı.
2. Sağa dönməni.
3. Düz getmək istədiyini.

(m.42pII)



VI. Siz sağ zolağa keçmək üçün:

1. Sağ zolaqda hərəkət edən bütün nəqliyyat vasitələrinə yol verməlisiniz.
2. Yol vermədən sağ zolağa keçə bilərsiniz.

(m.42pV)



VII. Geri dönməni hansı traektoriya üzrə yerinə yetirməlisiniz?

1. Ancaq A.
2. Ancaq B.
3. Hər ikisi üzrə.



VIII. Yüklə birlikdə ağırlığı 9 ton olan iki oxlu nəqliyyat vasitəsi bu nişanların hansında hərəkətini davam etdirməyə icazə verilir?

1. Birincidə.
2. İkincidə.
3. Hər ikisində.
4. Heç birində.

IX. Venoz qanaxmanı necə dayandırmaq lazımdır?

1. Yaranın üstünə sıxıcı sarğı bağlamaqla
2. Yaradan yuxarı hissədə qaytan bağlamaqla
3. Yaradan aşağı hissədə qaytan bağlamaqla.

X. DYP-i əməkdaşları və digər səlahətli şəxslər hal şahidləri olmadan nəqliyyat vasitəsinə baxış keçirə bilərlərmi?

1. Keçirə bilərlər.
2. Keçirə bilməzlər.



I. Nişanda göstərilən məsafə nəyi bildirir?

1. Avtomagistrala 300 metrin qaldığını.
2. Avtomagistraldan çıxmağa 300 metr qaldığını.

(m.66pVI)



II. Yaşayış məntəqələrində yük avtomobilini keçdikdən sonra hansı zolaqda hərəkəti davam etdirə bilərsiniz?

1. Ancaq sağ zolaqda.
2. İstənilən zolaqda.

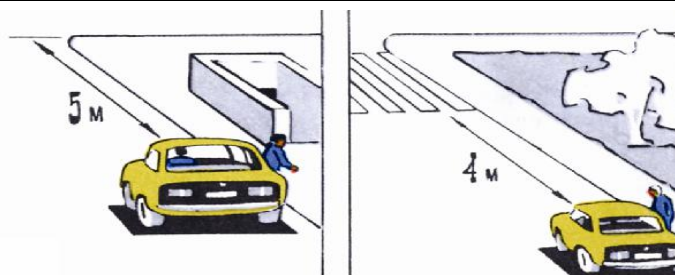
(m.49pI)



III. Hansı nəqliyyat vasitəsi göstərilən yerdə dayanıb?

1. Heç biri.
2. Hər ikisi.
3. Ancaq motosiklet.

(m.52pIV-3)



IV. Sərinin düşürmək üçün avtomobil hansı şəkildə düzgün dayandı?

1. Sağda.
2. Solda.
3. Hər ikisində.
4. Heç birində

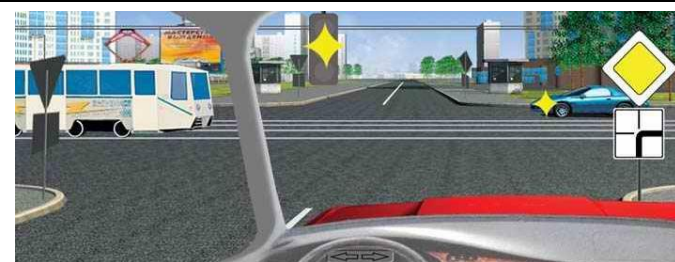
(m.52pIV-4)



V. Geri dönmək üçün siz sağa dönmə avtomobilə yol verməlisinizmi?

1. Yox.
2. Hə.

(m.77pIV)



VI. Yayıb-sönən sarı işıqda düz gedərkən kimə yol verməlisiniz?

1. Ancaq avtomobilə.
2. Ancaq tramvaya.
3. Hər ikisinə yol verməliyəm.

(m.75pIV)



VII. Siz ən yaxın relsdən ən azı nə qədər aralı dayanmalısınız?

1. 10 m.
2. 15 m.
3. 20 m.
4. 5m.

(m.44pIV)

VIII. Hansı nasazlıqda hərəkət qadağan olunur hətta təmir məntəqəsinə qədər?

1. İşçi tormozu fəaliyyət göstərmir.
2. Mühərrikdən çıxan zəhərli qazların miqdarı normadan artıqdır.
3. Hər ikisində

(1 saylı ədəvə m.1)

IX. Eyni səmtə gedən nəqliyyat vasitələri yerdəşməni eyni zamanda edərlərsə hansı sürücü yol verməlidir?

1. Sol tərəfə hərəkət edən sürücü.
2. Sağ tərəfə hərəkət edən sürücü.

(m.42pV)

X. Qaydalara görə 2 və daha çox qoşqusu olan avtoqatarın maksimal uzunluğu nə qədər olmalıdır?

1. 20m.
2. 24 m.
3. 26 m.

(m.55pVI)



I. Sizə sərnəşin mindirmək üçün dayanmağa icazə verilmirmi?

1. Verilir.
2. Verilmir.
3. Verilir ancaq ayın cüt günləri.



II. Hansı sürücü sağa dönməni düzgün yerinə yetirir?

1. Minik avtomobilinin sürücüsü.
2. Motosikletçi.

(m.42pIX)




III. Bu xətlər nəyi bildirir.

1. Piyada keçidinin yerini.
2. Yolun hərəkət hissəsinin velosiped yolu ilə kəsişməsini.
3. Velosipedçinin keçid üstünlüyünə malik olduğunu.

IV. Nizamlanmayan yolayrıcında sola dönmə işarəsi verən NV-ni sağ tərəfdən ötməyə icazə verilmirmi?

1. Hə.
2. Yox.

(m.51pV-1)



V. Şəkilə göstərilən tramvay xətti üzrə hərəkət etməyə icazə verilmirmi?

1. Verilir.
2. Verilmir.

(m.49pIV)



VI. Bu halda geri hərəkətlə sərnəşinə yaxınlaşmaq olarmı?

1. Hə.
2. Yox.

(m.42pXII, XIV)



VII. Bu vəziyyətdə maksimal kütləsi 3,5 tondan çox olan yük avtomobili üçün zolağa çıxma bilərmirmi?

1. Hə.
2. Yox.
3. Ötmək üçün çıxma bilər.
4. Sola və ya geri dönmək üçün çıxma bilər.

(m.49pV)



1

2

VIII. «Qəza dayanma yeri nişanı» hansıdır?

1. Birinci.
2. İkinci.
3. Hər ikisi.

(m.66)

IX. Qırmızı və ya göy sayırışan işıq və səs signalı verən nəqliyyat vasitələri yaxınlaşdıqda Siz nə etməlisiniz.

1. Sağ zolağa çəkilib sürəti azaltmalı.
2. Yolun hərəkət hissəsini boşaltmalı və ya yol qırağına mümkün qədər yaxın hərəkət etməli zərurət olduqda dayanmalıyam.

(m.74pIII)

X. Hansı hallarda svetoforun yaşıl işığının yanmasına baxmayaraq yol ayrıcına girmək qadağan olunur?

1. Yol ayrıcında hərəkət nizamlayıcı ilə nizamlandıqda.
2. Gedilən istiqamətdə tıxac yarandıqda.
3. Hər iki halda qadağandır.

(m.60pV, m.75pII)



1

2

3

I. Nahamar yol nişanı hansıdır?

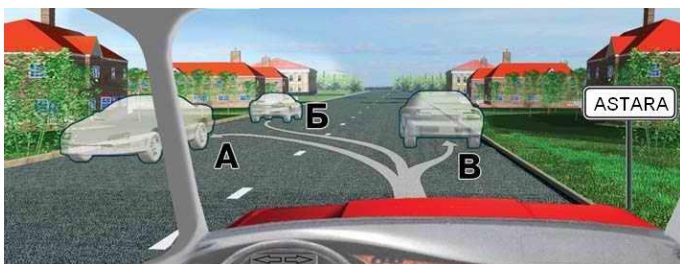
1. Birinci.
2. İkinci.
3. Üçüncü.
4. Hər üçü.



II. Tam kütləsi 3,5 tondan çox olmayan yük avtomobili ilə traktoru ötə bilərsinizmi?

1. Hə.
2. Yox.

(m.64)



III. Göstərilən yerlərin hansında dayana bilərsiniz?

1. Ancaq B.
2. Ancaq A.
3. A və B.
4. Hər üçündə.

(m.52pI)

IV. Yoxuşun axırında ötməyə icazə verilirmi?

1. Verilmir.
2. Ancaq qarşı hərəkət zolağına çıxdıqda verilmir.

(m.51pV-5)



V. Düz getmək üçün yük avtomobilinə yol verməlisinizmi?

1. Hə.
2. Yox.

(m.77pIII)




VI. Sola dönmək üçün siz kimə yol verməlisiniz?

1. Ancaq minik avtomobilinə.
2. Ancaq yük avtomobilinə.
3. Hər ikisinə.

(m.77pII)

VII. Maşın sürmənin hansı stilində yanacaq daha az işləmir?

1. Sürəti tez-tez kəskin artırıb aramla azaltmaq.
2. Sürəti aramla artırıb kəskin azaltmaq.
3. Sürəti aramla artırıb aramla azaltmaq.



1



2

VIII. Hansı nişanda yan yoldan gələn nəqliyyat vasitəsi keçid üstünlüyünə malik deyildir?

1. Birincidə.
2. İkincidə.
3. Heç birində.

(m.77pI)

IX. Hansı qayda pozuntusu balla qiymətləndirilir?

1. Yedəyəalma və yük daşıma qaydalarının pozulması.
2. Nəqliyyat vasitəsinin yolların hərəkət hissələrində yerləşdirilməsi.
3. Heç biri.
4. Hər ikisi.

(inzibati xətlər, m.151.1)

X. Pnevmatik tormoz sisteminin işlək vəziyyətində 15 dəqiqə ərzində təzyiq 0,5 kq/sm² aşağı düşürsə avtomobili istismar etmək olarmı?

1. Olar.
2. Olmaz.
3. Xüsusi ehtiyatla olar.

(1 sayılı əlavə m.1p3)



I. Hərəkət hissəsinin sağ tərəfindən geriyyə dönməyə icazə verilirmi?

1. Nizamlanmayan yol ayrıcında verilir.
2. Nizamlanan yol ayrıcında verilir.
3. Yol ayrıcından kənarında, hərəkət hissəsinin eni sol kənar vəziyyətdən dönməyə imkan vermədikdə icazə verilir.
4. İcazə verilmir.

(m.42pVIII)



II. Yüklü avtomobili göstərilən üsulla dura bilərmi?

1. Hə.
2. Yox.
3. Dura bilər, əgər tam kütləsi 3,5 tondan azdırsa.

(m.52pII)

III. Yoxuşda əl tormozunu hansı anda buraxmağa başlamalıyıq?

1. Hərəkətə başlayana qədər.
2. Hərəkətə başladıqdan sonra.
3. Hərəkətə başlayan anda.



IV. Siz hansı yerdə dayanmalıyıq?

1. Stop xətti qarşısında.
2. Svetoforun qarşısında.
3. İstənilən yerdə.

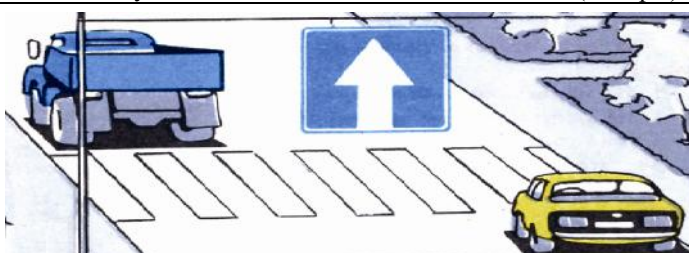
(m.60pII)



V. Dönmə qaydasını kim pozmuşdur?

1. Motosiklet sürücüsü.
2. Avtomobilin sürücüsü.
3. Hər ikisi.
4. Heç biri.


(m.42pVI, VII)



VI. Hansı avtomobil düzgün dayanıb?

1. Minik.
2. Yüklü.
3. Hər ikisi.
4. Heç biri.


(m.52pIV-4)



VII. Bu vəziyyətdə sizə ötməyə icazə verilmirmi?

1. Hə.
2. Yox.
3. At arabasının sürəti 30 km/s –dan aşağıdırsa verilir.

(m.51pI-2)



VIII. Bu nişanlar qoyulan yolda minik avtomobilinin hərəkət sürəti olmalıdır:

1. 70 km/s.
2. 90 km/s.
3. 110 km/s.

(m.66pVI, m.50pII)


IX. Hansı halda yük «iriqabaritli yük» tanınma nişanı ilə işarələnməlidir?

1. Arxa və ya qabaq tərəfdən qabarit işığın xarici kənarlarından bir metrədən çox kənara çıxdıqda.
2. Qabarit işıqların yan tərəfindən 0,4 metrədən çox kənara çıxdıqda.
3. Hər iki halda işarələnməlidir.

(m.57pV)

X. Huşitirmə zamanı zərərçəkənə ilk tibbi yardımın göstərilməsi nədən ibarətdir?

1. Zərərçəkəni uzadıb ayaqlarını bir qədər qaldırmaqdan.
2. Zərərçəkəni uzadıb başını qaldırmaqdan.
3. Zərərçəkəni otuzdurmaqdan.



1

2

I. Bu nişanlar haralarda qoyulur?

1. Avtomagistralda.
2. Tunellərdə.
3. İstənilən yolda.

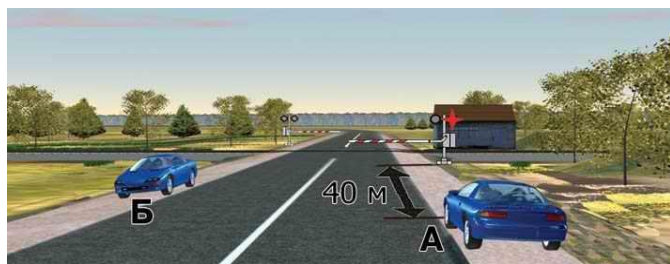
(m.66pV)



II. Belə manevr etməyə icazə verilirmi?

1. Hə.
2. Yox.

(m.51pV-1)



III. Hansı avtomobil düzgün dayanıb?

1. Ancaq A.
2. Ancaq B.
3. Hər ikisi.
4. Heç biri.

(m.52pIV-2)



IV. Siz sola dönərkən hansı sfetoforun işarəsinə əməl etməlisiniz?

1. Girişdəkinin.
2. Çıxışdakının.
3. Hər ikisinin.

(m.76pIV)



V. Siz sola dönərkən tramvaya yol verməlisinizmi?

1. Hə.
2. Yox.

(m.77pIII)



VI. Siz düz gedərkən örtüksüz yoldan çıxan yük avtomobilinə yol verməlisinizmi?

1. Hə.
2. Yox.

(m.1p9)



VII. Yük avtomobili ilə belə manevr etməyə icazə verilirmi?

1. Verilir.
2. Verilir, əgər yük avtomobilinin maksimal kütləsi 3,5 tondan çox deyildirsə.
3. Maksimal kütlədən asılı olmayaraq bütün nəqliyyat vasitələrinə icazə verilir.

(m.43pII-2)

VIII. Yoxuşda qarşı hərəkət zolağına çıxmaqla ötməyə icazə verilirmi?

1. Verilir.
2. Verilmir.
3. Ancaq yoxuşun axırında verilmir.

(m.51pV-5)

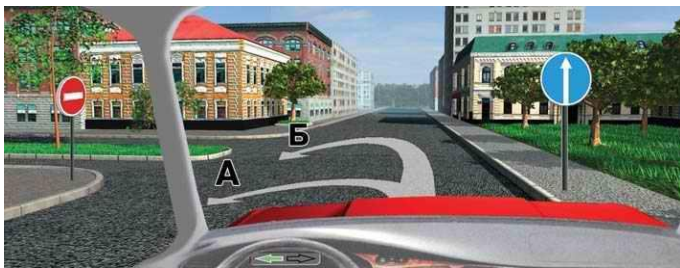
IX. Şinlərin protektorundakı naxışların qalmış hündürlüyü 1,4 mm-dən çox deyildirsə hansı avtomobillərin istismarına icazə verilmir?

1. Minik avtomobillərin.
2. Avtobusların.
3. Heç birinin.

(1 saylı əlavə pV)

X. DYP-i və digər səlahiyyətli şəxslər sahibi olmadan nəqliyyat vasitəsinə baxış keçirə bilərmir?

1. Təxirə salınmayan hallarda keçirə bilərlər.
2. Keçirmək olmaz.



I. Geri dönməni hansı traektoriya üzrə yerinə yetirməlisiniz?

1. Ancaq A.
2. Ancaq B.
3. Hər ikisi üzrə.
4. Heç birində olmaz.

(m.65pV)

II. Göstərilən nasazlıqların hansında nəqliyyat vasitəsinə istismar etməyə icazə verilir?

1. Səs siqnalı işləmir.
2. Amartizatorlar işləmir.
3. Arxanı göstərən güzgü yoxdur.

(1 saylı əlavə, pVII)



III. Hansı nişanda piyadalara hərəkət hissəsinin istənilən yerində hərəkət etməyə icazə verilir?

1. Ancaq B.
2. A və B.
3. B və B.

(m45pI)



IV. Bu yazılar nəyi bildirir?

1. Yolun və ya marşrutun nömrəsini.
2. Yaxınlıqda olan yaşayış məntəqə-sinə qədər məsafəni.
3. Birinci yol ayrıcına qədər olan məsafəni.

(m.69p22)



V. Nizamlayıcının bu vəziyyətində sağ zolaqdan hansı istiqamətə hərəkət etməyə icazə verilir?

1. Düz və sağa.
2. Ancaq düz.
3. Ancaq sağa.



VI. Siz səkinin yanından hərəkətə başlayarkən geri dönmə avtomobilə yol verməlisinizmi?

1. Hə.
2. Yox.

(m.42pI)



VII. Geri hərəkətlə tuneldə dayanan adama yaxınlaşmaq olarmı?

1. Hə.
2. Yox.
3. Olar, əgər digər nəqliyyatlara maneçilik törədilmirsə.

(m.42pXII, XIV)



1



2

VIII. Hansı nişanın təsir göstərdiyi yolda şəhərlər arası işləyən avtobusun hərəkəti 90km/saat-dan çox ola bilməz?

1. Birincidə.
2. İkincidə.
3. Heç birində.

(m.50pII-3)

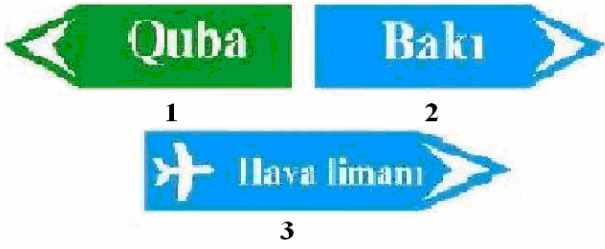
IX. Döngələrdə minik avtomobilinin hansı vəziyyətində aşma ehtimalı azdır?

1. Sərnişinsiz damında yük olduqda.
2. Sərnişinlə yüksüz olduqda.
3. Sərnişinsiz və yüksüz olduqda.

X. Yağış və qar yağan zaman şüşə təmizləyən işləmədikdə sürücü nə etməlidir?

1. Hərəkəti dayandırılmalıdır.
2. Ehtiyatla, kiçik sürətlə təmir məntəqəsinə və ya qaraja getməlidir.
3. İş gününü başa vurmağıdır.

(1 saylı əlavə - pIV)



I. Oxlarla göstərilən istiqamətlərin hansında maksimal kütləsi 3,5 tondan artıq olan yük avtomobilinə 90 km/saat-la hərəkət etməyə icazə verilir?

1. Birincidə.
2. Üçüncü və ikincidə.
3. Heç birində.
4. Hər üçündə.

(m.66pII; m.50pII-4)



II. Maksimum kütləsi 3,5t-dan çox olan yük və minik avtomobillərindən hansı dayanma qaydasını pozmuşdur?

1. Yük avtomobili.
2. Heç biri.
3. Minik avtomobili.
4. Hər ikisi.

(m.52pII)



III. Belə durmaqla sürücü qaydanı pozmuşdurmu?

1. Hə.
2. Yox.
3. Əgər başqa nəqliyyat vasitələrin hərəkətinə maneə yaratmırsa dura bilər.

(m.52pI)



IV. Sola dönərkən yük avtomobilinə yol verməlisiniz?

1. Hə.
2. Yox.

(m.76pI)

V. Haralarda ötməyə icazə verilmir?

1. Körpülərin altında.
2. Körpülərin üstündə.
3. Tunellərdə.
4. Heç birində.
5. Hər üçündə icazə verilir.

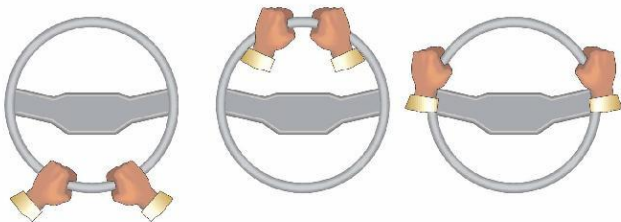
(m.51pV-6)



VI. Bu sürücülərdən hansı hərəkət qaydasını pozub?

1. Velorsipedçi.
2. Motosikletçi.
3. Hər ikisi.
4. Heç biri.

(m.65, 68)



VII. Sutkanın düzgün tutulması hansı şəkildə göstərilib?

1. Sağa.
2. Solda.
3. Ortada.

IX. Hansı hallarda siz dönmə işarəsini verməməlisiniz?

1. Yolda başqa nəqliyyat vasitələri olmadıqda.
2. Sıqnalın verilməsi, hərəkətin başqa iştirakçılarında çəşqinliq yaratdıqda.
3. Hər iki halda sıqnal verməmək olar.

(m.42pI)



VIII. Bu yol neçə hərəkət zolağından ibarətdir?

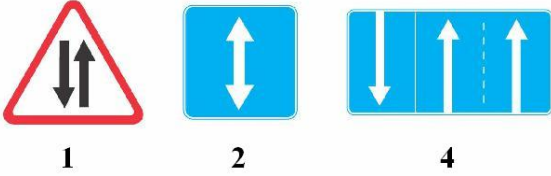
1. Dörd.
2. İki.

(mIp15)

X. İşıq cihazlarından və səs sıqnalından istifadə qaydalarının pozulmasına görə sürücüyə hansı inzibati tənbeh tətbiq olunur?

1. 3 cərimə balı verilir.
2. 4 cərimə balı verilir.
3. cərimə olunur.

(inzibati xətalər 151.1)



I. Hansı nişan yolun iki tərəfli hərəkət hissəsinə yaxınlaşmanı göstərir?

1. Ancaq birincidə.
2. Birinci və üçüncüdə.
3. Hamısı.



II. Sizə bu nişanın təsir zonasında yerləşən iş yerinizə getməyə icazə verilmirmi?

1. Verilmir.
2. Ancaq iş günləri verilir.
3. Bütün günlər verilir.

(m.64pV)



III. Sizə yedəklə hansı zolaqda hərəkət etməyə icazə verilir?

1. Ancaq sağ zolaqla
2. Hər iki zolaqla.

(m.50pII-6)



IV. Dayanmış nəqliyyatla bütöv ox xətti arasındakı məsafə neçə metrədən az olduqda dayanma qaydası pozulur?

1. 2 m.
2. 2,5 m.
3. 3 m.
4. 4 m.

(m.52pIV-3)



V. Sürücü əlini sağa çıxarmaqla sizə hansı xəbərdarlığı edir?


1. Hansısa kömək göstərilməsini istəyir.
2. Döngədə təhlükənin olmasını bildirir.
3. Hərəkətə başlamaq istəyini bildirir.

(m.42pII)

VI. Sürücü yol nəqliyyat hadisəsi zamanı həyat üçün təhlükəli xəsarət alan zərərçəkənləri tibb məntəqəsinə göndərməlidir:

1. Ancaq səmt üzrə gedən NV- ilə.
2. İstənilən səmtə gedən NV- ilə.

(m.37pIV)



VII. Eyni əhəmiyyətli yolların kəsişməsi nişanı hansıdır?

1. Birinci və üçüncü.
2. İkinci.
3. Hər üçü.

IX. Sürücüyə nələr qadağandır?

1. Sükan arxasında telefonu əldə tutmaqla danışmaq
2. Xəstə və yorğun vəziyyətlə nəqliyyatı idarə etmək.
3. Nəqliyyatdan bayıra hər hansı əşya atmaq.
4. Hər üçü qadağandır.



VIII. Yan-yana keçmək çətinlik yaradarsa kim yol verməlidir?

1. Yük avtomobilinin sürücüsü.
2. Minik avtomobilinin sürücüsü.

(m.51pVII)

X. Hansı hallarda yedəyə alma qaydası pozulmuşdur?

1. Ümumi uzunluğu 24 metr olmaqla bir nəqliyyat vasitəsinə yedəyə alındıqda.
2. Ümumi uzunluğu 22 metr olmaqla iki nəqliyyat vasitəsinə yedəyə alındıqda.
3. Hər iki halda qayda pozulmuşdur.
4. Heç bir halda pozulmamışdır.

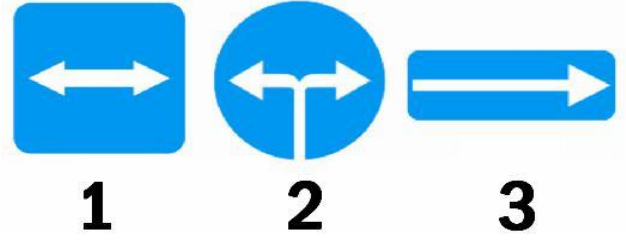
(m.55pVI-2,4)



I. Yol ayrıcından geriyyə dönmək olarmı?

1. Hə.
2. Yox.

(m.42pXII)



1 2 3

II. Hansı nişan «Məcburi hərəkət istiqaməti» nişanlar qrupuna aiddir?

1. Birinci.
2. İkinci.
3. Birinci və üçüncü.



III. Göstərilən yerdə avtomobilə durmağa icazə verilmirmi?


1. Hə.
2. Yox.

(m.52pl)

IV. Elastik birləşdirici ilə yedəyə almada NV-nin çəkili nəzərə alınmalıdır?

1. Hə.
2. Yox.

(M 55 P V-5)



V. Düz getmək üçün siz yük avtomobilinə yol verməlisinizmi?

1. Hə.
2. Yox.

(m.77pIII)



VI. Düz getmək üçün kimə yol verməlisiniz?

1. Ancaq motosiklətə.
2. Bütün nəqliyyat vasitələrinə.
3. Minik avtomobili və motosiklətə.
4. Avtobus və motosiklətə.

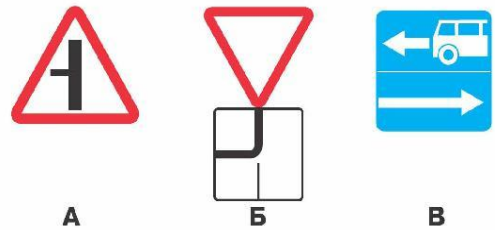
(m.77pII)



VII. Nəqliyyat vasitələri yol ayrıcını hansı ardıcılıqla keçməlidirlər?

1. Tramvay, avtomobil 1,3,4,2.
2. Avtomobil 4 və tramvay, avtomobil 1,3,2.

(m.77pl)



A B B

VIII. Hansı nişanda yol ayrıcına sol tərəfdən yaxınlaşan nəqliyyat vasitəsinə yol verilməlidir?

1. Ancaq A və B.
2. Ancaq B.
3. Ancaq B.
4. Hər üç nişanda.

IX. İlin isti vaxtı qan axmada qaytını hansı müddətə bağlamaq olar?

1. İstənilən vaxta qədər.
2. 1 saata qədər.
3. 2 saata qədər.
4. 3saata qədər.

X. Sürmə təlimi hüququ verən sənədi olmayan şəxsin sürücülük stajı ən azı nə qədər olduqda, sürmə təlimi verə bilər?

1. 2 il
2. 3 il
3. 5 il

(m.78pIII)



I.Sizə qoşqulu minik avtomobili ilə düz istiqamətdə hərəkət etməyə icazə verilirmi?

- 1.Nişanın təsir göstərdiyi zonada yaşayırımsızsa verilir.
- 2.Bütün hallarda verilir.
- 3.Verilmir.

(m.64pV)



II.Sizə hansı istiqamətə hərəkət etməyə icazə verilir?

1. Ancaq Б.
2. A və Б.
3. Б və В.
4. Bütün istiqamətlərə.

III.Hansı hallarda minik avtomobilinin sürəti 50 km/s –dan çox ola bilməz?

- 1.Qoşqu ilə hərəkət etdikdə.
- 2.Yedəklə hərəkət etdikdə.
- 3.Hər iki halda.

(m.50pII-6)



IV.Siz yük avtomobilini ötə bilərsinizmi?

- 1.Hə.
- 2.Yox.

V.Göstərilənlərdən hansı mexaniki nəqliyyat vasitələrinə aid edilmir?

1. Avtomobil.
2. Traktor.
3. Tramvay.
4. Yan qoşqusuz motosikl.

(m.1p18)



VI.Bu nişanda sola həyəətə girməyə icazə verilirmi?


- 1.Hə.
- 2.Yox.



VII.Orta sıradan hansı istiqamətdə hərəkət etməyə icazə verilir?

- 1.Sola və ya geri.
- 2.Ancaq sola.
- 3.Düz və ya sağa.

(m.49pIII)



VIII.Bu nişanlardan hansı dəmir yol keçidinə 50 metrədən yaxın məsafədə qoyula bilməz?

1. Birinci
2. İkinci.
3. Heç biri.

(m.62pVI-3)


IX. Qoşqulu nəqliyyat vasitəsi digər nəqliyyat vasitəsinə yedəyə ala bilərmi?

- 1.Ala bilməz.
2. Ümumi uzunluq 24 metrədən çox olmadıqda ala bilər.
3. Bütün hallarda ala bilər

X. Yumşaq birləşdirici ilə yedəyi olan avtomobilin maksimal sürəti nə qədər olmalıdır?

1. 30 km/saat.
2. 40 km/saat.
3. 50 km/saat.

(m.55pV-6)



1

2

3

I. Qəza dayanacağı nişanı hansıdır?

1. Birinci.
2. İkinci və üçüncü.
3. Hər üçü.



III. Sola dönmək üçün kimə yol verilməlisiniz?

1. Avtobusa.
2. Xüsusi işıq signalı verən yük avtomobilinə.
3. Heç kimə.
4. Hər ikisinə.

(m.74pV)

II. NV-nin eyni oxdaki təkərləri eyni zamanda tormozlanmadıqda təhlükə nədən ibarət ola bilər?

1. NV yana sürüşər və aşar.
2. Şinlər və tormoz qələbləri tez sıradan çıxar.



IV. Düz gedərkən xüsusi səs və işıq signalı verən avtomobilə yol verməlisinizmi?

1. Hə.
2. Yox.

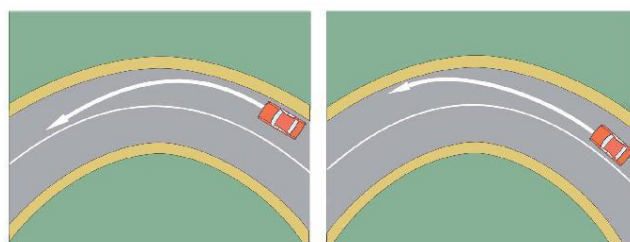
(m.74pII)



V. Geri dönməni kim düzgün yerinə yetirir?

1. Minik avtomobilinin sürücüsü.
2. Yük avtomobilinin sürücüsü.
3. Motosikl sürücüsü.
4. Bütün sürücülər.

(m.42pVI; m.69pVII-1,5)



VI. Sola dönmə hansı şəkildə daha təhlükəsiz yerinə yetirilir?

1. Sağdakı.
2. Soldakı.



VII. Şəkildə göstərilənlərdən hansı ötmə sayılır?

1. Ancaq sağdakı.
2. Ancaq soldakı.
3. Hər ikisi.
4. Heç biri.

(m.1p39)



VIII. Bu nişan göstərir:

1. Yol ayrıcında dönənin istiqamətini.
2. Kəsişən yolda hərəkətin iki sıralı olmasını.

IX. Düz yolda böyük sürətlə hərəkət edən hansı avtomobil daha təhlükəsizdir?

1. Qabaq aparıcı körpülü.
2. Arxa aparıcı körpülü.
3. Hər ikisi eynidir.

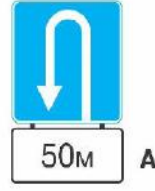
X. Sürüşkən yolda hansı üsulla tormozlama təhlükəsizliyi təmin edir?

1. İlişmə muftasını ayırmadan tormoz pedalını bir dəfə sıxmaq.
2. İlişmə muftasını ayırmadan tormoz pedalını qısa fasilələrlə bir neçə dəfə sıxıb buraxmaq.



I. Maksimal kütləsi 3,5 tondan çox olmayan yük avtomobili ilə hansı sürətlə hərəkəti davam etdirmək olar.

1. 90 km/s.
2. 50 km/s.
3. 70 km/s.



II. Geri dönmə zonasını göstərən nişan hansıdır?

1. Ancaq B.
2. Ancaq A.
3. Hər ikisi.



III. Bu xətlər nəyi göstərir?

1. Taksi və ümumi istifadədə olan nəqliyyat vasitələrinin dayanma yerini.
2. Dayanmanın qadağan olduğu yeri.

(m.69pVI-17)



IV. Xüsusi işıq signalı verən təcili yardım maşınına siz yol verməlisinizmi?

1. Hə.
2. Yox.

(m.74pII)

V. NV-nin yüklü olması onun maksimal kütləsi necə təsir edir?

1. Maksimal kütlə dəyişməz qalır.
2. Maksimal kütlə yükün çəkisi qədər çoxalır.

(M I p 47)



VI. Hansı traektoriya üzrə geri dönmə düzgün yerinə yetirilir?

1. Ancaq A.
2. Ancaq B.
3. Hər birində.



VII. Yaşayış məntəqələrindən kənardə, yük avtomobilini keçdikdən sonra hansı zolaqda hərəkəti davam etdirə bilərsiniz?

1. Ancaq sağ zolaqda.
2. İstənilən zolaqda.

(m.49pI)

IX. Hansı texniki vəziyyətdə nəqliyyat vasitəsinin xətdə işini davam etdirməsi qadağan olunmur?

1. Pedalı bir dəfə sıxdıqda tam tormozlanma alınmadıqda.
2. Fəralar düzgün nizamlanmadıqda.
3. Şinlərdə təzyiq normadan az olduqda.
4. Hər üçündə qadağan olunur.

(1 saylı əlavə pIII)



1



2

VIII. Bu nişanların hansında geri dönməyə icazə verilir?

1. Birincidə.
2. İkincidə.
3. Hər ikisində.

(m.65pIII)


X. Ağızdan-ağıza ağ ciyərin süni tənəffüs endirmək üçün:

1. Zərərçəkənin başını arxaya verilmiş vəziyyətdə çənəsinə qabağa çəkmək.
2. Zərərçəkəni böyrü üstə uzadmaq.
3. Zərərçəkənin başını qabağa öymək.



I. Bu nişanların hansı I və II qrup əllərin idarə etdiyi tanınma nişanına malik nəqliyyat vasitələrinə şamil edilmir?

1. Birinci.
2. Birinci və üçüncü.
3. Hər üçü.



II. Yol ayrıcı hansı ardıcılıqla keçilməlidir?

1. Tramvay 1 və 2, avtomobil 3, avtomobil 1, avtomobil 2.
2. Tramvay 1, avtomobil 1, avtomobil 2, svetoforun signalı dəyişdikdən sonra isə tramvay 2, avtomobil 3.

(m.76pIII)



III. Ensiz yol kənarında belə vəziyyətdə durmağa icazə verilirmi?

1. Verilir.
2. Verilmir.
3. Yol kənarı ensiz olduğu üçün verilir.
4. Avtomobilə nişanlanma xətti arasında məsafə 3m-dən çoxdursa verilir.

(m.52pI)



IV. Siz sağa dönərkən kimə yol verməlisiniz?

1. Tramvay A.
2. Tramvay B.
3. Hər iki tramvaya.
4. Heç kimə.

(m.58pII)



V. Siz sola dönərkən kimə yol verməlisiniz?

1. Yol ayrıcına daxil olub motosikletə yol verməliyəm.
2. Hər iki nəqliyyat vasitəsinə yol verməliyəm.
3. Yol ayrıcını birinci keçməliyəm.

(m.77pIV)



VI. Siz düz gedərkən kimə yol verməliyəm?

1. Ancaq yük avtomobilinə.
2. Ancaq minik avtomobilinə.
3. Hər ikisinə.

(m.77pI)



VII. Sürücülərdən hansı qaydamı pozmuşdur?

1. Maksimal kütləsi 3.5 tondan çox olan yük avtomobilinin sürücüsü.
2. Traktorun sürücüsü.
3. Hər ikisi.

(m.43pII)

VIII. Relssiz nəqliyyat vasitələrini sağ tərəfdən ötməyə icazə verilirmi?

1. Ancaq yol ayrıcında icazə verilir.
2. İcazə verilmir.
3. Ötmək olar əgər ötülən nəqliyyat vasitəsinin sürücüsü sola dönmə işarəsi verib sola dönməyə başlayıbsa.

(m.51pII)

IX. Geriyə dönmək qadağan olunan yerlərdən geriyə hərəkətə icazə verilirmi?

1. Verilir.
2. Verilmir.
3. Birtərəfli yol istisna olmaqla verilmir.

(m.42pXIV)

X. Əks istiqamətli nəqliyyat axınlarını ayıran qoşa bütöv xətlər neçə hərəkət zolağı olan yollarda tətbiq olunur?

1. İki.
2. Üç.
3. Dörd və daha çox.

(m.69pVI-3)



I. Yaşayış məntəqələrində sürüşkən yerə nə qədər qalmış bu nişan quraşdırılır?

1. 50-100m.
2. 150-300m.


(m.62pIII)



II. Nişanın təsir zonasında hansı nəqliyyat vasitələrinə dayanmağa icazə verilir?

1. Sayğacı işləyən taksilərə.
2. Marşrut nəqliyyat vasitələrinə
3. Əlil tanınma nişanı olan I və II qrup əlillərin idarə etdiyi nəqliyyat vasitələrinə.
4. Hər üçünə icazə verilir.
5. Heç birinə icazə verilmir.

(m68pl)



III. Bu vəziyyətdə eyni istiqamətli tramvay yolu ilə hərəkət etməyə icazə verilirmi?

1. Tramvayın hərəkətinə maneə törədilmirsə verilir.
2. Verilmir.
3. Verilir.

(m.49pIV)



IV. Reversiv svetofor söndürülsə siz necə hərəkət etməlisiniz?

1. Qarşıdan nəqliyyat gəlmirsə hərəkəti davam etdirməliyəm.
2. Təcili sağ zolağa keçməliyəm.

(m.59pVIII)



V. Sol zolaqdan hansı istiqamətdə hərəkətə icazə verilir?

1. Ancaq sola.
2. Ancaq geri.
3. Sola və geri.



1



2



3

VI. Bu nişanların hansı geri dönməni qadağan edir?

1. Birinci.
2. İkinci.
3. Üçüncü.
4. Hər üçü.



VII. Siz həyəətə girərkən kimə yol verməlisiniz?

1. Andaq piyadalara.
2. Ancaq velosepedçiyə.
3. Hər ikisinə.

(m.75pl)



VIII. Göstərilən yerdən geri dönməyə icazə verilirmi?

1. Verilir.
2. Marşrut nəqliyyat vasitələrinə maneçilik törədilmirsə verilir.
3. Heç bir halda verilmir.

(m.42pXII)

IX. Yolun 100m-dən az görünən hissəsində sürücüyə qadağan olunur:

1. Dayanmaq
2. Durmaq.
3. Geriyə dönmək
4. Hər üçü

(m.42pXII-5, m.52pIV-5)

X. Yaşayış məntəqələrindən kənar yolların hansında xüsusi kiçik avtobusların hərəkət sürəti 90 km/saat-dan çox olmamalıdır?

1. Avtomagistralda.
2. Bütün yollarda.

(m.50pII-3)



1



2



3

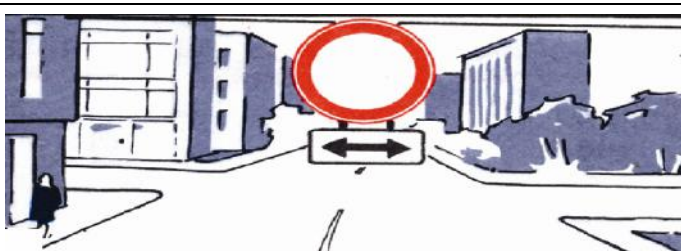
I.«Minimal ara məsafəsi» nişanı hansıdır?

1. Birinci.
2. İkinci.
3. Üçüncü.
4. Birinci və ikinci.



III.Hansı motosikletçi hərəkət zolağında düzgün yerləşib?

1. Sağdakı.
2. Soldakı.
3. Hər ikisi.



V. Hansı istiqamətlərə hərəkət etmək qadağan olunur?

1. Sağa və sola.
2. Düz və geri.
3. Bütün istiqamətlərə.

(m.64; 68)



VII. Sola dönmərkən siz kimə yol verməlisiniz?

1. Ancaq motosikletə.
2. Ancaq avtomobilə
3. Heç birinə.

(m.77pIII)

IX. Məhdud görünmə şəraitində duman əleyhinə faralar necə işə salınmalıdır?

1. Uzaq işıqlarla birlikdə.
2. Yaxın işıqlarla birlikdə.
3. Ayrıca.
4. Hər üç halda istifadə edimlə bilər.

(m.73pV)

II. Dayandırılmış nəqliyyat vasitəsi qanunvericilikdə müəyyən edilmiş qaydada qeydiyyatdan keçirilmədikdə sürücü:

1. Cərimə olunur.
2. Cərimə+3 bal.
3. Cərimə+4 bal.
4. Cərimə+5 bal
5. Nəqliyyat vasitəsini idarə etməkdən kənarlaşdırılır.

(inzibati xətalər m.406.1.4)



IV. Belə vəziyyətdə sizə icazə verilir:

1. Yük avtomobilini sağ tərəfdən ötməyə.
2. Yük avtomobili döndükdən sonra zolağı dəyişmədən hərəkəti davam etdirməyə.
3. Hər iki hala icazə verilir.

(m.51pII)

VI. Hər ikisi yüksüz olan eyni tipli və markalı NV-dən biri digərini yedəyə ala bilərmi?

1. Sərt birləşdirici ilə ala bilər.
2. Elastik birləşdirici ilə ala bilər.
3. Heç bir halda ola bilməz.
4. Hər iki halda ola bilər.

(M 55 p V-5)



VIII. Sola dönmərkən kimə yol verməlisiniz?


1. Ancaq avtobusa.
2. Ancaq minik avtomobilinə.
3. Hər ikisinə.

(m.77pI)

X. Hərəkət istiqamətini dəyişmək üçün tormozlama zolağına keçənə qədər hərəkət sürəti azaldılmalıdırmi?

1. Hə.
2. Yox.

(m.42pXI)



I.Yol ayrıcında göstərilən istiqamətlərdən hansına getməyə icazə verilir?

1. Ancaq B.
2. A və ya B.
3. Hər üçünə.

(m.65pIV)




1

2

3

III. Hansı nişan «məcburi hərəkət istiqaməti» nişanlar qrupuna aiddir?

1. Birinci.
2. İkinci.
3. Üçüncü.
4. İkinci və üçüncü.



V. Belə vəziyyətdə qəza dayanma işarəsi hansı məsafədə qoyulmalıdır?

1. 10 m.
2. 15 m.
3. 20 m.
4. 30 m.

(m.55pII, III)



VII. Görünüş 100 metrədən çox olan halda göstərilən traektoriya üzrə geri dönməyə icazə verilirmi?

1. Hə.
2. Yox.

(m.42pIX)

IX. Sərnişinlərin və bərkidilməyən yüklərin intensiv irəli yerdəyişməsi nə ilə əlaqədar ola bilər?

1. Yalnız sürəti artırmaqla.
2. Yalnız kəskin tormozlamaqla.
3. Sürəti artırmaq və ya kəskin tormozlamaqla.



A



B



B

II. Hansı nişan 60 km/s sürətlə hərəkət etməyi qadağan etmir?

1. Ancaq B.
2. B və B.
3. Heç biri.



IV. Maneəni hansı tərəfdən keçməyə icazə verilir?

1. Ancaq A.
2. Ancaq B.
3. Hər iki tərəfdən.

VI. İntensiv hərəkəti vaxtı NV-nin sürücüsü hərəkət zolağını hansı halda dəyişə bilər?

1. Ötməyə hazırlaşmaq üçün.
2. Hərəkəti düzünə davam etdirmək üçün.
3. Duracağa çıxmaq üçün.
4. Hər üç halda dəyişə bilər.

(M 49 p VI)



1

3

2

4

VIII. Göstərilən xəttlərdən hansı yolun hərəkət zolağını tormozlanma və ya sürətlənmə zolağından ayırır.

1. Birinci.
2. İkinci.
3. Üçüncü.
4. Dördüncü.

(m.69p8)

X. Yan qoşqulu motosikillərdən biri digərini yedəyə ala bilərmi?

1. Bərk birləşdirici ilə ala bilər.
2. Yumşaq birləşdirici ilə ala bilər.
3. Hər ikisi ilə ala bilər.
4. Ala bilməz.

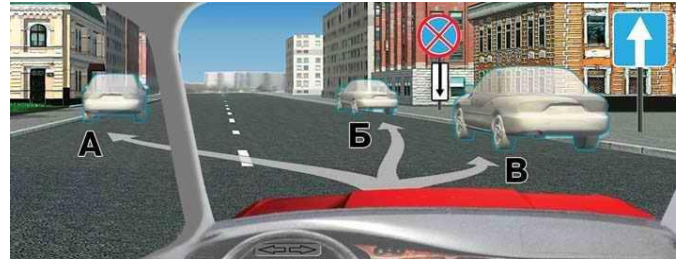
(m.55pVI-3)



I. İkinci dərəcəli yolun birləşməsi yerini keçdikdən sonra maksimal kütləsi 3,5 tondan çox olmayan yük avtomobilinə hansı sürətlə hərəkət etməyə icazə verilir?

1. 60 km/s.
2. 70 km/s.
3. 90 km/s.


(m.50pII)



II. Göstərilən yerlərin hansında dayanmağa icazə verilir?

1. A və B.
2. A və B.
3. Hər üçündə.

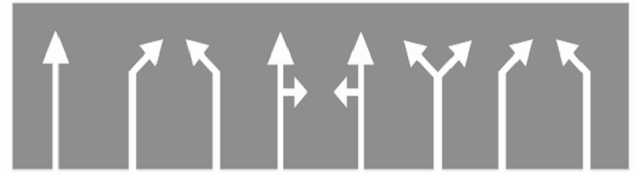
(m.52pII)



III. Avtomobil hansı istiqamətdə gedə bilər?

1. A və D.
2. A, B və D.
3. A, B və C.
4. A və B.

(m.64)



IV. Dalan təsviri çəkilmiş nişanlama xətti nəyi göstərir?

1. Yaxınlıqdakı hərəkət hissəsinə dönməyin qadağan olduğunu.
2. Hərəkət istiqamətini.
3. Qarşıda hərəkət hissəsinin qısalmasını.

(m.69pVI-18)



V. Hərəkətin heç bir iştirakçısına yol vermədən hansı istiqamətə getməlisiniz?

1. Ancaq düz.
2. Düz və sağa.

(m.59pIII)

VI. Hansı NV-ni ötmək olmaz?

1. Ötən NV-ni.
2. Yandan keçən NV-ni.
3. Heç birini.

(m.51pV-4)



VII. Sola dönərkən kimə yol verməlisiniz?

1. Heç kimə.
2. Ancaq xüsusi səs və işıq signalı verən avtomobilə.
3. Hər iki nəqliyyat vasitəsinə.

(m.77pI; m74pI)



VIII. Maneəçilik yaranırsa siz motosikletçi ilə eyni zamanda körpüyə daxil ola bilərsinizmi?

1. Hə.
2. Yox.

(m.63pI)

IX. Hansı nasazlıqda minik avtomobilinin istismarı qadağan olunmur?


1. Şinlərin protektorundakı naxışların qalınlığı 1,8 mm olduqda.
2. Spidometr işləmədikdə.
3. Brizqoviklər olmadıqda.
4. Hər üçündə qadağan olunur.

(1 sayılı əlavə m.5)

X. Yol ayırıcının keçmə qaydasının pozulmasına görə sürücüyə hansı inzibati tənbeh tətbiq olunur?

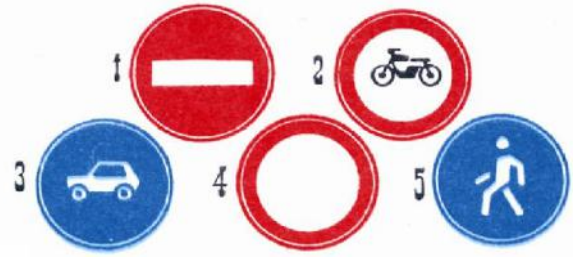
1. Cərimə olunur.
2. Cərimə + 3 bal.
3. Cərimə + 4 bal.

(İnzibati xətlər 151.2)



I. Hansı istiqamətdə hərəkətə icazə verilir?

1. A və ya B.
2. Ancaq B.
3. Г-dən başqa bütün istiqamətlərə.



II. Motosiklet hərəkətini qadağan etməyən nişan hansıdır?

1. Birinci
2. İkinci
3. Üçüncü.
4. Dördüncü
5. Beşinci.

(m.66pV)

III. Dəmir yol qatarının maşinistinə dayan signalı necə verilməlidir?

1. Əlləri yuxarı qaldırmaqla.
2. Əlləri yana uzatmaqla.
3. Hər hansı bir əşya ilə əli dairəvi hərəkət etdirməklə.

(m.44pV-qeyd)



IV. Belə vəziyyətdə qarşıda gedən minik avtomobilinin sürücüsü nə etməlidir?

1. Sağ sətərə keçib dayanmalıdır.
2. Sağ sətərə keçib hərəkəti davam etdirməlidir. (m.74pIII)



V. Qarşıdakı sürücü sizə hansı işarəni verir?

1. Dayanıb motosikletçiyə yol vermək istədiyini.
2. Sola dönmək istədiyini.
3. Sağa dönmək istədiyini.

(m.42pII)



VI. Kim yol verməlidir?

1. Yük avtomobilinin sürücüsü.
2. Minik avtomobilinin sürücüsü.


(m.42pIV)



VII. Sizə hansı traektoriya üzrə geri dönməyə icazə verilir?

1. Ancaq A.
2. Ancaq B.
3. Heç biri üzrə verilmir.

(m.65pV)



VIII. Hansı nişanda sola dönmək qadağan olunur?

1. Birinci.
2. İkinci və dördüncü.
3. Üçüncü.
4. Dördüncü.

IX. Sürücü içkili vəziyyəti yoxlamaqdan imtina etdikdə hansı məsuliyyəti daşıyır?

1. Mülki.
2. Cinayət.
3. İnzibati.

X. Nəqliyyat vasitələrinin istismarı qaydalarının pozulmasına görə sürücü:

1. Cərimə olunur.
2. Cərimə+3 bal.
3. Cərimə+4 bal.

(inzibati xətlər m155)



1



2



3

I. Hansı nişanların təsir qüvvəsi «Bütün məhdudiyyətlərin sonu» nişanına qədərdir?

1. Birincinin.
2. İkinci və üçüncünün.
3. Hər üçünün.

(m.64pVI)



III. Siz sağa dönərkən:

1. Stop xətti qarşısında dayanıb piyadalara yol verib dönməlisiniz.
2. Yol ayrıcına daxil olub piyada keçidi qarşısında dayanıb, piyadalara yol verib dönməlisiniz.

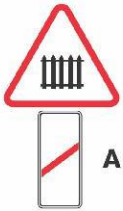
(m.76pV)



V. Siz sola dönərkən kimə yol verməlisiniz?

1. Yük avtomobilinə.
2. Minik avtomobilinə.
3. Hər ikisinə.
4. Heç birinə.

(m.77pIV)



A



B



B

VII. Hansı nişan bilavasitə dəmir yol keçidinin qarşısında qoyulur?

1. A və B.
2. Ancaq A.
3. Ancaq B.
4. Ancaq B.

(m.62pVI-4)

IX. Ürəyi fəaliyyətdən düşmüş və nəfəsi kəsilmiş xəstəyə hansı ardıcılıqla yardım göstərilməlidir?

1. Süni nəfəs vermək, ürəyi xaricdən masaj etmək.
2. Ürəyi xaricdən masaj etmək sonra süni nəfəs vermək.
3. Ardıcılıqla əməl etməyin fərqi yoxdur.

II. Yaşayış məntəqələrində yolların hərəkət hissəsində durmağa icazə verilirmi?

1. Verilir.
2. Verilmir.

(M 52 p VI)



IV. Düz gedərkən tramvaya yol verməlisinizmi.

1. Hə.
2. Yox.

(m.77pIII)



VI. Kim yol verməlidir?

1. Motosikl sürücüsü.
2. Avtomobilo sürücüsü.
3. Hər ikisi eyni zamanda keçmək hüququna malikdir.

(m.76pI)



VIII. Göstərilən yerdən geri dönməyə icazə verilirmi?

1. Hə.
2. Yox.

X. Hansı hallarda tramvay yolu ilə hərəkət etmək qadağandır?

1. Eyni istiqamətdə bir hərəkət zolağı olduqda.
2. Eyni istiqamətdə iki hərəkət zolağı olduqda.
3. Hər iki halda qadağandır.

(m.49pIV)



I. Avtomobilə göstərilən yerdə durmağa icazə verilirmi?

1. Hə. 2. Yox. (m.65pVI)



III. Siz düz getmək üçün yerdəyişməni vaxtında apara bilməyərək sağ zolaqda qalmısınızsa necə hərəkət etməlisiniz?

1. Stop xətti qarşısında dayanıb sətəforun yaşıl işığını gözləməliyəm.
2. Sağa dönməliyəm. (m.42pVI)



V. Hər iki nəqliyyat vasitəsi eyni zamanda yerdəyişmə edirsə hansı sürücü yol verməlidir?

1. Yük avtomobilinin sürücüsü.
2. Minik avtomobilinin sürücüsü. (m.42pV)



VII. Siz yük avtomobilinin hansı tərəfindən keçib gedə bilərsiniz?

1. Ancaq sol.
2. Ancaq sağ.
3. Hər iki tərəfindən. (m.51pII)

IX. Narıncı və ya sarı rəngli işıq siqnalı quraşdırılmış xüsusi nəqliyyat vasitələrinin sürücüləri yolda tikinti, təmir və digər işlər görərkən hansı tələblərdən kənara çıxıb bilərlər?

1. Yol nişanlarının və nişanlanma xətlərinin.
2. Ancaq nişanlanma xətlərinin.
3. Sətəforun.
4. Hər üçünün. (m.74pV)

II. Girişin habelə darvaza qarşısında qadağan olunur?

1. Dayanmaq.
2. Durmaq.
3. Hər ikisi. (M 52 p VI-5)



1



2



3

IV. «Əlillərdən başqa» lövhəciyi hansıdır?

1. Birinci və üçüncü.
2. İkinci.
3. Üçüncü.
4. Hər üçü. (m.68)



VI. Minik avtomobili geri hərəkətlə dayanacaqda dayanan sərnəşinə yaxınlaşa bilərmi?

1. Hə.
2. Yox. (m.42pXII, XIV)



1



2



3

VIII. Hansı nişan 30 km/saat sürətlə hərəkət etməyi qadağan etmir?

1. Birinci və üçüncü.
2. İkinci.
3. Heç biri.

X. Bazu (çiyn) sümüyü sınan zərərçəkənə ilk tibbi yardımın göstərilməsi nədən ibarətdir?

1. Bazunun bayır tərəfindən şin qoymaq və qolu gövdəyə möhkəm bağlamaq.
2. Bazunun bayır və içəri tərəfindən iki ədəd şin qoymaq, qoltuq altına yumşaq valik (bükülü) qoymaq və qolu dirsəkdən büküb dəsmalla boyundan asaraq gövdəyə bağlamaq.



1 2 3

I. Bu nişanların hansı «üstünlük nişanları» qrupuna aiddir?

1. Birinci.
2. İkinci.
3. Üçüncü.
4. Birinci və ikinci.



III. Siz sağa dönərkən geri dönən avtomobilə yol verməlisinizmi?


1. Hə.
2. Yox.

(m.58pII)

II. Yük avtomobilinin bort platformasında uşaqları daşımaq olarmı?

1. Olar.
2. Olmaz.
3. Ancaq qrup halında olmaz.

(M 56 p IX-3)



IV. Avtomobil hansı istiqamətdə hərəkət edə bilər?

1. A.
2. B.
3. C.
4. D.
5. Q.

(m.64)



V. Siz düzünə hərəkət edərkən tramvaya yol verməlisinizmi?

1. Hə.
2. Yox.

(m.77pIII)



VI. Siz bu nişanı gördükdə nə etməlisiniz?

1. Velosipedçiyə yol verməliyəm.
2. Təhlükəsizliyi təmin edərək velosipedçiyə yol vermədən hərəkəti davam etdirməliyəm.

(m.69p15)



VII. Bu yol ayrığı neçə hərəkət hissəsinin kəsişməsindən ibarətdir?

1. Bir.
2. İki.
3. Dörd.

(m.1p7)



VIII. Bu nişan sizi xəbərdar edir:

1. Nizamlanan dəmir yol keçidinə yaxınlaşmanı.
2. Nizamlanmayan dəmir yol keçidinə yaxınlaşmanı.
3. Dəmir yol keçidinin üç xəttli olmasını.

IX. Sürüşmə zamanı qaz pedalını cəld azad etmək, sürüşməyə necə təsir edir?

1. Azaldar.
2. Artırar.

X. Nəqliyyat vasitələrinin yüklə birlikdə və ya yüksüz yol səthindən maksimal hündürlüyü neçə metr olmalıdır?

1. 3,5 metr.
2. 4 metr.
3. 4,5 metr.

(m.57pVI)



I. Hansı nişanda düz getməyə icazə verilir?

1. Ancaq birincidə.
2. İkinci və üçüncüdə.
3. Hər üçündə.



II. Sol zolaqdan hansı istiqamətə hərəkət etməyə icazə verilir?

1. Ancaq sola.
2. Sola və geri.
3. Ancaq geri.

(m.42pVI)



III. Göstərilən yerdə dayanmağa icazə verilmir?

1. Verilir.
2. Verilmir.
3. Marşrut nəqliyyat vasitələrinə manəcəlik törədilmirsə verilir.

(m.69pVI-10)



IV. Yol ayrıcını keçən kimi dayanmaq istəyirsinizsə sağa dönmə işarəsini nə vaxt verməlisiniz?

1. Yol ayrıcına daxil olana qədər.
2. Yol ayrıcını keçəndən sonra.
3. Sağa dönmə qadağan olunduğu üçün işarənin harada verilməsinin əhəmiyyəti yoxdur.

(m.42pI)

V. Hansı nasazlıqda qoşqu ilə hərəkət edən nəqliyyat vasitəsinin hərəkəti qadağan olunur. Hətta dayanacaq yerinə və ya təmir məntəqəsinə qədər?

1. Səs boğucu (qluşitel) nasaz olduqda.
2. Avtoqatar tanınma nişanı olmadıqda.
3. Qoşqunu birləşdirən qurğu nasaz olduqda.
4. Bütün göstərilənlər də qadağandır.

(1 sayılı əlavə pVII-6)



VI. Yoxuşda ötməyə icazə verilmir?

1. Verilir.
2. Verilmir.
3. Ancaq yoxuşun axırında əks istiqamətli hərəkət zolağına çıxdıqda verilmir.

(m.51pV-5)



VII. Bu nişanlardan hansı marşrut nəqliyyat vasitələrinə şamil edir?

1. Birinci.
2. İkinci.
3. Hər ikisi.

IX. Hansı nasazlıqlarda istismar qadağan olunur?

1. İşçi tormoz bütün təkərlərdə səlis tormozlama yaratmadıqda.
2. Qaz paylayıcının valında səs əmələ gəlsə.
3. Şüşə qaldırıcı nasaz olduqda.
4. Bütün göstərilənlərdə.

(1 sayılı əlavə pI)



VIII. Siz ötməyə başlaya bilərsinizmi?

1. Hə.
2. Yox.
3. Başlamaq olar əgər ötmə yol ayrıcına qədər başa çatarsa.

(m.51pV-1)

X. Ətrafların çıxığı zamanı zərərçəkənə ilk tibbi yardımın göstərilməsi nədən ibarətdir?

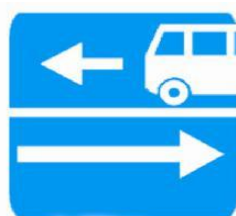
1. Çalışmaq lazımdır ki, çıxığı yerinə salmaq və ətrafı təsbit (fiksə) etmək.
2. Ətrafı zədələmədən sonrakı vəziyyətdə təsbit (fiksə) etmək zədələnen oynağın üzərinə buz və ya soyuq su qoymaq.



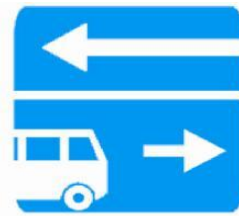
I.Sizə bu yolda yedəklə hansı sürətlə hərəkət etməyə icazə verilir?

1. 90 km/s.
2. 70 km/s.
3. 50 km/s.

(m.50pII-6)




1



2

II.Avtobus bu nişanların hansında düzünə hərəkət edə bilər?

1. Birincidə.
2. İkincidə.
3. Hər ikisində.
4. Heç birində.



III.Göstərilən yerlərin hansında dayana bilərsiniz?

1. Ancaq B.
2. Ancaq A.
3. A və ya B.
4. Heç birində.

(m.52pIV-4)

IV.Hansı nasazlıqda nəqliyyat vasitəsinin istismarı qadağan olunur?

1. Səs boğucu nasaz olduqda.
2. Mühərrik kiçik dövrlərdə pis işlədikdə.
3. Klapanlarda səs olduqda.
4. Göstərilən bütün nasazlıqlarda istismar qadağan olunur.

(1 sayılı əlavə pVI-3)



V.Düz gedərkən tramvaya yol verməlisinizmi?


1. Hə.
2. Yox.

(m.77pIII)



VI.Yük avtomobili sola, siz isə sağa dönməyə eyni zamanda başlaya bilərsinizmi?

1. Hə.
2. Yox.
3. Yük avtomobili dönməyə başladıqdan sonra olar.



VII.Bu nişan sizə nəyi xəbərdar edir?

1. Qarşıda süni işıqlanan tunelin olmasını.
2. Qarşıda süni işıqlanmayan tunelin olmasını.



VIII.Göstərilən yerlərin hansında durmağa icazə verilir?

1. Ancaq A.
2. Ancaq B.
3. Heç birində.

(m.55pI,m.64pVI)

IX. Görünüş pis olan hava şəraitində nəqliyyatın hərəkət sürəti hansı həddə olmalıdır?

1. Görünüş məsafəsindən çox.
2. Görünüş məsafəsindən az.

X. Başqa nəqliyyat vasitələrinə verilmiş dövlət qeydiyyat nişanları ilə nəqliyyat vasitələrini idarə etməyə görə sürücü:

1. Cərimə ödəyir.
2. Cərimə+3 bal.
3. Cərimə+4 bal.
4. Cərimə+5 bal.
5. Nəqliyyat vasitəsinin idarə etməkdən kənarlaşdırılır.

(inzibati xətlər (m.406.1.2))



A



B



B

I. Hansı nişanlar sola dönməyi qadağan etmir?

1. Ancaq B.
2. A və B.
3. Ancaq B və B.



III. Sizə hansı istiqamətə hərəkət etməyə icazə verilir?

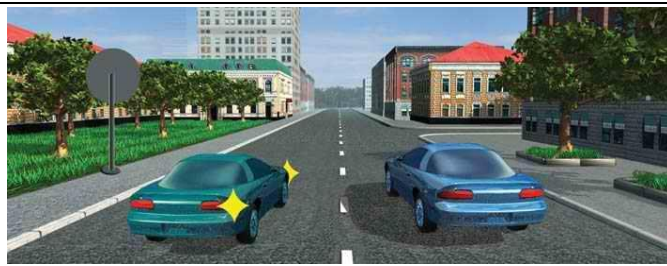
1. Bütün istiqamətlərə.
2. Ancaq düz və geri
3. Düz, sola və geri.

(m.58pII-V)

II. NV-nin dayanması sərnəşinlərin minməsi və ya düşməsi üçün zəruri olan vaxtla məhdudlaşmırsa bu hesab edilir:

1. NV-nin durması.
2. NV-nin dayanması.


(m.1p31)



IV. Kim yol verməlidir?

1. Sağ zolaqda hərəkət edən.
2. Sol zolaqda hərəkət edən.

(m.42pV)



V. Eyni zamanda geri dönməyə başlayan avtomobillərdən hansı yol verməlidir?

1. Minik avtomobilinin sürücüsü.
2. Avtobusun sürücüsü.

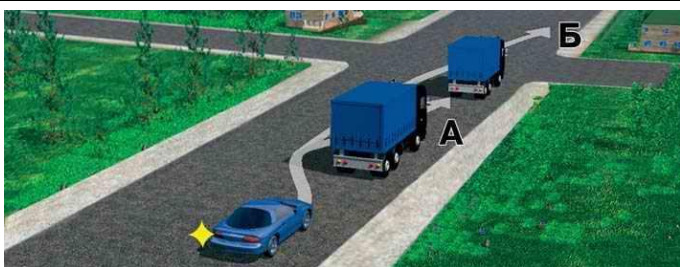
(m.77pIII)



VI. Bu yolda xüsusi kiçik tutumlu avtobusun maksimal sürəti nə qədər olmalıdır?

1. 110 km/s.
2. 90 km/s.
3. 70 km/s.

(m.50pII-3)



VII. Minik avtomobili ötməni hansı traektoriya üzrə yerinə yetirə bilər?

1. Ancaq A.
2. Ancaq B.
3. Hər ikisi üzrə.

(m.51pV-1)



1



2



3

VIII. Təhlükəli döngələr nişanı hansıdır?

1. Birinci.
2. İkinci.
3. Üçüncü.
4. Birinci və ikinci.
5. Hamısı.

IX. Qaranlıq şəraitdə qarşidan gələn nəqliyyat vasitəsinin sürəti necə qəbul olunur?

1. Olduğundan az
2. Olduğundan çox.
3. Olduğu kimi qəbul edilir.

X. Sərnəşin daşıma qaydalarının pozulmasına görə sürücülərin məruz qaldığı tənbeh hansıdır?

1. Cərimə +3 bal.
2. Ancaq cərimə olunur.


(İnzibati xətlər m.151.2)



I. Göstərilən nəqliyyat vasitələrindən hansına düz istiqamətdə hərəkət etməyə icazə verilir?

1. Avtobus və motosiklə.
2. Minik və yük avtomobillərinə.
3. Ancaq minik avtomobilinə.

(m.58pII)



II. Hansı nişanda sürücü yan yoldan gələn nəqliyyat vasitəsinə yol verməlidir?


1. Birincidə.
2. İkincidə.
3. Ancaq üçüncüdə.
4. Hər üçündə.



III. Geri dönmə minik avtomobili sağa dönmə avtobusa yol verməlidirmi?

1. Hə.
2. Yox.

(m.77pIII)



IV. Yol ayrıcında hərəkət ardıcılığı necə olmalıdır?

1. Avtobus, motosiklet, minik avtomobili, velosiped.
2. Motosiklet, minik avtomobili, avtobus, velosiped.
3. Motosiklet və velosiped, avtobus, minik avtomobili.

(m.77pIII)



V. Siz düz gedərkən kimə yol verməlisiniz?

1. Ancaq minik avtomobilinə.
2. Minik avtomobili və motosikletə.
3. Heç kimə.

(m.77pII)



VI. Avtomagistralda məcburi dayanma avtomobilinin sürücüsü qaydanı pozmuşdurmu?

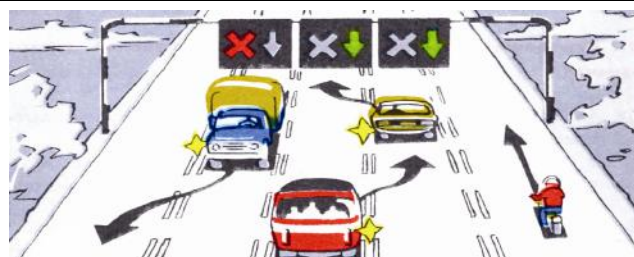
1. Hə.
2. Yox.
3. Qəza dayanma nişanı qoyulmayıbsa pozmuşdur.

(m.55pII)

VII. Minik avtomobilinin istismarını davam etdirmək üçün şinlərdə protektorun qalmış hündürlüyü ən azı nə qədər olmalıdır?

1. 0,8 mm
2. 1,0 mm
3. 1,6 mm
4. 2,0 mm

(1 saylı əlavə pV)



VIII. Hansı sürücü qaydanı pozub?

1. Minik avtomobilinin sürücüsü.
2. Yük avtomobilinin sürücüsü.
3. Avtobus sürücüsü.
4. Heç biri qaydanı pozmayıb.

(m.59pVIII)

IX. Yedəyə alınan hansı nəqliyyat vasitəsinin bort platformasında sərnişin daşımaq qadağan deyildir?

1. Yük avtomobilinin.
2. Avtobusun.
3. Minik avtomobilinin.
4. Hər üçündə qadağandır.

(m.55pV-7)

X. Fonu ağ rəngli olan «yaşayış məntəqəsinin başlanğıcı» nişanından əvvəl qoyulmuş «sürət məhdudlaşdırılır» nişanının qüvvəsi hara qədərdir?

1. Məntəqənin başlanğıcı nişanına qədər.
2. Məntəqənin sonuna qədər.
3. Birinci yol ayrıcına qədər.

(m.64pVII)



I. Hansı nəqliyyat vasitələrinə lövhəcikdə göstərilən üsulla durmağa icazə verilir?

1. Ancaq minik avtomobilləri və motosikllərə.
2. Bütün avtomobillərə.
3. Maksimal kütləsi 3,5 tondan çox olan yük avtomobillərindən başqa bütün avtomobillərə. (m.66,68)



II. Bu ox işarəsində hansı istiqamətdə hərəkət etməyə icazə verilir?

1. Ancaq sola.
2. Ancaq geri.
3. Geri və ya sola. (m.69p18)



III. Nizamlayıcının bu vəziyyətində hansı istiqamətə getmək olar?

1. Heç bir istiqamətə.
2. Ancaq sağa.
3. Düz və sağa. (m.58pII-b)

IV. Döngələrdə hərəkət sürətinin yüksəldilməsi mərkəzdən qaçma qüvvəsinə necə təsir edir.

1. Təsir etmir.
2. Hərəkət sürətinin artımına uyğun artır.
3. Hərəkət sürətinin kvadratı qədər artır.



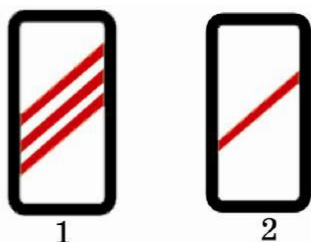
V. Siz sağa hansı zolaqdan dönmə bilərsiniz?

1. Ancaq sağ zolaqdan.
2. Ancaq sol zolaqdan.
3. Hər iki zolaqdan. (m.69p18)



VI. Buradan geri dönməyə icazə verilmirmi?

1. Verilmir.
2. Görünüş 100m-dən çoxdursa verilir. (m.42pXII-5)



1

2

VII. Yaşayış məntəqələrindən kənarında bu nişanların hansında ötməyə başlamaq olar?

1. Birincidə.
2. İkincidə.
3. Heç birində.



VIII. Siz qarşıdan gələn yük avtomobilinə yol verməlisinizmi?

1. Hə.
2. Yox.


(m.51pVII)

IX. Baldır sümüklərin sınıması zamanı şinləri necə qoymaq lazımdır?

1. Ayağın içəri tərəfindən dabanından başlayaraq bud-çanaq oynaqına kimi qoyulur.
2. Ayağın içəri və çöl tərəfindən, daban və diz oynaqlarının bərkidilməsi ilə dabanından başlayaraq budun yarısındanək qoyulur.

X. Döngələrdə avtoqatların qoşqusu yerdəyişməyə meyl edirmi?

1. Mərkəzdən kənara meyl edir.
2. Meyl etmir.
3. Döngənin mərkəzinə tərəf meyl edir.



I. Bu lövhəcik (7.2.1.) hansı nişanların qüvvədə olduğu sahəni göstərir?

1. "Ötmək qadağandır".
2. "Dayanmaq qadağandır".
3. "Sıqnal vermək qadağandır". (m.64pVIII)



III. Göstərilən yerdə dayanmağa icazə verilmir?

1. Verilir.
2. Verilmir.
3. Verilir, əgər dayanan avtomobillə nişanlanma xətti arasındakı məsafə 3m-dən çoxdursa.

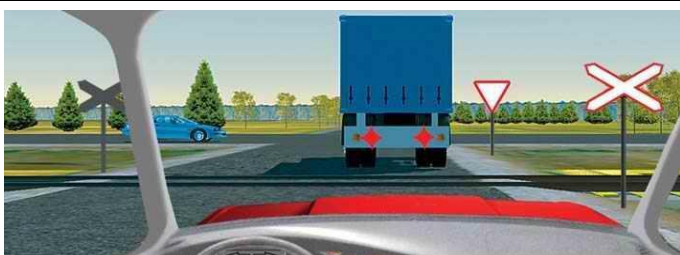
(m.52pIV-3)



V. Düz gedərkən hansı nəqliyyat vasitəsinə yol verməlisiniz?

1. Motosikletə.
2. Yüklü avtomobilinə.
3. Hər ikisinə.
4. Heç birinə.

(m.77pIII)



VII. Bu vəziyyətdə sizə dəmir yol keçidinə daxil olmağa icazə verilmir?

1. Yaxınlaşmaqda olan qatar yoxdursa verilir.
2. Yox.
3. Hə. (m.44pIII-4)

IX. Sürücü kimləri getdiyi istiqamətə aparmalıdır?

1. Yol təmir xidməti işçilərini.
2. Həyatı təhlükə altında olan xəstələrin yanına gedən həkim və tibb işçilərini.
3. Dəmir yol növbətçilərini.
4. Göstərilənlərin hamısını. (m.37pIII)

II. Bərk çovğun, qatı duman olan yolda, hansı işıqlar yolu daha yaxşı işıqlandırma bilər?

1. Fəraların uzun işıqları ilə duman ələhinə fəraların birgə işə salınması.
2. Fəraların yaxın işıqları ilə duman ələhinə fəraların birgə işə salınması.

(m.73pVII)



IV. Sağa dönərkən hansı tramvaya yol verməlisiniz?

1. Ancaq A.
2. Ancaq B.
3. Hər ikisinə.
4. Heç birinə.

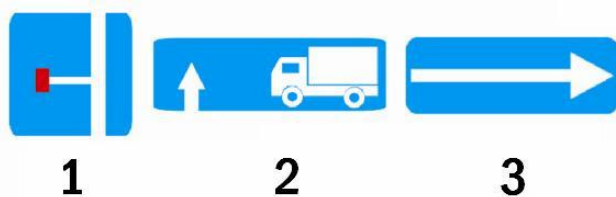
(m.76pIII)



VI. Siz sola dönərkən kimə yol verməlisiniz?

1. Ancaq yüklü avtomobilinə.
2. Ancaq avtobusa.
3. Hər ikisinə.

(m.77pI)



1

2

3

VIII. Bu nişanların hansı sola dönməni qadağan edir?

1. Birinci.
2. İkinci.
3. Üçüncü.
4. Birinci və ikinci.

X. Avtomobilin yük götürmə qabiliyyətindən artıq yüklənməsi nə üçün təhlükəlidir?

1. Tormoz sistemi sıradan çıxar.
2. Aşma ehtimalı var.
3. Tormoz yolu çoxalır.
4. Bütün göstərilənlər ola bilər.



I.Siz sağa dönərkən avtobusa yol verməlisinizmi?

- 1.Hə.
- 2.Yox.

(m.76pII)

II. Yaşayış məntəqələrinin hansı küçələrində NV işıqları söndürülmüş vəziyyətdə duracaqda dayana bilər?

- 1) Gərginliyi az olan küçələrdə.
- 2) Bütün küçələrdə.
- 3) Heç birində dayana bilməz.

(m.73pVII-qeyd)



III.Siz motosikleti ötə bilərsinizmi?

- 1.Hə.
- 2.Yox.

(m.51, 64)



IV.Maksimal kütləsi 3,5 tondan çox olmayan yük avtomobili durma qaydasını pozmuşdurmu?

- 1.Hə.
- 2.Yox.

(m.52pII)



V.Düz getmək üçün siz:

- 1.Svetofor qarşısında dayanıb yan yoldan gələn avtomobilə yol verməlisiniz.
- 2.Yol ayrıcını dayanmadan keçib getməlisiniz.

(m.60pV)



1



2

VI.Bu nişanlardan hansının qüvvəsi birinci yolayrıcına qəddərdir?

1. Birincisinin
2. İkincisinin
3. Hər ikisinin.

(m.64pVI)



VII. Bu nişanda maksimal kütləsi 3,5 tondan artıq olan yük avtomobilinin hərəkətinə icazə verilirmi?

- 1) İcazə verilmir.
- 2) Ancaq həmin sahədə yaşayan vətəndaşlara məxsus olan NV-nin hərəkətinə icazə verilir.
- 3) Bütün hallarda icazə verilir.

(m.65pV)



VIII.Hansı sürücü dayanma qaydasını pozmuşdur?

- 1.Yük avtomobilin sürücüsü.
- 2.Minik avtomobilin sürücüsü.
- 3.Hər ikisi.
- 4.Heç biri.

(m.43pII-3)

IX.Hansı NV-də sutkanın qaralıq vaxtı ancaq qabarit işıqları yandırılmalıdır?

- 1) Qoşqularda.
- 2) Yedəyə alınan NV-də.
- 3) Hər ikisində.

(m.73pIII-2)

X. Xüsusi səs signalı və sayrıyan işıq signalı verən operator NV-nin sürücüləri tabe olmalıdır:

- 1) Svetoforun siqnallarına.
- 2) Nizamlayıcının siqnallarına.
- 3) Hər ikisinə

(M 74 p I)



I. Düz getmək üçün siz:

1. Yol ayrıcını birinci keçməlisiniz.
2. Hər iki nəqliyyat vasitəsinə yol verməlisiniz.
3. Ancaq xüsusi səs və işıq siqnalları qoşulmuş avtomobilə yol verməlisiniz.

(m.48pI,m.76pI)



1



2

II. Bu nişanların hansında həmin ərazidən çıxan NV-nin sürücüləri hərəkətin digər iştirakçlarına yol verməlidir?

- 1) Birincidə.
- 2) İkincidə.
- 3) Hər ikisində.
- 4) Heç birində.

(m.45pIII)



III. Burada geri hərəkətə icazə verilirmi?

1. Verilmir.
2. Verilir, nişana qədər.
3. Verilir piyada keçidinə qədər.

(m.42pXIII)



IV. Siz sola dönmək üçün kimə yol verməlisiniz?

1. Hər iki nəqliyyat vasitəsinə.
2. Ancaq xüsusi işıq signalı quraşdırılmış yük avtomobilinə.
3. Heç kimə.

(m.77pII)



V. Siz qarşidan gələn avtomobilə yol verməlisinizmi?

1. Hə.
2. Yox.

(m.51pVII)



VI. Bu nişan qadağan edir?

- 1) NV-nin hərəkəti.
- 2) Mexanik NV-in hərəkətini .
- 3) Saatda 20 kilometrədən yuxarı hərəkət edən NV-nin hərəkətini.

(m.45p11)

VII. Sürücü kimləri getdiyi səmtin əksinə daşımağa borcludur?

- 1) Təcili tibb yardımına ehtiyacı olan şəxsləri.
- 2) Təcili tibbi yardım göstərmək üçün gedən səhiyyə işçilərini.
- 3) Hər ikisini.

(m.37pI-15, m.37pIII)



VIII. Nizamlayıcının bu vəziyyətində hara gedə bilərsiniz?

1. Ancaq sağa.
2. Düz və sağa.
3. İstənilən istiqamətə.
4. Heç bir istiqamətə.

(m.58pII)

IX. Üç hərəkət zolağı olan ikitərəfli hərəkət yollarında orta zolağdan sağa dönməyə icazə verilirmi?

- 1) Hə.
- 2) Yox.

(M 49 p III)

X. Hansı NV-nin sürücüləri nizamlayıcının siqnallarına tabe olamaya bilər?

- 1) Xüsusi səs və sayrışan işıq signalı verən NV-nin.
- 2) Ancaq xüsusi səs signalı verən NV-nin.
- 3) Hər ikisi tabe olmalıdır.

(M 74 p I)



I. Sizə hansı istiqamətə hərəkət etməyə icazə verilir?

1. Ancaq sağa.
2. Ancaq sola.
3. Sağa, sola, geri.

(m.75pII)



1



2



3

II. Bu nişanların hansı velosiped hərəkətini qadağan etmir?

- 1) Birinci.
- 2) İkinci.
- 3) Üçüncü.

(m.1p18, m.64)



III. Belə vəziyyətdə minik avtomobili ilə hansı zolaqda hərəkətə icazə verilir?

1. İstənilən sırada.
2. Sol kənarından başqa istənilən sırada.
3. Ancaq sağ sırada.

(m.49p1)



IV. Kim yol verməlidir?

1. Minik avtomobilinin sürücüsü.
2. Yüklü avtomobilinin sürücüsü.

(m.42pXI)



V. Belə vəziyyətdə dəmir yol keçidini keçmək olarmı?

1. Olar.
2. Olmaz.
3. Yaxınlaşmaqda olan qatar yoxdursa olar.

(m.44pIII-2)



1



2



3

VI. Bu nişanların hansı dəmiryol keçidi qarşısında quraşdırılır?

- 1) Birinci.
- 2) İkinci.
- 3) Üçüncü.
- 4) Birinci və ikinci.

(m.62pVI-4)

VII. Hansı NV-də odsöndürən olmalıdır?

- 1) Yanqoşqulu motoskiletdə.
- 2) Yanqoşqusuz motoskiletdə.
- 3) Hər ikisində olmalıdır.
- 4) Heç birində olmamalıdır.

(1 sayılı əlavə M VII p 7)



VIII. Siz düz getmək üçün minik avtomobilinə yol verməlisiniz?

1. Hə.
2. Yox.

(m.77pIII)

IX. Hansı NV-də diyirlənməyə qarşı dayaq olmalıdır?

- 1) İcazə verilən maksimal kütləsi 3.5 tondan çox olan yük avtomobillərində.
- 2) İcazə verilən maksimal kütləsi 5 tondan çox olan avtobuslarda.
- 3) Hər ikisində.

(1 sayılı əlavə M VII p 7)

X. Sutkanın işıqlı vaxtı hansı NV-də faraların yaxın işıqları yandırılmalıdır?

- 1) Ağır çəkili yük daşıyan NV-də.
- 2) İri qabaritli yük daşıyan NV-də.
- 3) Uşaq dəstələri daşıyan avtobuslarda.
- 4) Hər üçündə.

(m.73pV)



I. Bu yol ayrıcından sola dönmək üçün sola dönmə işarəsi nə zaman verilməlidir?

1. Yol ayrıcına daxil olana qədər.
2. Birinci kəsişməni keçən kimi.
3. Hər ikisi qaydalara uyğundur.

(m.42p1)



1

2

II. Eyni zamanda keçmək çətin olduqda hansı nişan tərəfdən hərəkət edən NV-nin sürücüsü yol verməlidir?

- 1) Birinci.
- 2) İkinci.

(m.51pVII)



III. Bu nişanda ötməyə icazə verilirmi?

- 1) Verilmir.
- 2) Qarşı hərəkət zolağına çıxmamaq şərti ilə verilir.
- 3) Bütün hallarda verilir.

(M 51 p V-1)



IV. Siz dairəvi hərəkət olan yola daxil olan yük avtomobilinə yol verməlisiniz?

1. Hə.
2. Yox.

(m.42pXV)



V. Siz meydana hansı zolaqdan daxil olmalısınız?

1. Ancaq Sağ zolaqdan.
2. Sağ və ya sol zolaqdan.

(m.42pVI)



VI. Sola dönərkən kimə yol verməlisiniz?

1. Minik avtomobili və avtobusa.
2. Ancaq motosikletə.
3. Ancaq avtobusa.
4. Heç kimə.

(m.77pII)

VII. Yol ayrıcından nə qədər uzaqlaşdıqdan sonra geri dönməyə icazə verilmir?

- 1) 5 m.
- 2) 10 m.
- 3) 30 m.
- 4) Hər üçündə icazə verilir.

(M 42 p XII)



VIII. Yaşıl işıq yanarkən siz:

1. Yük avtomobilinə yol vermədən hərəkətə başlamalıyam.
2. Dönməni başa çatdırmaq üçün yük avtomobilinə yol verməliyəm.

(m.76pV)

IX. Hansı nasazlıqda NV-nin istismarı qadağan olunur?

- 1) Konstruksiyada nəzərdə tutulmuş arxa mühafizə qurğusu olmadıqda.
- 2) Təkərlərin diskində çatlar olduqda.
- 3) Hər ikisində qadağan olunur.

(1 sayılı əlavə, m. Vp3, m. VIIp5)

X. Hansı halda ötmə məsafəsi daha çox olar?

- 1) Ötülən NV-in sürəti 40 km/saat, ötəninki isə 60 km/saat olduqda.
- 2) Ötülən NV-in sürəti 70 km/saat, ötəninki isə 90 km/saat olduqda.
- 3) Hər iki halda məsafə eyni olur.



I. Siz yol ayrıcını düz keçmək üçün tramvaya yol verməlisinizmi?

1. Hə.
2. Yox.

(m.59pIX)



II. Yüklünün ağırlığı 7,5 ton olan avtomobil bu nişanın qüvvədə olduğu sahəyə daxil ola bilərmi?

- 1) Hə.
- 2) Yox.



1

2

III. Bu nişanların hansı müvafiq NV-in hər iki istiqamətdə hərəkətini qadağan edir?

- 1) Birinci.
- 2) İkinci.
- 3) Hər ikisi.

(m.64pIV)



IV. Hansı traektoriya üzrə sola dönməyə icazə verilir?

1. Ancaq A.
2. Ancaq B.
3. Hər ikisi üzrə.

(m.42pVII)



V. Siz düz gedərkən kimə yol verməlisiniz?

1. Tramvaya və avtomobilə.
2. Ancaq tramvaya.
3. Heç birinə.

(m.76pIII)

VI. İntensiv hərəkət vaxtı hərəkət zolağını hansı halda dəyişmək olar?

- 1) Yalnız sola və ya sağa dönmək üçün.
- 2) Dayanacağa və ya duracağa çıxmaq üçün.
- 3) Hər iki halda dəyişmək olar.

(M 49 p VI)



VII. Svetoforun yaşıl işığında göstərilən ox işarələri sizə nəyi bildirir?

1. Sağa hərəkətin əlavə seksiya ilə nizamlanmasını.
2. Sağa hərəkətin qadağan olunmasını.

(m.59pV)



VIII. Göstərilən yolun hansı sahəsində uzun müddətli durmağa icazə verilir?

1. 500m-dən sonra xüsusi ayrılmış meydançada.
2. Yol kənarının istənilən sahəsində.
3. Göstərilən hər iki yerdə.

(m.52pIII)

IX. Yaşayış məntəqələrindən kənarında minik avtomobillərində kimlər təhlükəsizlik kəmərinə istifadə etməlidir?

- 1) Ancaq sürücü.
- 2) Sürücü və qabaq oturaqda əyləşən sənişin.
- 3) Avtomobildə olanların hamısı.

(M 37 p 6)

X. NV-nin sağ təkri yol qırağının yaş yumuşaq torpaq hissəsinə düşdükdə sürücü nə etməlidir?

- 1) NV-ni kəskin tormozlama ilə dayandırmalıdır.
- 2) Asta tormozlama ilə NV-ni sol tərəfə yönəltməlidir.
- 3) Tormoz vermədən NV-ni asta-asta hərəkət hissəsinə yönəltməlidir.



I. Geri dönrəkən kimə yol verməlisiniz?

1. Ancaq minik avtomobilinə.
2. Hər iki nəqliyyat vasitəsinə.

(m.77pI)



1



2

II. Yaşayış məntəqələrindən kənarında bu nişanların hansı təkrar olunur?

- 1) Birinci.
- 2) İkinci.
- 3) Hər ikisi.
- 4) Heç biri.

(M 62 p VI-3)



1



2

III. Tunellərdə quraşdırılan nişan hansıdır?

- 1) Birinci.
- 2) İkinci.
- 3) Hər ikisi.

(M 66 p V)



IV. Minik avtomobili göstərilən yerdə dayana bilərmi?

1. Hə.
2. Yox.

(m.52pIV-3)



V. Minik avtomobili ilə hansı istiqamətə hərəkət edə bilərsiniz?

1. Ancaq düz.
2. Sağa və sola.
3. İstənilən istiqamətə.

(m.65, 68)



VI. Düz gedərkən kimə yol verməlisiniz?

1. Tramvaya.
2. Tramvay və minik avtomobilinə
3. Minik avtomobilinə.
4. Bütün nəqliyyat vasitələrinə.

(m.77pII, III)

VII. Hansı yaşadək olan uşaqlar təhlükəsizlik kəməri bağlamaya bilər?

- 1) 15 yaşadək.
- 2) 17 yaşadək.
- 3) 12 yaşadək.

(m.37p6)



VIII. Şəkildə göstərilədiyi kimi sağa dönməyə icazə verilmirmi?

1. Hə.
2. Yox.

(m.42pXII)

IX. Yolayrıcına 5 m qalmış texniki nasazlığa görə yol kənarında dayanan NV-nin sürücüsü qəza dayanması siqnalını quraşdırmalıdır?

- 1) Hə.
- 2) Yox.
- 3) Qəza dayanması işıq siqnalı nasaz olduqda quraşdırılmalıdır.

(m.52pIV-4)

X. Şinlərdə təzyiqin normadan çox olması yana sürüşməyə necə təsir edir?

- 1) Artırır.
- 2) Azaldar.
- 3) Təsir etməz.



I. Belə manevr etməyə icazə verilirmi?

1. Verilmir.
2. Qarşıdan nəqliyyat gəlmirsə verilir.
3. Şlaqbaumla yük avtomobili arasındakı məsafə 6 metr olarsa verilir.

(m.51pV)



1

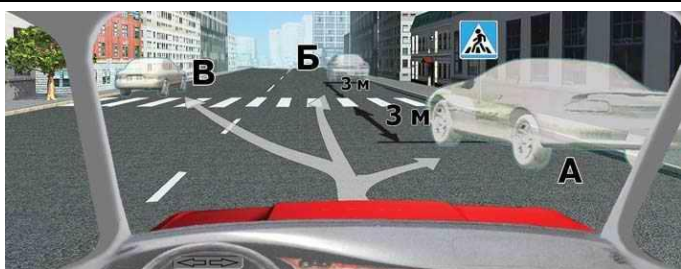


2

II. Bu nişanların hansı "qəza dayanacağı yeri" nişanı ilə birləşdirilir?

- 1) Birinci.
- 2) İkinci.
- 3) Hər ikisi.

(M 66 p IV)



III. Göstərilən yerlərin hansında dayana bilərsiniz?

1. Ancaq A.
2. Ancaq B.
3. Ancaq B və B.
4. Heç birində.

(m.52pIV-4)



IV. Bu vəziyyətdə sola dönrəkən siz hansı svetoforun işarəsinə əməl etməlisiniz?

1. Girişdəkinin.
2. Çıxışdakının.
3. Hər ikisinin.

(m.76pIV)



V. Belə vəziyyətdə siz harada dayanmalısınız?

1. Birinci relsə 5m qalmış.
2. «Bir xəttli dəmir yolu» nişanının qarşısında.
3. «Dayanmadan keçmək qadağandır» nişanının qarşısında.
4. İstənilən yerdə dayanmaq olar.

(m.44pIV)



1



2

VI. Bu nişanların hansında at-araba ilə hərəkəti davam etdirmək olar?

- 1) Birincidə.
- 2) İkincidə.
- 3) Heç birində.

(M 64 p IV)

VII. Yolun hərəkət hissəsində qısa müddətli işlər aparıldıqda "yol işləri" (1.23) nişanı təmir aparıldığı yerə neçə metr qalmış qoyulur?

- 1) 30-40 m.
- 2) 10-15 m.
- 3) 50-100 m.

(M 62 p VI-1)



VIII. Vertikal nişanlanma xətləri:

1. Nəqliyyat vasitələrin durmasını qadağan edir.
2. Nəqliyyat vasitələrin dayanmasını qadağan edir.
3. Yolun təhlükəli sahəsinin kənarını göstərir.

(m.69)

IX. Hansı yerlərdə NV-nin 20 km/saat-dan yuxarı hərəkət etməsinə icazə verilmir?

- 1) Yaşayış məntəqələrində.
- 2) Yaşayış zonalarında.
- 3) Hər ikisində.

(m.45p II)

X. Hansı halda piyada keçidinə beş metrdən yaxın məsafə dayanmağa icazə verilir?

- 1) Ancaq sərnəşin mindirib-düşürmək üçün.
- 2) NV-də baş verən texniki nasazlığı aradan götürmək üçün.
- 3) Heç bir halda icazə verilmir.

(m.52pIV-4)



I. Kalonu müşayət edən DYP maşını sizə yaxınlaşdıqda nə etməlisiniz?

1. Kalona qoşulub onunla birlikdə hərəkət etməliyəm.
2. Sağ zolağa çəkilib hərəkəti davam etdirməliyəm.
3. Səki kənarına çəkilib dayanmalıyam kalon keçdikdən sonra hərəkətə başlamalıyam.

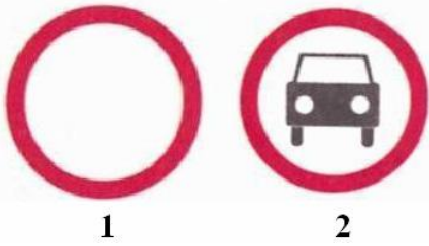
(m.48pII)



II. Siz qarşıdan gələn avtomobilə yol verməlisinizmi?

1. Hə.
2. Yox.

(m.51pVII)



1

2

III. Bu nişanların hansı NV-nin hər iki istiqamətdə hərəkətini qadağan edir?

- 1) Birinci.
- 2) İkinci.
- 3) Hər ikisi.

(m.65pIV)



IV. Düz gedərkən tramvaya yol verilməlidirmi?

1. Hə.
2. Yox.

(m.77pIII)



V. Bu yol ayrıcı neçə hərəkət hissəsinin kəsişməsindən ibarətdir?

1. Bir.
2. İki.

(m.1p7)



1



2



3

VI. Tam kütləsi 3.5 tondan çox olan yük avtomobillərinin hərəkətini qadağan edən nişan hansıdır?

- 1) Birinci.
- 2) İkinci.
- 3) Üçüncü.
- 4) Heç biri.

(m.65pV)

VII. Tormoz sistemi nasaz olan NV-ni hansı üsulla yedəyə almaq olar?

- 1) Sərt birləşdirici ilə.
- 2) Qismən və ya tam yükləməklə.
- 3) Hər ikisi qaydalara uyğundur.

(m.55pV)



VIII. Sizə hansı istiqamətlərdə hərəkət etməyə icazə verilir?

1. Sağa birinci döngəyə.
2. Sağa birinci və ikinci döngəyə
3. Hərəkət etməyə icazə verilmir.

(m.76pII)

IX. Sutkanın işıqlı vaxtı faraların yaxın işıqları yandırılmalıdır:

- 1) Avadanlıqlaşdırılmış yük avtomobillərində sərnəşin daşdığıda.
- 2) Uşaq dəstələri daşıyan avtobus və mikroavtobuslarda.
- 3) Hər ikisində.

(m.73pV-2)

X. NV-nin hansı nasazlığında istismar qadağan olunur?

- 1) İşlənmiş qazlarda zəhərli maddələrin miqdarı müəyyən edilmiş kəmiyyətdən çox olduqda.
- 2) İşlənmiş qazların tüstülənməsi müəyyən edilmiş kəmiyyətdən çox olduqda.
- 3) Hər iki halda qadağan olunur.

(1 sayılı əlavə m.VI)



I. Siz göstərilən yerdə avtomobilinizi duracağa qoya bilərsinizmi?

- 1.Hə.
 - 2.Yox.
 - 3.Marşrut nəqliyyat vasitələrinə maneə törətmirsə qoymaq olar.
- (m.52pIV-7)



1



2

II. Hansı halda bu nişanlar enişin və ya yoxusun bilavasitə başlanğıcında qoyulur?

- 1) Enişlər və yoxuslar bir-birinə yaxın olduqda.
- 2) Heç biri halda qoyula bilməz.

(m.62pVI-2)



III.Siz yük avtomobilinə yol verməlisinizmi?

- 1.Hə.
- 2.Yox.

(m.45pIII)



IV. Bu yol neçə hərəkət zolağından ibarətdir?

- 1.İki.
- 2.Dörd.

(m.1p15)



V.Şəkilə göstərilədiyi kimi geriyyə hərəkət edərək sola dönmək olarmı?

- 1.Hə.
- 2.Yox.

(m.42pXIV)



1



2

VI. Bu nişanların hansı müvafiq NV-in hər iki istiqamətdə hərəkətini qadağan edir?

- 1) Birinci.
- 2) İkinci.
- 3) Hər ikisi.

(m.64pIV)

VII. Hansı yedəyə almada uzunluğu 5 metr olan birləşdirici hissə istifadə oluna bilər?

- 1) Sərt birləşdirici ilə yedəyə almada.
- 2) Elastik birləşdirici ilə yedəyə almada.
- 3) Hər ikisində.

(m.55pV-9)



VIII.Siz sola dönərkən kimə yol verməlisiniz?

- 1.Minik avtomobilinə və avtobusa.
- 2.Ancaq minik avtomobilinə.
- 3.Heç kimə.

(m.77pII)

IX. Yol ayrıcından kənarında sola və ya geri dönərkən relssiz NV-nin sürücü kimə yol verməlidir?

- 1) Qarşıdan gələn NV-nə.
- 2) Eyni istiqamətdə hərəkət edən relssiz NV-nə.
- 3) Hər ikisinə yol verməlidir.

(m.42p IX)

X. Yolayrıcından kənarında geri dönərkən hərəkət hissəsinin sağ kənarından manevr etməyə icazə verilirmi?

- 1) Yolun sol kənarı tərəfdən manevr etmək üçün yolun eni kifayət etmədikdə verilir.
- 2) Verilmir.
- 3) Bütün hallarda icazə verilir.

(m.42pIX)



I. Bu yolda qoşqu ilə hərəkət edən minik avtomobilinin maksimal hərəkət sürəti olmalıdır:

1. 60 km/s.
2. 70 km/s.
3. 90 km/s.

(m.50pII-4)

II. Yüklərin yığılması və ya boşadılması üçün zəruri olan vaxt ərzində NV-nin hərəkətsiz vəziyyətə gətirilməsi necə adlanır?

1. NV-in dayanması.
2. NV-in məcburi dayanması.

(m.Ip29,30)



1

2

III. Bu nişanların hansı həmin sahədə işləyən və ya yaşayan vətəndaşlara xidmət edən NV-nə samil edilmir?

- 1) Birinci.
- 2) İkinci.
- 3) Hər ikisi şamil edilir.

(m.65pV)



IV. Kim yol verməlidir?

1. Tramvay sürücüsü.
2. Soldan yaxınlaşan nəqliyyat vasitəsinin sürücüsü.

(m.76pII)



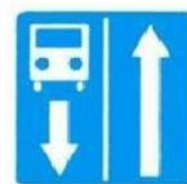
V. Sağa dönmək üçün siz tramvaya yol verməlisiniz?

1. Hə.
2. Yox.

(m.58pII)



1



2

VI. Bu nişanların hansında sola dönməyə icazə verilir?

- 1) Birincidə.
- 2) İkincidə.
- 3) Heç birində.

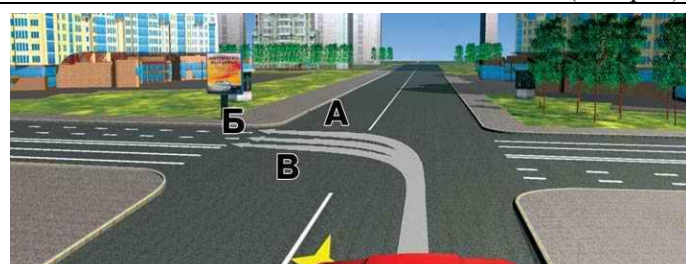
(m.48pIV)



VII. Göstərilən traektoriya üzrə geri dönərkən hansı dönmə işarəsi verilməlidir?

1. Ancaq sol.
2. Ancaq sağ.
3. Səkiyə qədər sağ, səkidən sonra sol.

(m.42pI)



VIII. Hansı traektoriya üzrə sola dönə bilərsiniz?

1. Ancaq B.
2. Ancaq A.
3. Hər üçü üzrə.

(m.42pVII)

IX. Yolun 100 metrədən az görülən hissəsində qadağan olunur:

- 1) Geriyə dönmək.
- 2) Geriyə hərəkət.
- 3) Hər ikisi.
- 4) Heç biri.

(m.42pXII)

X. Yaşayış məntəqələrinin hansı yollarında sağ zolağ boş olduqda sol zolaqla hərəkət etməyə icazə verilmir?

- 1) Avtomaqestralda.
- 2) Avtomobililər üçün olan yollarda.
- 3) Hər ikisində.

(m.49p I)



1

2

I. Bu nişanların tələblərinə əməl etməyəgörə sürücünün əməli necə balla qiymətləndirilir?

- 1) 3 balla.
- 2) 4 balla.
- 3) 5 balla.

(inzibati xətalər 151.2)



II. Bu nişanın təsir zonası hara qədərdir?

- 1) Birinci yol ayrıcına qədər.
- 2) Yaşayış məntəqəsinin sonuna qədər.
- 3) "Minimal sürətin məhdudlaşdırılmasının sonu" nişanına qədər.

(M 65)



1

2

III. "Zolağın başlanğıcı" nişanı hansıdır?

- 1) Birinci.
- 2) İkinci.
- 3) Hər ikisi.



1

2

IV. "Zolağın başlanğıcı" nişanı hansıdır?

- 1) Birinci.
- 2) İkinci.
- 3) Heç biri.
- 4) Hər ikisi.



V. Bu nişanda hansı yük avtomobillərinə sağa və ya sola hərəkət etmək qadağan olunmur?

- 1) Ancaq maksimal kütləsi 3.5 tondan artıq olmayan yük avtomobillərinə.
- 2) Bütün yük avtomobillərinə.
- 3) Bütün yük avtomobillərinə qadağan olunur.



1

2

3

VI. Uşaqları qrup halında daşıyan NV-da hansı nişan qoyulmalıdır?

- 1) Birinci.
- 2) İkinci.
- 3) Üçüncü.
- 4) Fərqi yoxdur hər hansı birini qoymaq olar.

(M 72 p 3)



1

2

VII. Bu nişanlardan hansı NV-in hər iki istiqamətdə hərəkətini qadağan edir?

- 1) Birinci.
- 2) İkinci.
- 3) Hər ikisi.

(M 64 p IV)



VIII. Bu nişanda hansı NV-nin hərəkətinə icazə verilir?

- 1) Maksimal kütləsi 7 ton olan yuksüz NV-nə.
- 2) Maksimal kütləsi 7 ton olan yüklü NV-nə.
- 3) Hər ikisinə.
- 4) Heç birinə.

(M 64)

IX. Yaş örtüklü yolda hərəkət edən NV-nin sürücüsü təhlükəsizliyi necə təmin etməlidir?

- 1) Qarşıda hərəkət edən NV- ilə ara məsafəsi çox saxlamalıdır.
- 2) Kəskin tormozlamadan çəkinməlidir.
- 3) Hərəkət sürətini yüksəltməməlidir.
- 4) Hər üçünə əməl etməlidir.

X. Sürücüyə NV-nin hərəkəti zamanı telefonla danışmağa icazə verilirmi?

- 1) Telefonu əldə saxlamamaqla istifadə etməyə icazə verilir.
- 2) Bütün hallarda icazə verilir.
- 3) Heç bir halda icazə verilmir.

(M 37 p V-2)



I.Sola dönməyə siz kimə yol verilməlisiniz?

- 1.Ancaq avtobusa.
- 2.Ancaq piyadalara.
- 3.Avtobusa və piyadalara.
- 4.Heç birinə.

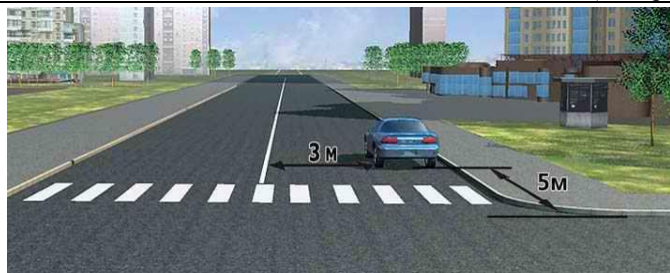
(m.76pl)



II.Siz yol ayrıcından düz getmək üçün:

- 1.Minik avtomobilinə yol verməlisiniz.
- 2.Yol ayrıcını birinci keçməlisiniz.

(m.77pIV)



III.Sürücü dayanma qaydasını pozmuşdurmu?

- 1.Hə.
- 2.Yox.

(m.52pIV-4)



IV.Bu nişan sizə nəyi xəbərdar edir?

- 1.500 m-dən sonra təhlükəli döngələrin olması.
- 2.Nişandan başlayaraq 500 m uzunluğunda təhlükəli döngələrin olması.
- 3.Nişandan 150-300m uzaqda uzunluğu 500m olan təhlükəli döngələrin olması.

(m.68)



V.Motosikleti ötməyə icazə verilirmi?

- 1.Hə.
- 2.Yox.
- 3.Ancaq yol ayrıcını keçdikdən sonra icazə verilir.

(m.51pV)



VI.Bu yol neçə hərəkət zolağından ibarətdir?

- 1.Bir.
- 2.İki.
- 3.Dörd.

(m.1p7)

VII. Hərəkət zamanı spidometr sıradan çıxarsa siz nə etməlisiniz?

1. İş gününü başa çatdırmalıyam.
2. Hərəkəti dayandırmalıyam.
3. Təhlükəsizliyi təmin etməkdə parklanma yerinə və ya təmir məntəqəsinə getməliyəm. (1 sayılı əlavə)

VIII. Dəmiryol keçidindən ən azı nə qədər uzaqlaşdıqdan sonra geri dönməyə icazə verilir?

1. 30 metr.
2. 50 metr.
3. 100 metr.
4. Hər üçündə icazə verilir.

(M 42 p XII)

IX. Birtərəfli yolda işarələnmiş piyada keçidindən ən azı neçə metr uzaqlaşdıqdan sonra dayanmağa icazə verilir?

1. 5 metr.
2. 10 metr.
3. Keçən kimi dayanmağa icazə verilir.

(M 52 p IV-V)

X. Səkilərdə hansı NV-nin durmasına icazə verilir?

1. Minik avtomobillərinin və motosketlərin
2. Minik avtomobillərinin motosketlərin və maksimal kütləsi 3.5 tona qədər olan yük avtomobillərinin.
3. Heç birinə icazə verilmir.

(M 52 p II)



I. Siz düz getmək üçün kimə yol verməlisiniz?

1. Ancaq tramvaya.
2. Ancaq minik avtomobilinə.
3. Hər iki nəqliyyat vasitəsinə.

(m.77pIII)



II. Oxla göstərilən yerdə dayanmağa icazə verilirmi?

1. Hə.
2. Yox.

(m.69p4 və m.52p10)



III. Yoxuşun axırında ötməyə keçməyə icazə verilirmi?

1. Qarşı hərəkət zolağına çıxmaq şərti ilə verilir.
2. Heç bir halda verilmir.

(m.51 V-6)



IV. Hansı zolaqda hərəkət etməyə icazə verilir?

1. Ancaq sağda.
2. Sağda və ortada.
3. İstənilən zolaqda.

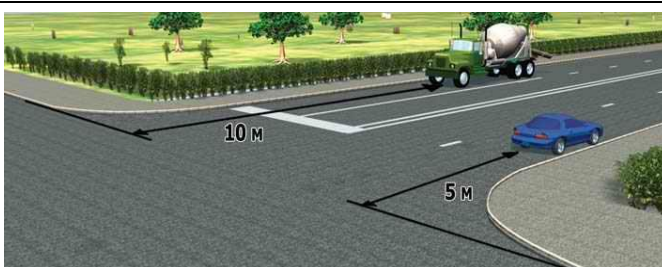
(m.49pI)



V. Hansı sürücü yol verməlidir?

1. Səki qırağından hərəkətə başlayan sürücü.
2. Dayanmaq üçün səki qırağına yaxınlaşan sürücü.

(m.42pI)



VI. Dayanma qaydasını hansı sürücü pozmuşdur?

1. Yük avtomobilinin sürücüsü.
2. Minik avtomobilinin sürücüsü.
3. Hər iki sürücü.
4. Heç biri.

(m.52pIV-3)

VII. Dağ yollarında hansı birləşdirici ilə yedəyə almağa icazə verilir?

1. Bərk birləşdirici ilə.
2. Yumşaq birləşdirici ilə.
3. Hər ikisi ilə.

(M 55 p VI)

VIII. Sutkanın qaranlıq vaxtı yedəyə alınan NV-in hansı işıqları yandırılmalıdır?

1. Faraların yaxın işıqları və arxa qabarit işıqları.
2. Faraların uzaq işıqları və qabarit işıqları.
3. Ancaq qabarit işıqları.

(M 73 p III-2)

IX. "Dayanmaq qadağandır" nişanı hansı NV-nə şamil edilmir?

1. Marşrut üzrə işləyən ictimai NV-nə.
2. I və II qrup əlillərin idarə etdiyi əlil işarəsi olan NV-nə.
3. Hər ikisinə şamil edilir.
4. Heç birinə şamil edilmir.

(M 64 p V-2)

X. NV-dən yolun hərəkət hissəsinə düşən yük maneə yaratdıqda sürücü nə etməlidir?

1. Onu dərhal aradan götürməlidir.
2. Aradan götürmək mümkün olmadıqda, qəza dayanma nişanı qoymalıdır.
3. Sürücü dərhal DYP-ə xəbər verməlidir.

(m55pVII)



I. Nəqliyyat vasitələrindən hansı hərəkəti davam etdirə bilər?

1. Avtobus.
2. Minik avtomobili.
3. Hər ikisi.
4. Heç biri.

(m.58pII)



II. Siz sola dönrəkən kimə yol verməlisiniz?

1. Ancaq avtobusa.
2. Ancaq minik avtomobilinə.
3. Heç kimə.

(m.77pII)



III. Sizə hansı istiqamətə hərəkəti davam etdirməyə icazə verilir?

1. Düz, sola və geri.
2. Sola və düz.
3. İstənilən istiqamətlərə.

(m.66)



IV. Hansı sürücü qaydanı pozur?

1. Hər ikisi.
2. Ancaq A.
3. Ancaq B.
4. Heç biri.

(m.69p11)



V. Göstərilən vəziyyətdə hər üç nəqliyyat vasitəsini bir başa ötməyə icazə verilirmi?

1. Hə.
2. Yox.

(m.51pV-2)



VI. Körpünün üstündə dayanıb sərnəşin mindirmək olarmı?

1. Hə.
2. Yox.

(m.52pIV-2)

VII. Sutkann işıqlı vaxtı ictimai NV-nin sürücüsü hansı nişan quraşdırılmış yolla hərəkət etdikdə faraların yaxın işığı yandırmaqlıdır?

1. "Hərəkət qadağandır".
2. "Giriş qadağandır".
3. Hər ikisində yandırmaqlıdır.

(M 73 p V-6)

VIII. Süni işıqlandırılan tuneldə NV-nin hansı işıqları yandırmaqlıdır?

1. Faraların yaxın işıqları.
2. Faraların yaxın və ya uzaq işıqları və arxa qabarit işıqları.
3. İşıqların yandırılmasına ehtiyac yoxdur.

(M 73 p III-1)

IX. Tunelin qarşısında yol kənarında texniki nasazlığa görə məcburu dayanan NV-nin sürücüsü qəza dayanması işıq siqnalını yandırmaqlıdır?

1. Hə.
2. Yox.

(M 52 p IV-2)

X. Dayanmaq hansı yerlərdə qadağan olunmur?

1. Tuneldə.
2. Dəmiryol keçidinə 10 m qalmış.
3. Səkilərdə.
4. Bütün göstərilən yerlərdə.

(M 52 p IV)



I. Belə vəziyyətdə siz qarşıdan gələn avtomobilə yol verməlisinizmi?

1. Hə.
2. Yox.

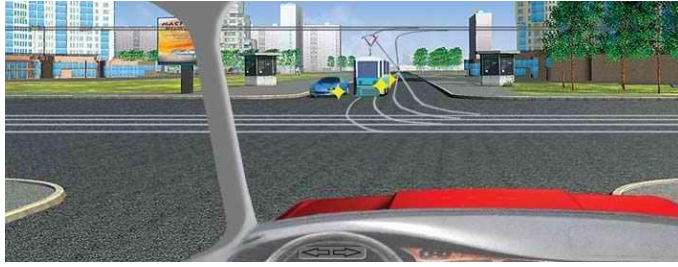
(m.51pVII)



II. Sola dönmək üçün siz minik avtomobilinə yol verməlisinizmi?

1. Hə.
2. Yox.

(m.77pIII)



III. Siz yol ayrıcından düz getmək üçün kimə yol verməlisiniz?

1. Ancaq tramvaya.
2. Tramvay və minik avtomobilinə.
3. Heç birinə.

(m.77pIII)



IV. Siz yol ayrıcına daxil olarkən:

1. Hər iki nəqliyyat vasitəsinə yol verməlisiniz.
2. Yol ayrıcını birinci tərək etməlisiniz.

(m.42p15)



V. Bu vəziyyətdə qəza dayanma nişanı nəqliyyat vasitələrindən nə qədər aralı qoyulmalıdır?

1. 15 m.
2. 30 m.
3. 50 m.
4. 100 m.

(m.55pIII)



VI. Sola dönərkən kimə yol verməlisiniz?

1. Ancaq qarşıdan gələnə.
2. Hər iki NV-nə.

(m.77pIII)

VII. Avtomobilin yana sürüşməsinin qarşısını almaq üçün sürücü nə etməlidir?

1. Sükan çarxını sürüşmənin əksinə fırlatmalıdır.
2. Sükan çarxını sürüşmə istiqamətinə fırlatmalıdır.

VIII. Hər istiqamətdə azı iki hərəkət zolağı olan iki tərəfli yollarda qarşıdan hərəkət üçün nəzərdə tutulmuş zolağa keçmək olarmı?

1. Olar.
2. Ancaq ötmə zamanı olar.
3. Heç bir halda olmaz.

(M 49 p II)

IX. Hansı estakadaların altında dayanmağa icazə verilir?

1. Eyni istiqamətə iki hərəkət zolağı olan.
2. Eyni istiqamətə üç hərəkət zolağı olan.
3. Hər ikisində icazə verilir.
4. Heç bir halda icazə verilmir.

(M 52 p IV)

X. Qatar gəlmirsə dəmiryol keçidinə 5 metrədən yaxın məsafədə dayanmaq olarmı?

1. Hə.
2. Yox.

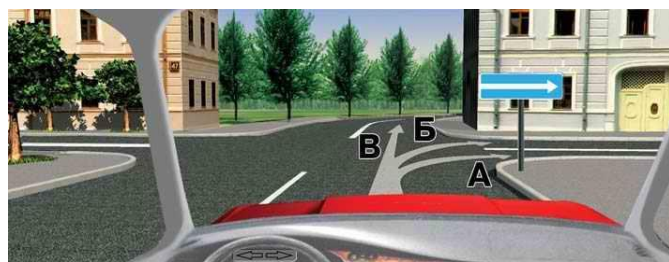
(M 44 p IV)



I. Bu vəziyyətdə siz:

1. Başqa nəqliyyat vasitəsi yoxdursa dayanmadan keçib getməlisiniz.
2. Nişanın qarşısında dayanmalısınız.
3. Stop xətti qarşısında dayanmalısınız.

(m.60pII)



II. Hansı traektoriya üzrə hərəkəti davam etdirmək olar?

1. Ancaq A.
2. A və ya B.
3. Göstərilən bütün istiqamətlərə.

(m.42pVII)



III. Yol ayrıcını düz keçmək üçün:

1. Stop xəttində dayanıb yaşıl işıq yanmasını gözləməliyəm.
2. Minik avtomobilinə maneə törətmədən hərəkəti davam etdirməliyəm.

(m.76pII)



IV. Minik avtomobilinin sürücüsü hərəkətə başlaya bilərmi?

1. Hə.
2. Yox.
3. Yük avtomobilinin hərəkətinə maneə törətmirsə başlaya bilər.

(m.42pI)



V. Avtomobil göstərilən yerdə dura bilərmi?

1. Hə.
2. Yox.

(m.52pIV-8)



VI. Bu vəziyyətdə sola dönmək üçün dönmə işarəsini vermək lazımdırmi?

1. Lazımdır.
2. Ehtiyac yoxdur.

(m.42pI)

VII. Yedəklə hərəkət edən NV-i hansı sürətlə hərəkət edən NV-ni ötə bilməz?

1. 30 km/saat.
2. 40 km/saat.
3. 50 km/saat.
4. Hər üçündə ötə bilər.

(M 50 p II-6)

VIII. Nəqliyyat vasitəsinin hərəkət trayektoriyaları kəsişdikdə keçmənin növbəliliyi qaydalarda göstərilmədikdə hərəkət üstünlüyü kimə verilir?

1. Sağ tərəfdən yaxınlaşmaqda olan NV-nə.
2. Sol tərəfdən yaxınlaşmaqda olan NV-nə.
3. Qarşıdan gələn NV-nə.

(m 42pX)

IX. Ötmə nədir?

1. Hərəkət zolağını dəyişməklə bir və ya bir neçə NV-ni ötüb keçməkdir.
2. Qarşı hərəkət zolağına çıxmaqla bir və ya bir neçə NV-ni ötüb keçməkdir.
3. Hər ikisi ötmədir.

(M I p 39)

X. Məhdudiyətli görünmə:

1. Yolun 400 metrdən az görünməsidir.
2. Yolun 500 metrdən az görünməsidir.
3. Yolun 300 metrdən az görünməsidir.
4. Hər üçü məhdudiyətli görünmədir.

(M I p 42)



I. Göstərilən yerdə dayanmaq olarmı?

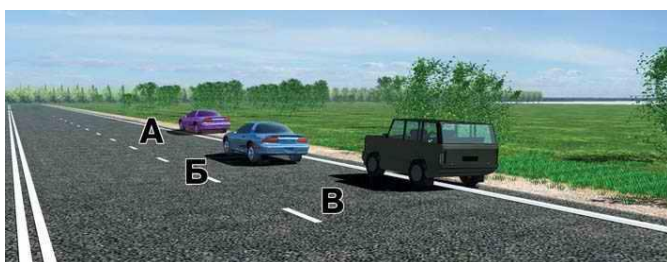
1. Marşrut nəqliyyat vasitələrinə maneə törədilmədikdə olar.
2. Ancaq sənişin mindirib-düşürmək üçün olar.
3. Olmaz.

(m.48pIV)



II. Əgər bütün nəqliyyat vasitələri düz getmək istəyirsə kim birinci hərəkətə başlamalıdır?

1. Yüklə avtomobili və motosiklet.
2. Trolleybus və siz.
3. Yol hərəkət qaydalarında belə vəziyyətin izahı olmadığına görə, kimin birinci keçməsinə sürücülər razılığa gəlməlidirlər.



III. Hansı sürücü dayanma qaydasını pozmuşdur?

1. Ancaq A.
2. B və B.
3. Hər üçü pozmuşdur.

(m.52pl)



IV. Sizə hansı istiqamətə getməyə icazə verilir?

1. Ancaq sağa.
2. Düz və sağa.
3. Ancaq düz.

(m.58pII-1,6)



V. Sola dönmək üçün kimə yol verməlisiniz?

1. Ancaq avtomobilə.
2. Ancaq tramvaya.
3. Hər ikisinə.
4. Heç birinə.

(m.76pl)



VI. Şəkildəki vertikal xətlər nəyi göstərir?

1. Yol qurğularının təhlükə törədə bilən elementini.
2. İşıqlandırılmayan tunelin girişini.
3. Köprülərin və estakadaların aşağı kənarını.

(m.69pIX)

VII. Sutkanın qaranlıq vaxtı nədir?

1. Yolun 200 metrədən az görünməsi.
2. Yolun 100 metrədən az görünməsi.
3. Sutkanın günəş batandan günəş çıxanaq olan müddətidir.
4. Hər üçü sutkanın qaranlıq vaxtı sayılır.

(M I p 48)

VIII. Aşağıdakılərdən hansı yaşayış zonası adlanır?

1. Giriş və çıxışları müvafiq olaraq 5.22 və 5.23 nişanları ilə işarələnmiş ərazi.
2. Giriş və çıxışları müvafiq olaraq 5.24 və 5.25 nişanları ilə işarələnmiş ərazi.
3. Giriş və çıxışları müvafiq olaraq 5.51 və 5.52 nişanları ilə işarələnmiş ərazi.
4. Hər üçü yaşayış zonasıdır.

(M I p 49)

IX. Hərəkət sürəti hansı həddən aşağı olan NV-nin dəmiryol keçidlərindən keçməsinə icazə verilmir?

1. 8 km/saat.
2. 20 km/saat.
3. 10 km/saat.

(M 44 p 3)

X. Hansı körpülərin üstündən geri dönməyə icazə verilir?

1. Eyni istiqamətə azı iki hərəkət zolağı olan.
2. Eni istiqamətə üç və üçdən çox hərəkət zolağı olan.
3. Heç birindən icazə verilmir.

(M 42 p XII)



I. Siz yanıb-sönən sarı işıqla düz getmək üçün:

1. Dayanıb svetoforun yaşıl işığının yanmasını gözləməlisiniz.
2. Qarşıdakı avtomobillə eyni zamanda yol ayrıcını keçməlisiniz.
3. At arabasına yol verib getməlisiniz.

(m.75pIV)



II. Hansı nəqliyyat vasitəsi qaydanı pozur?


1. Minik avtomobilinin sürücüsü.
2. Yüklü avtomobilinin sürücüsü.
3. Heç biri.

(m.42pVII)



III. Sola dönmək üçün siz:

1. Stop-xətti qarşısında dayanıb nizamlayıcının sola dönmə işarəsini gözləməlisiniz.
2. Yol ayrıcına daxil olub, qarşıdan gələn nəqliyyatı buraxıb dönməlisiniz.
3. Yol ayrıcına daxil olub nizamlayıcının sola dönmə işarəsini gözləməlisiniz.



IV. Göstərilən yerlərin hansında dayana bilərsiniz?

1. Ancaq A.
2. Ancaq B.
3. Ancaq B.
4. Hər üçündə.

(m.52pI)



V. Siz belə vəziyyətdə sağa dönməni düzgünmü yerinə yetirirsiniz?

1. Hə.
2. Yox.

(m.42pVII, VIII)



VI. Siz düz gedərkən tramvaya yol verməlisinizmi?

1. Hə.
2. Yox.

(m.58pII)

VII. "Avtomobillər üçün yol" nişanında minik avtomobilinin maksimal sürəti ola bilər:

1. 90 km/saat.
2. 100 km/saat.
3. 110 km/saat.

(M 50 p II-2)

VIII. Ötmək qadağan olunmayan yollarda qarşı hərəkət zolağına çıxmaqla ötməyə icazə verilirmi?

1. Hər istiqamətə bir hərəkət zolağı olduqda verilir.
2. Hər istiqamətə azı iki hərəkət zolağı olduqda verilir.
3. Hər iki halda icazə verilir.

(M 49 p II)

IX. Üç hərəkət zolağı olan ikitərəfli hərəkət yollarında yolun hərəkət hissəsinin mərkəzində yerləşən orta zolağa hansı hallarda keçmək olar?

1. Ötmə, yandan keçmə, sola və ya geri dönmək üçün.
2. Ötmə, yandan keçmə, sola, sağa və geri dönmək üçün.
3. Hər iki halda olar.

(M 49 p III)

X. Hansı halda sürücü ötmənin sonunda əvvəl tutduğu hərəkət zolağına qayıtmalıdır?

1. Sol tərəfdən ötmə hallarında.
2. Sağ tərəfdən ötmə hallarında.
3. Hər iki halda.

(M 49 p III)



I. Sağ zolaqdan sol zolağa keçmək istəyən sürücülərdən hansı keçid üstünlüyünə malikdir?

1. Sağdakı.
2. Soldakı.
3. Hər ikisi.

(m.42pV)



II. Düz gedərkən yük avtomobilinə yol verməlisiniz?

1. Hə.
2. Yox.

(m.77pIII)



III. Sizə göstərilən yerdə dayanıb sərnişin götürməyə icazə verilirmi?

1. Verilmir.
2. Əgər marşrut nəqliyyat vasitələrinə mançilik törədilmirsə verilir.
3. Bütün hallarda verilir.

(m.52pIII-4)



IV. Sizə reversiv hərəkət zolağına keçməyə icazə verilirmi?

1. Verilir.
3. Verilmir.

(m.59pVIII)



V. Siz burada dayanıb sərnişin götürə bilərsinizmi?

1. Hə.
2. Yox.

(m.52pIV)



VI. Qırıq-qırıq xətlərin ölçüsünün uzanması sizə nəyi xəbərdar edir?

1. Qırıq-qırıq xətlərin qarşıda bütöv xətlə əvəz olunmasını.
2. Yolun təhlükəli hissəsinə yaxınlaşmasını.
3. Qarşıda yolun ensizləşməsinə.

(m.69pVI-6)



1



2

VII. Bu nişanların hansının qüvvəsi yolun yalnız nişan qurulmuş tərəfinə şamil edildir?

1. Birinci.
2. İkinci.
3. Hər ikisi.

(m.64pIX)



1



2

VIII. Bu nişanların hansının qüvvəsi yolun yalnız nişan qurulmuş tərəfinə şamil edildir?

1. Birinci.
2. İkinci.
3. Hər ikisi.

(m.64pIX)

IX. Dağ yollarında qoşqulu NV-nin hərəkətinə icazə verilirmi?

1. Verilir.
2. Yol buz başladıqda verilmir.
3. Bütün hallarda verilmir.

(M 55 p VI)

X. Dairəvi hərəkət təsvir edilmiş yol ayrıcısına hansı zolaqdan daxil olmağa icazə verilir.

1. Ancaq sağ zolaqdan.
2. Ancaq sol zolaqdan.
3. Hər iki zolaqdan

(m.42pVI)



I. Siz sola dönrəkən avtomobilə yol verməlisinizmi?

1. Hə.
2. Yox.

(m.77pIII)



1



2

II. Bu nişanların hansında NV-nin hərəkət sürəti saatda 60 kilometrədən zox ola bilər?

1. Birincidə
2. İkincidə
3. Heç birində



1



2

III. Bu nişanların hansının qüvvəsi qoyulduğu yerdən birinci yol ayrıcılığına qədərdir?

1. Birincinin.
2. İkincinin.
3. Hər ikisinin.
4. Heç birinin.

(m.64pVI)



1



2

IV. Bu nişanların hansında yük avtomobilinə ötməyə icazə verilir.

1. Birincinin.
2. İkincinin.
3. Hər ikisinin.

(m.64)



1



2

V. Təhlükəlim zonanın sonunda qarşı hərəkət zolağına çıxmaqla ötməyi qadağan edən nişan hansıdır?

1. Birinci.
2. İkinci.

(m.62)



1



2

VI. Bu nişanların hansı yük avtomobillərinin ötməsini qadağan etmir?

1. Birinci.
2. İkinci.
3. Heç biri qadağan etmir.



1



2

VII. Bu nişanların hansında yük avtomobillərinə ötməyə icazə verilir?

1. Birincidə.
2. İkincidə.
3. Heç birində.

IX. Haralarda NV-nə yolların hərəkət hissəsində durmağa icazə verilir?

1. Yaşayış məntəqələrində.
2. Yaşayış məntəqələrindən kənarında.
3. Hər ikisində icazə verilir.
4. Heç birində icazə verilmir.

(m.52pVI-2)



1



2

VIII. Bu nişanların hansında əks istiqamətli zolağa keçməkləç ötməyə icazə verilir?

1. Birincidə.
2. İkincidə.
3. Hər ikisində.

X. Maksimal kütləsi 3.5 tondan çox olan NV-ni yoxuşda və ya enişdə duracağa qoyduqda sürücü nə etməlidir?

1. Duracaq-tormoz sistemini işçi vəziyyətə gətirməlidir.
2. Təkərlərin altına tıxac qoymalıdır.
3. Hər hansı birini etməlidir
4. Hər ikisini etməlidir.

(m52.pV)

CAVABLAR

№	I	II	III	IV	V	VI	VII	VIII	IX	X
1	2	1	3	1	2	2	2	2	3	3
2	1	1	3	3	1	2	4	1	2	2
3	1	2	2	2	3	1	3	1	2	3
4	1	1	2	2	1	2	2	1	2	3
5	1	4	2	2	2	3	1	4	3	1
6	2	2	1	2	1	2	2	2	3	1
7	1	5	1	2	3	3	2	1	2	3
8	2	3	1	3	1	2	1	2	1	3
9	1	3	1	2	1	3	1	2	1	2
10	2	3	2	4	1	3	1	2	1	1
11	1	2	3	2	1	3	1	3	3	1
12	2	4	3	3	1	1	1	2	1	2
13	2	1	2	2	3	2	3	3	4	3
14	2	2	3	1	3	3	1	4	1	2
15	1	3	1	2	3	3	2	5	1	1
16	4	3	1	1	3	2	1	2	2	2
17	1	1	1	1	1	2	2	2	2	2
18	1	2	3	1	3	2	1	1	1	3
19	4	4	2	3	5	2	1	2	2	2
20	2	3	1	3	2	2	1	2	3	2
21	1	1	1	2	4	1	1	2	2	3
22	1	2	3	1	2	4	3	3	2	2
23	1	3	1	1	3	1	2	2	4	3
24	3	2	2	2	2	1	2	2	3	4
25	2	2	1	2	1	3	3	2	3	1
26	1	2	2	1	2	3	3	1	2	1
27	1	4	2	2	1	2	2	2	2	2
28	1	3	2	1	1	1	1	2	3	1
29	1	3	3	1	1	1	3	2	3	3
30	1	1	4	3	2	1	2	3	3	2
31	3	2	2	1	2	2	2	2	3	3
32	2	1	1	1	3	1	4	2	2	3
33	2	2	2	1	1	2	1	2	2	3
34	2	3	2	3	3	1	4	1	1	2
35	3	1	3	2	1	1	2	4	1	4
36	2	2	2	2	2	2	1	3	1	3
37	1	1	1	2	3	1	2	4	3	4
38	2	3	2	3	1	3	1	1	2	1
39	2	1	1	1	3	3	1	1	3	1
40	2	2	2	3	2	3	2	1	2	2
41	2	3	3	2	1	4	2	2	3	2
42	1	1	1	3	2	3	2	1	3	3
43	1	2	1	3	1	2	2	1	3	1
44	2	1	3	3	3	3	2	2	1	3
45	2	2	1	3	1	1	3	2	3	1
46	2	1	2	3	3	1	4	1	2	1
47	3	1	4	4	2	2	1	4	1	2
48	2	2	2	2	1	1	2	1	1	3
49	3	1	1	2	4	3	1	2	2	3

№	I	II	III	IV	V	VI	VII	VIII	IX	X
50	2	2	1	2	2	2	3	2	1	3
51	2	2	2	3	3	1	1	3	1	3
52	1	1	2	4	3	3	2	2	2	3
53	1	4	2	4	2	1	3	4	1	2
54	2	1	1	2	2	1	1	1	2	2
55	1	2	2	2	1	1	4	2	2	3
56	1	2	3	2	1	2	3	3	3	2
57	3	2	3	1	3	4	2	3	3	1
58	2	2	3	3	1	2	2	3	3	1
59	2	2	1	1	3	1	2	3	3	1
60	1	1	1	1	3	1	1	1	2	3
61	1	3	1	3	3	1	1	1	4	2
62	1	2	1	1	1	2	2	2	2	3
63	1	4	2	2	3	1	1	3	2	3
64	1	1	1	1	2	2	1	1	1	2
65	2	1	1	2	1	3	1	3	3	1
66	2	2	2	3	1	3	3	3	3	3
67	1	3	2	2	3	1	3	3	4	2
68	3	5	3	1	1	4	2	3	4	2
69	3	2	1	1	4	4	1	3	2	3
70	1	2	3	1	1	3	2	1	1	2
71	1	3	3	2	3	2	1	2	3	1
72	2	1	2	1	1	2	4	2	1	2
73	2	2	2	2	1	2	1	1	1	2
74	2	3	2	4	1	2	2	1	1	2
75	2	2	1	2	3	3	3	3	1	2
76	3	3	4	1	1	3	2	2	2	5
77	3	1	1	2	2	2	1	2	1	1
78	3	3	2	3	1	2	3	4	3	1
79	1	3	1	3	3	2	1	2	2	3
80	3	2	3	3	1	3	2	3	2	4
81	1	1	2	1	2	2	1	3	3	2
82	3	2	3	3	1	3	1	4	2	3
83	3	2	3	1	2	3	4	2	3	4
84	2	1	2	2	2	4	4	2	3	2
85	2	2	3	3	2	3	1	1	3	3
86	2	1	1	2	3	2	3	1	2	1
87	1	2	4	1	3	1	2	3	2	2
88	2	2	3	1	2	2	3	1	2	3
89	1	1	1	2	2	3	2	2	1	1
90	2	1	3	1	2	1	3	3	3	3
91	1	3	1	3	2	3	2	3	4	1
92	3	2	1	3	1	3	3	4	1	3
93	1	1	1	1	1	1	3	3	3	2
94	3	3	1	2	1	2	2	2	2	2
95	1	1	1	1	2	2	2	3	4	1
96	3	2	2	3	2	1	3	1	3	3
97	3	3	2	2	3	3	3	3	1	3
98	3	1	1	2	1	2	1	1	1	1
99	1	1	1	1	2	1	3	2	1	3
100	2	2	2	3	2	3	3	2	1	4